



ЛІТНЯ ШКОЛА

МАЙБУТНЬОГО ТРЕТЬОКЛАСНИКА НУШ

*Щоденні завдання
на 6 літніх тижнів*

ЛІТО З КОРИСТЮ

2020р.
Бурор Л. І.



Передмова для батьків

Під час літніх канікул читання погіршується більш ніж у 50% учнів, письмо - у 67%, а обчислювальні навички - у 75% учнів.

Для того, щоб зберегти рівень навчальних умінь та навичок, досить тренуватися щоденно 20 хвилин під час літніх канікул. Ця закономірність закладена в основі організації літніх занять у багатьох країнах світу.

Ця ж закономірність закладена в основі роботи даної збірки завдань, яка налічує 30 завдань, розрахованих на 6 літніх тижнів (з 13 липня по 21 серпня), по 5 занять на тиждень.



Тривалість тренувань орієнтовна:

- триразове читання тексту 3 хвилини
- переписування - 5 хвилин (слідкувати за привильним написанням літер)
- обчислення прикладів - 5 хвилин
- обчислення задачі - 7 хвилин

Всього 20 хвилин.



Зверніть увагу на наступне:

- чи зрозумілий текст дитині
- чи зменшується час при читанні за три рази
- чи правильне написання великих та рядкових літер, чи збільшалася швидкість письма за останні заняття
- чи зменшилися витрати часу на математичні обчислення та кількість помилок.





Передмова для дітей

Любі мої діти!

Перша вправа - читання!

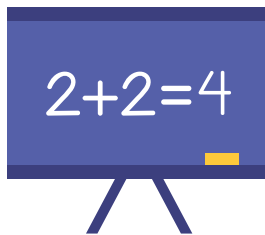


Текст треба читати тричі, кожного разу визначати, скільки часу витрачається. У цьому вам допоможуть дорослі. Витрачений час буде зменшуватися, тому що буде збільшуватися швидкість читання. Намагайтеся, щоб швидкість читання не зменшувалася з 50 слів за хвилину.



Друга вправа - письмо.

Прочитаний текст треба охайно та уважно переписати упродовж 5 хвилин. Після закінчення часу, можна дописати до крапки. Порахувавши кількість букв та поділивши їх на 5, отримаємо швидкість письма. Щодня швидкість письма буде збільшуватися. Вона має бути не менш 30 букв за хвилину.



Третя вправа - математика.

При розв'язуванні задачі, роби все як звично. Не забувай про пояснення та відповідь.

При щоденних тренуваннях витрати часу на обчислення прикладів та задачі зменшаться до 7 хвилин.



Завдання 1



Подорожник

Подорожник зустрічається на узбіччі доріг, на луках, поблизу помешкання, на узліссі. Заготовляють подорожник під час цвітіння. При цьому намагаються не пошкодити коріння. Сушать листя подорожника на горищах чи під іншим накриттям. Подорожник вживають для лікування різних хвороб.



$42-21=$

$3 \times 8=$

$98-46=$

$2 \times 3=$


$64+22=$

$12:3=$

$32+47=$

$10:2=$

Олівець коштує 5 грн, а ручка – втричі дорожче.
Скільки гривень коштує олівець і ручка разом?






Завдання 2

Оціни себе



Білка

Надійшла осінь. Листя на деревах стало жовтіти і падати на землю. Догоряють у квітниках яскраві літні квіти. Білка почала готуватися до зими. Вона збирала і сушила на сучках гриби. Носила насіння, жолуді та горіхи. Усе це ховала білка в своєму дуплі. Багато різної їжі запасла білка на зиму. Добре підготувалася лісова ласунка до зими .



$61+11=$

$76-33=$

$16=31=$

$72-20=$


$3 \times 6=$

$2 \times 5=$

$15:3=$

$18:2=$

Іграшковий ведмедик коштує 18 грн, а зайчик – наполовину дешевше. Скільки гривень коштують обидві іграшки?



Бурор Л. І.



Завдання 3


Оціни себе



Українське село

Мальовниче українське село. Спить земля під крилами вітрів. За селом блукає синій туман. Сумно плаче стара верба над тихим ставом. А сонний очерет заспокоює її.

На небі засяяв повний місяць. Висипали поряд цяточки зірок. Милий куточок рідного краю.



$32+23=$

$12+45=$

$48-24=$

$30+21=$


$3 \times 5 =$

$2 \times 7 =$

$9 : 3 =$

$14 : 2 =$

У кіоск привезли 6 ящиків яблук, по 8 кг у кожному, і 3 ящики груш по 7 кг у кожному. На скільки більше привезли яблук, ніж груш ?



Бурор Л. І.



Завдання 4

Оціни себе



Пасіка

У вишневому саду стоїть велика пасіка. Рівними рядами розташувались маленькі дерев'яні будиночки. Це велика пасіка. У вуликах живуть дружні бджолині сім'ї. Бджоли дуже працюють. З раннього ранку до пізнього вечора збирають вони солодкий нектар. У вуликах бджоли перетворюють його на запашний мед.

Мед корисний дорослим і дітям для здоров'я. Обов'язково їжте його!




$$12+86-62=$$

$$8:2+77=$$

$$2 \times 4 + 82 =$$

$$3 \times 3 + 85 =$$

Із 15 ромашок дівчинка склала 5 букетів. Скільки ромашок у восьми таких букетах?



Бурор Л. І.



Завдання 5


Оціни себе



На перерві

Закінчився урок читання. Почалася велика перерва. День видався чудовий. Усі учні вийшли на шкільне подвір'я. Тільки Василько та Мар'янка залишились у класі. Вони сьогодні чергові.

Діти провітрили класну кімнату. Мар'янка полила квіти. Разом з Васильком вона підготувала все потрібне до наступного уроку.



$42+14=$

$99-66=$

$27+48=$

$31+17=$

$3 \times 7 =$

$3 \times 9 =$

$16:2=$

$21:3=$

Оленка прочитала 20 сторінок книжки, Марійка у 5 разів менше.
Скільки сторінок прочитали дівчатка разом?



Бурор Л. І.



Завдання 6

Оціни себе



Синичка

Випав перший сніг. Діти повісили на березі годівничку. Прилетіла до неї жвава синичка. Схопила в дзьоб гарбузове насіння і ну його клювати. А тут і горобці з'явилися у їдальні. Угледіла синичка їх на годівничці. Заметушилась і пір'я настовбурчила. Присіла біля насіння, дзьобом сердито клацає.

Подзьобали горобці крихт на землі та й полетіли далі.



$36+52=$

$25+32=$

$40-22=$

$31+63=$


$5 \times 4 =$

$24:6=$

$35:5=$

$9 \times 4 =$

У 6 однакових ящиків розклали 30 кг бананів. Скільки таких ящиків знадобиться, щоб розкласти 20 кг бананів?





Завдання 7

Оціни себе



Зустріч у лісі

Іду ліском та дивлюсь, чи не достигли на ліщинах горішки. Глянув на стежку і побачив кроків за десять од мене лисичку. Мордочка в неї гостра, хвіст довгий, пухнастий. Я не злякався, дивлюсь на неї.

А лисичка поглядає на мене і носиком нюхає. Потім плиг у кущі. То тільки й бачив.



$39-17=$

$38-27=$

$77-53=$

$79+14=$


$4 \times 7 =$

$8 \times 3 =$

$12 : 6 =$

$28 : 4 =$

Три богатирі ідуть купати коней. Кожен богатир несе на собі по 2 коней, а ще 12 коней ідуть слідом. Скільки коней купатимуть богатирі?



Бурор Л. І.




Завдання 8

Оціни себе



Ожеледь

Треба бути обережним під час ожеледі. Земля вкривається крижаною кіркою. Люди повільно крокують по вулицях. Тільки діти пробують бавитися. Ось один малюк змахнув руками та впав на дорозі. Друзі кинулися йому допомагати. Хлопчик підвівся і зняковів. Тепер буде обережним.



$$21+(46-11)=$$

$$53+(36+4)=$$

$$74-(51+15)=$$

$$42-(26-13)=$$

У зоопарку живе 25 фазанів, а страусів - у 5 разів менше. На скільки менше фазанів, ніж страусів, живе у зоопарку?





Завдання 9


Оціни себе



Рідний край

Біля твоєї хати цвітуть мальви. Вузенька стежка біжить до криниці. Там росте калина або шумить молоденька тополя. За хатою цвітуть вишні і яблуні.

З поля вітерець доносить запах жита і гречки. Долітає гуркіт моторів. Там працює твій батько. Звідси починається Батьківщина.



$81+18=$

$63-24=$

$28+35=$

$54-37=$


$6 \times 7 =$

$3 \times 7 =$

$27:3=$

$42:7=$

Брат заплатив за зошит ціною 42 грн 9 купюр по 5 грн. Скільки гривень здачі він отримає?



Бурон Л. І.



Завдання 10

Оціни себе



У степу

Був чудовий липневий день. Блакитне небо дихало на землю теплом. Вітер доносив із степу пахощі стиглого зерна.

Раптом над горизонтом нависла темна хмара. Вона швидко наближалась. І ось до землі летять перші дощові краплини. Після них широкою чарівною музикою зашуміла злива. Засивіла дощем далечінь. На шляху заблищали калюжі. Земля знову набиралася сили.

$52+27=$

$85-66=$

$54+18=$

$44+24=$

$4 \times 8 =$

$9 \times 3 =$

$81:9 =$

$40:8 =$

У магазин привезли 7 однакових ящиків морозива загальною масою 56 кг. Яка маса одного ящика з морозивом?




Завдання 11

Оціни себе



Де зимують раки

Пізньої осені раки знаходять найглибші місця в річці, закопуються в мулі і там зимують. І морозу, навіть найлютішого, вони не бояться. Якщо річка промерзне до дна, раки не загинуть. Ті, що замерзнуть навесні поступово відтануть і оживуть.



$$2 \times 5 + 35 =$$

$$3 \times 4 - 8 =$$

$$10 : 2 + 46 =$$

$$18 : 3 + 26 =$$

У магазині на полиці стояло 26 ляльок, 12 зайчиків, а ведмедиків стільки, скільки ляльок і зайчиків разом. Скільки всього іграшок стояло на полиці?



Бурор Л. І.




Завдання 12

Оціни себе



Ластівка над вікном

Я прокидаюся під ластів'ячий щебет. Спочатку крізь сон чую чарівний спів. Згодом в очах прояснюється вікно. У вікні мерехтять сонячні зайчики. То ластівки тріпочуть крильцями. Ластів'ята попискують, а їхні батьки носять їм комашок. Я знаю, де вони сидять. У сіренькому гніздечку над вікном.



$25+44=$

$33+28=$

$93-57=$

$52+20=$

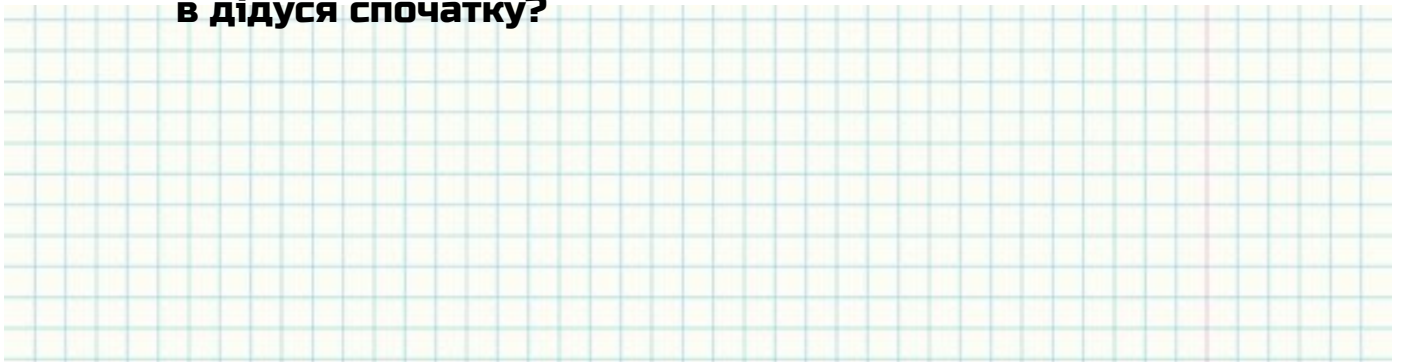
$6 \times 6=$

$4 \times 8=$

$18:3=$

$49:7=$

Коли дідусь витратив 8 грн, в нього залишилося у 8 разів більше грошей, ніж він витратив. Скільки гривень було в дідуся спочатку?





Завдання 13

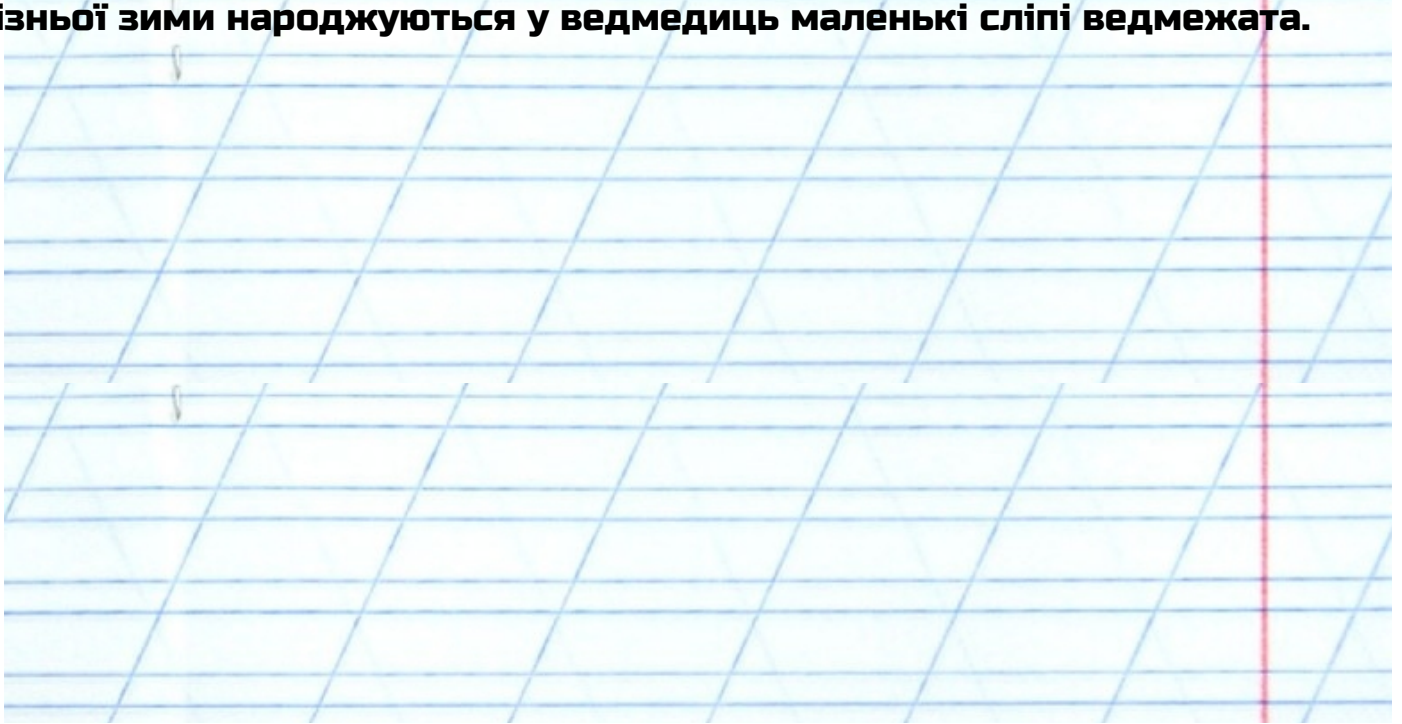
Оціни себе



У ведмежому лігві

Ранньої зими, коли тільки випаде сніг, залягають у свої лігва ведмеді. Старанно і вміло в лісовій глушині лаштують вони ці зимові барлоги. М'якою запашною хвоєю, корою молодих ялинок, сухим лісовим мохом ведмеді вистилають своє житло.

Як тільки цюкнуть у лісі морози, засинають у барлогах ведмеді. Пізньої зими народжуються у ведмедиць маленькі сліпі ведмежата.




$$3 \times 3 + 54 =$$

$$16 : 2 + 62 =$$

$$2 \times 9 - 16 =$$

$$27 : 3 + 46 =$$

У незвичайних перегонах брало участь 100 равликів. Шість загонів по 9 равликів поплили на листочках, а решта — іде пішки. Скільки пішоходів серед равликів?



Бурор Л. І.



Завдання 14


Оціни себе



ОСІНЬ

Прийшла осінь. У зелені коси беріз вплелися золотисті стрічки.
Червоним полум'ям горять, дикі груші.

Одного осіннього погожого дня школярі вийшли за село шипшину збирати. А шипшина - як ягоди винограду! Рубінові намистинки геть вкрили куці обабіч дороги. Тільки простягай руки і збирай скарб.



$62-23=$

$65+28=$

$34+49=$

$20+43=$


$5 \times 9 =$

$6 \times 4 =$

$21:7=$

$24:8=$

У чайному сервізі 6 чашок. На скільки більше чашок у 7 таких сервізах?



Бурор Л. І.



Завдання 15

Оціни себе




На вулиці

Пролунав дзвоник після останнього уроку. Гурт малечі висипав на вулицю. Сьогодні тут пильнують за порядком Іра й Люся.

Кілька малюків ганяли у дворі м'яча. Раптом м'яч викотився на дорогу. Мале хлоп'я побігло за ним

Завищали гальма. Ледве встигли дівчатка зупинити хлопчика. А могла трапитись біда.




$$3 \times 8 + 47 =$$

$$7 \times 7 + 14 =$$

$$38 + 20 : 2 =$$

$$25 + 14 : 2 =$$

На даху сиділо 4 пари голубів. Скільки всього голубів сиділо на даху?





Завдання 16

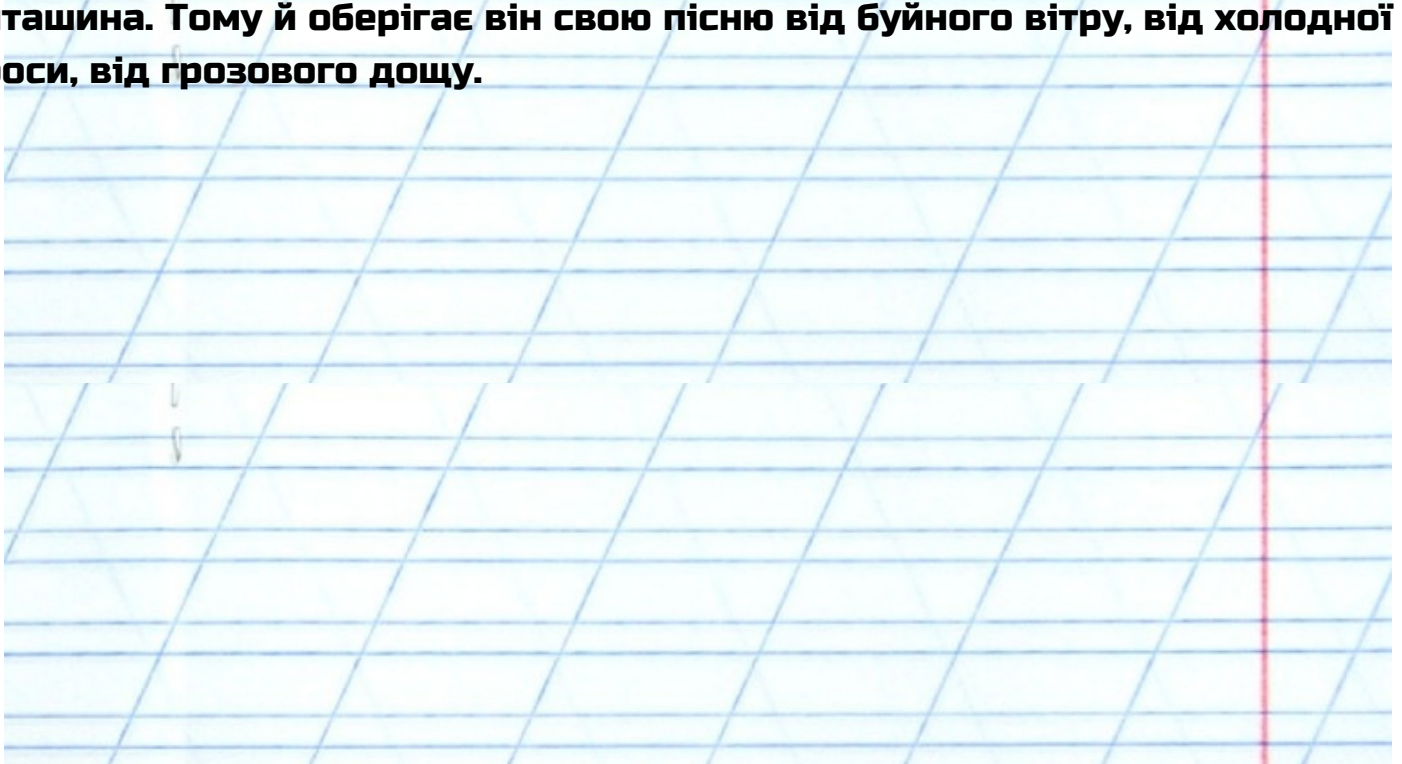
Оціни себе



Жайворонкова пісня

Цікаво, де живе жайворонкова пісня? Вона живе у весняному степу, над зораним полем, в зеленому роздоллі. І жайворонки ніколи не розлучаються з нею. Спить він у степу біля сірої грудочки землі. І пісня спочиває разом із стомленою пташкою.

Пісня для жайворонка – це головне в житті, то сама душа пташина. Тому й оберігає він свою пісню від буйного вітру, від холодної роси, від грозового дощу.



$30+28=$

$8 \times 7 =$

$32-24=$

$4 \times 9 =$


$59-36=$

$45:5=$

$85-68=$

$64:8=$

16 горіхів розклали на 2 однакові купки. По скільки горіхів у кожній купці?





Завдання 17

Оціни себе




Пернатий друг

Одного разу на березі річки в кущах Василько спіймав шпачка. Дідусь дозволив узяти пташеня додому, бо воно було ще мале і могло загинути.

Минув тиждень. Шпачок навчився трохи літати і все більше зникав до хлопчика. Вони стали справжніми друзями.

Тільки восени шпак разом з усіма полетів у теплі краї. Та весною він знову повернувся до свого друга.



$10+65=$

$49+29=$

$40+47=$

$77+18=$


$5 \times 4 =$

$0 \times 10 =$

$16:22=$

$30:5=$

Обчисли периметр квадрата зі стороною 2 см.



Бурор Л. І.



Завдання 18

Оціни себе



Ластівки

Був теплий сонячний ранок. У відчинені двері до нашої кімнати залетіли дві ластівки. Покружляли і вилетіли. Потім з'являлися ще кілька раз. Дзвіночками розсипався їхній веселий щебет. У куточку кімнати ластівки зліпили гніздо. Там вони вивели пташенят.

Ластівки дуже працьовиті й охайні. У їхньому гнізді завжди чистенько. У дзьобиках вони виносять сміття на подвір'я. Влітають до кімнати через відчинене вікно.

$81-33=$

$27+66=$

$60+24=$

$71-27=$

$8 \times 3=$

$6 \times 7=$

$4 \times 10=$

$70:10=$

У брата було 9 книжок, а в сестри – на 18 книжок більше. У скільки разів більше було книг у сестри, ніж у брата?



Завдання 19

Оціни себе



Весна у лісі

Радісна, гомінка і пахуча весна. Дзвінко співають птахи. Теплий вітер пробігає у верховітті. З'явилися паростки молодої трави. Голубими та білими пролісками вкрилися галявинки. Забігали по купинках мурашки. Вилетіли із зимового притулку перші джмелі.

Ліс одягається в зелене вбрання. Скоро зацвіте на узліссі черемха. Защебечуть дзвінкоголосі солов'ї. Прилетять і закують зозулі.

Гарна, радісна, весела весна в лісі.

$$39+(45-12)=$$

$$40+(37+11)=$$

$$37+(49+6)=$$

$$27+(90-42)=$$

У брата було 9 книжок, а в сестри – на 18 книжок більше. У скільки разів більше було книг у сестри, ніж у брата?



Завдання 20

Оціни себе




У полі

Настав час збирання хліба. Широкими ланами пропливають степові кораблі - комбайни. На високому сидінні під парасолькою сидить комбайнер. Це він один керує такою складною машиною.

Комбайн підрізає колосся, молотить його. Підїхала машина за зерном. А з другого боку комбайна вже лежить купка соломи. Хіба це не розумна машина?

На поля вийшла велика армія таких машин.



$91-26=$

$20+56=$

$46-38=$

$19+55=$

$9 \times 2 =$

$6 \times 0 =$

$18 : 3 =$

$27 : 9 =$

У кінозалі сиділо 5 дорослих людей, а дітей – у 8 разів більше. Скільки людей сиділо в кінозалі?



Бурор Л. І.



Завдання 21

Оціни себе



Їжачок прокинувся

Усю зиму спав їжачок у лісі під купою хмизу. Настала весна.

Весняне сонечко гріє землю. З'явилася зелена травичка.

Виліз їжачок із свого зимового лігва і почав чиститись. Він потерся об кущі та гілочки. Потім облизав себе язичком. Подивився їжачок навкруги, струснувся і побіг на полювання. Він полює за черв'яками, за жучками та мишами.




$$4 \times 2 + 63 =$$

$$54 + 3 \times 5 =$$

$$64 : 8 + 47 =$$

$$18 : 3 + 36 =$$

В одному ящику було 16 цибулини, а в другому – у 2 рази менше. Скільки всього було цибулин?



Бурор Л. І.



Завдання 22

Оціни себе



Господарка бору

Лісові доріжки занесло білим сніжком. Тихо в казковому лісі. Ось на галявині стоїть старий дуб. Він ховає в своєму дуплі руду білочку. Не страшний їй мороз. Ще восени запасла лісова господарка грибків і горішків.

Швидко стрибає білка з дерева на дерево. Ось уже в її кігтиках ялинова шишка. Любить поласувати білка ялиновим насіннячком.



$87-54=$

$56-28=$

$35+68=$

$20+56=$


$8 \times 9 =$

$7 \times 2 =$

$21:3=$

$90:9=$

Мама купила 3 пакети цукру по 2 грн. кожний і у неї ще залишилося 27 грн. Скільки грошей було у мами?



Бурор Л. І.



Завдання 23


Оціни себе



Прогулянка

Біля нашого села тече широка річка. Вона біжить між зеленими луками і огинає ліс. Високі берези і клени шумлять над берегами річки. До лісу прийшли учні другого класу. У лісі тихо. Тільки верхів'я дереві про щось гомонять між собою.

Хлопчики збирали соснові шишки і жолуді. А які красиві листочки зібрали дівчатка для гербарію! Весело було в лісі!



$63+17=$

$24+49=$

$18+43=$

$76-63=$


$3 \times 6 =$

$7 \times 4 =$

$10 : 5 =$

$36 : 6 =$

У потязі 36 вагонів: 10 купейних, решта – плацкартні. На скільки більше у потязі плацкар





Завдання 24


Оціни себе



Пташина сім'я

За віконцем малі горобчики в'ють гніздечко. По пір'їнці і соломинці носять вони під покрівлю. Ось гніздечко і готове. Сидять горобчики по черзі на маленьких яєчках.

П'ятеро гороб'яток вилупилось у гніздечку. Дзьобики у них жовті і м'якенькі. А замість пір'ячка тільки ріденький пушок. Цілими днями носять батьки своїм малятам їжу. День за днем в'яне і згасає пишне літо.



$72-20=$

$25+43=$

$14+17=$

$74-15=$

$5 \times 9 =$

$4 \times 2 =$

$24:3=$

$14:2=$

Тато купив 4 сітки моркви по 2 кг в кожній і 5 кг капусти.
Скільки кілограмів овочів купив тато?





Завдання 25

Оціни себе



Користь від лісу

Ліс уміє вітер і воду скоряти. Налетить вітер на узлісся, та не може пробитися в ліс крізь гілля дерев. Проміння сонця не доходить до землі через густе віття. Вода від талого снігу не висихає. Вона повільно іде до коріння дерев і кущів. Затишно пташкам у лісі. Чути їхнє веселе щебетання.



$13+47=$

$59-14=$

$22+59=$

$16+34=$


$6 \times 5 =$

$18:2=$

$35:5=$

$3 \times 6 =$

У трьох коробках 60 олівців. У першій коробці 10 олівців, а в другій – 20. Скільки олівців у третій коробці?






Завдання 26

Оціни себе



Як хліб росте

Навколо села поля ще голі. А одне поле зеленою фарбою залите. Це хліб росте. Зелені паростки кущиками стирчать. Коли ж він встиг вирости? Це озимий хліб- озимина. Його під зиму сіяли минулої осені. Ось і дочекався хліб! Тягнеться до сонця, зеленіє!



$$5 \times 5 + 67 =$$

$$46 + 4 \times 4 =$$

$$36 : 6 + 45 =$$

$$18 : 3 + 76 =$$

Мама купила 6 чашок по 3 грн кожна і глечик за 20 грн. Скільки гривень мама заплатила за всю покупку?



Бурор Л. І.



Завдання 27

Оціни себе



Калина

Кущ калини росте біля материнської хати. Червона калина – це символ отчого краю, символ України. Коли козак вирушав на чужину, мати напувала його калиновим чаєм та давала в дорогу хліб з калиною. Наречена прикріплювала до коня калинову гілочку. Часто на могилах садили червону калину як символ безсмертя.



$26+47=$

$87-25=$

$44+36=$

$70-27=$


$8 \times 8=$

$3 \times 6=$

$4:2=$

$9:9=$

Маса теляти 40 кг, маса індички – у 5 разів менша, а маса курки – на 5 кг менше від маси індички. Яка маса курки?



Бурор Л. І.



Завдання 28

Оціни себе



У степу

Був чудовий липневий день. Блакитне небо дихало на землю теплом. Вітер доносив із степу пахощі стиглого зерна.

Раптом над горизонтом нависла темна хмара. Вона швидко наближалась. І ось до землі летять перші дощові краплини. Після них широкою чарівною музикою зашуміла злива. Засивіла дощем далечінь.

На шляху заблищали калюжі. Земля знову набиралася сили.




$$100 - (75 - 18) =$$

$$49 + (31 - 12) =$$

$$46 - (19 + 13) =$$

$$26 + (74 - 45) =$$

Купили 7 однакових зошитів по 3 грн і ручку за 8 грн.
Скільки гривень коштує вся покупка?



Бурор Л. І.



Завдання 29


Оціни себе



Вишитий рушник

Вишитий рушник – символ українського народу. Він був неодмінним атрибутом багатьох обрядів. З рушником зустрічали дорогих гостей, виходили в поле чи справляли обжинки. Дівчина подавала рушник на знак згоди при сватанні, молоді ставали на рушник під час шлюбного обряду. З рушником проводжали в останню дорогу.

Вишивали їх різними способами і кольорами. Найчастіше червоним і чорним кольором.



$76-42=$

$57+15=$

$87-81=$

$50-36=$

$3 \times 9 =$

$7 \times 8 =$

$16:2=$

$28:4=$

Мама купила яблука. З 4 кілограмів вона зварила компот, а з 9кг - варення. Скільки кілограмів яблук купила мама?





Завдання 30


Оціни себе



Каштани

Чарівні київські каштани навесні. Лопаються набубнявілі бруньки, і відбувається диво. Кожна перетворюється на рожево-білу квітку. Крони дерев, вкриті пишними суцвіттями, поширюють довкола ніжний запах, котрий віщує наближення літа.

Минає святковий травень, зів'ялі пелюстки заперошують асфальт. На каштанах з'являється зав'язь. Каштани – окраса нашого міста. Без них не можна уявити собі Києва.



$33+17=$

$75-28=$

$40-39=$

$26+47=$


$6 \times 9=$

$3 \times 8=$

$22:1=$

$6 \times 10=$

В одному ящику було 16 цибулини, а в другому – у 2 рази менше. Скільки всього було цибулин?



Бурор Л. І.

Люба дитино!

Ти стійко витримала щоденні тренування.
Дякую тобі за твою наполегливість,
увагу та старанність!
Ти заслуговуєш на повагу!
Пам'ятай - успіх завжди приходить лише
до того, хто його прагне, хто наполегливо йде
до своєї мети, мрії!

