



7
клас

12-річна школа

КОНТУРНІ КАРТКИ

Історія середніх віків



КАРТОГРАФІЯ

www.ukrmap.com.ua

НАРОДЖЕННЯ СЕРЕДНЬОВІЧНОГО СВІТУ

ЗАВДАННЯ

1. Позначте на карті кордони Римської імперії наприкінці IV ст.
2. Покажіть на карті межу поділу та надпишіть назви столиць Західної та Східної Римських імперій.

**ВЕЛИКЕ ПЕРЕСЕЛЕННЯ НАРОДІВ.
ЗАГИБЕЛЬ ЗАХІДНОЇ РИМСЬКОЇ ІМПЕРІЇ**
Масштаб 1:26 000 000

3. Позначте стрілками напрямки переселення племен: вестготів, вандалів, остготів та франків у V ст.
4. Виділіть кольором території "варварських королівств", що виникли на території Західної Римської імперії.

УМОВНІ ПОЗНАЧЕННЯ

на захід від Гринвіча 0° на схід від Гринвіча

**АРАБСЬКІ ЗАВОЮВАННЯ В VII – IX СТ.
УТВОРЕННЯ ХАЛІФАТУ**
Масштаб 1 : 40 000 000

ЗАВДАННЯ

1. Позначте кордони Візантійської імперії напередодні арабського завоювання.
2. Вкажіть стрілками напрямки завойовницьких походів арабів.
3. Позначте:
 - державу Мухаммеда 632 р.;
 - території, завойовані першими чотирма халіфами (632–661 р.);
 - території, завойовані за правління халіфів династії Омейядів.
4. Нанесіть кордони Арабського халіфату 750 р.
5. Позначте резиденції халіфів та підпишіть їхні назви.

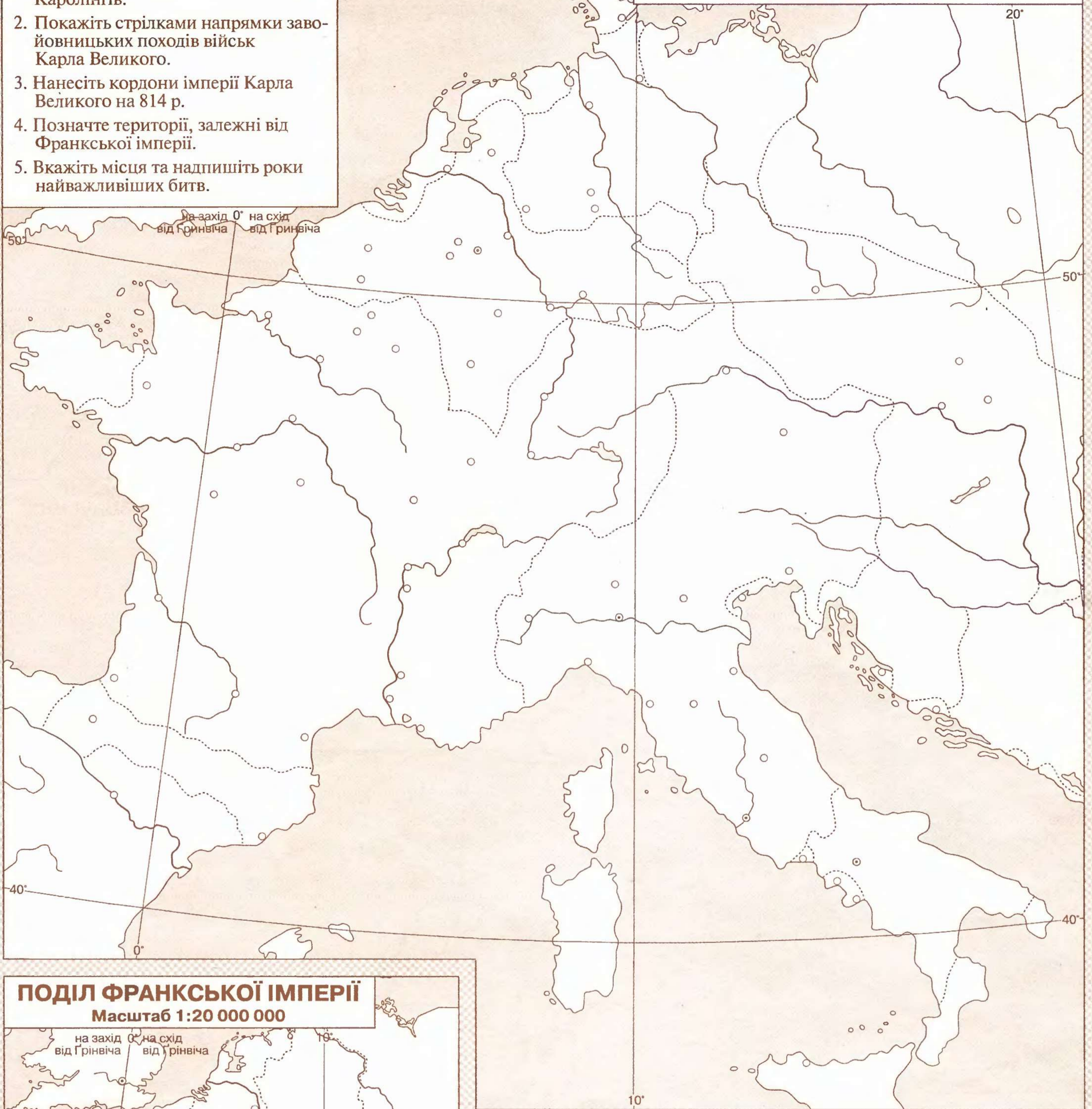
УМОВНІ ПОЗНАЧЕННЯ

ЗАВДАННЯ

1. Зафарбуйте територію Франкського королівства за правління перших Каролінгів.
2. Покажіть стрілками напрямки завоювальницьких походів військ Карла Великого.
3. Нанесіть кордони імперії Карла Великого на 814 р.
4. Позначте території, залежні від Франкської імперії.
5. Вкажіть місця та надпишіть роки найважливіших битв.

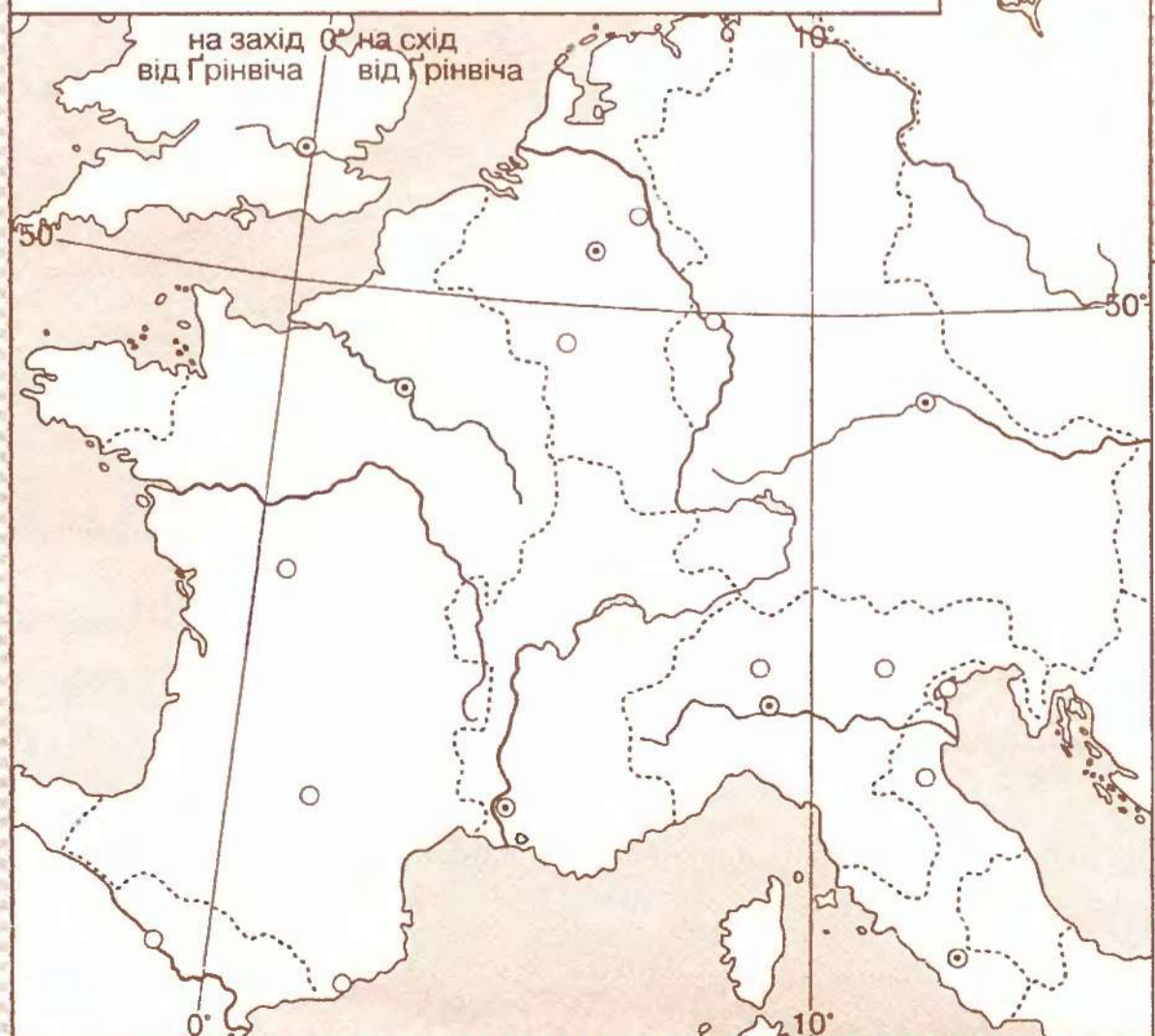
ФРАНКСЬКА ДЕРЖАВА МЕРОВІНГІВ. ДЕРЖАВА КАРОЛІНГІВ

Масштаб 1:10 000 000



ПОДІЛ ФРАНКСЬКОЇ ІМПЕРІЇ

Масштаб 1:20 000 000



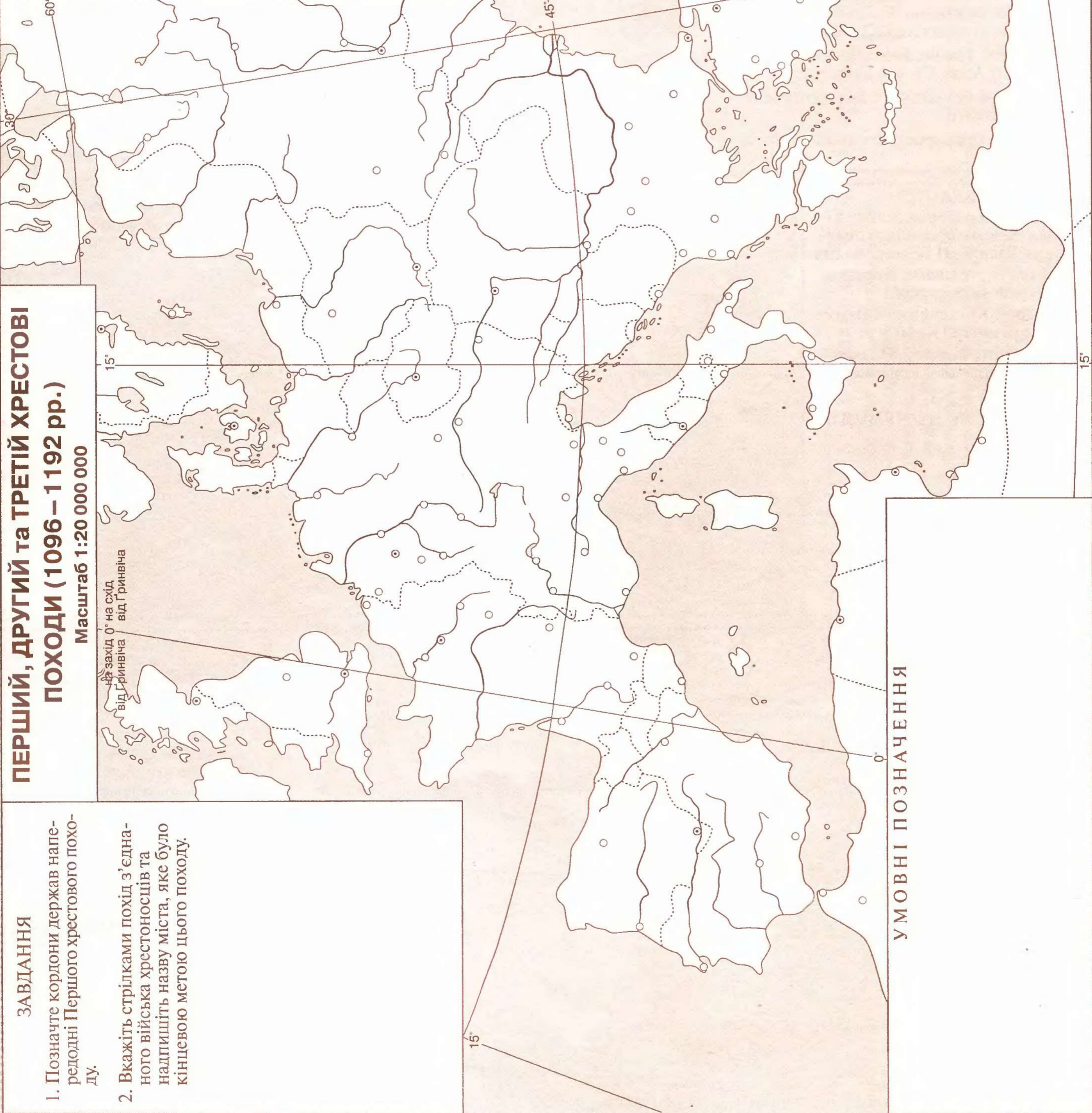
ЗАВДАННЯ

1. Нанесіть межі поділу Франкської імперії за Верденською угодою 843 р.

УМОВНІ
ПОЗНАЧЕННЯ

УМОВНІ ПОЗНАЧЕННЯ

РЕЛІГІЯ ТА ЦЕРКВА В СЕРЕДНЬОВІЧНІЙ ЄВРОПІ



ПЕРШІЙ, ДРУГІЙ та ТРЕТІЙ ХРЕСТОСІ
ПОХОДИ (1096 – 1192 рр.)
Масштаб 1:20 000 000

ДЕРЖАВИ ХРЕСТОНОСЦІВ
Масштаб 1:10 000 000

ЗАВДАННЯ

1. Позначте кордони держав напередодні Першого хрестового походу.
2. Вкажіть стрілками похід з'єднаного війська хрестоносців та надпишіть назву міста, яке було кінцевою метою цього походу.

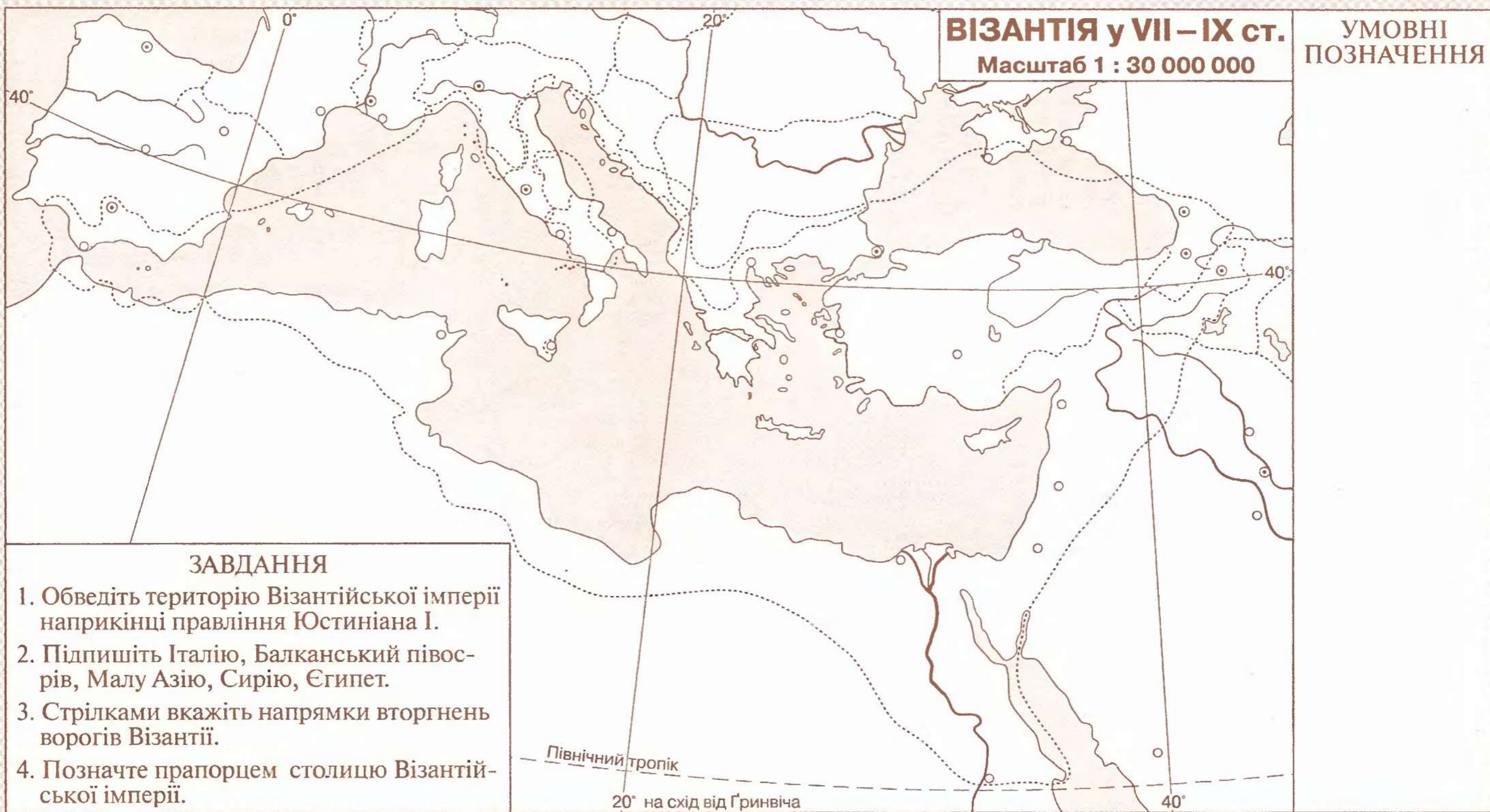
ЗАВДАННЯ

1. Зафарбуйте різними кольорами території держав, утворених хрестоносцями.

УМОВНІ ПОЗНАЧЕННЯ

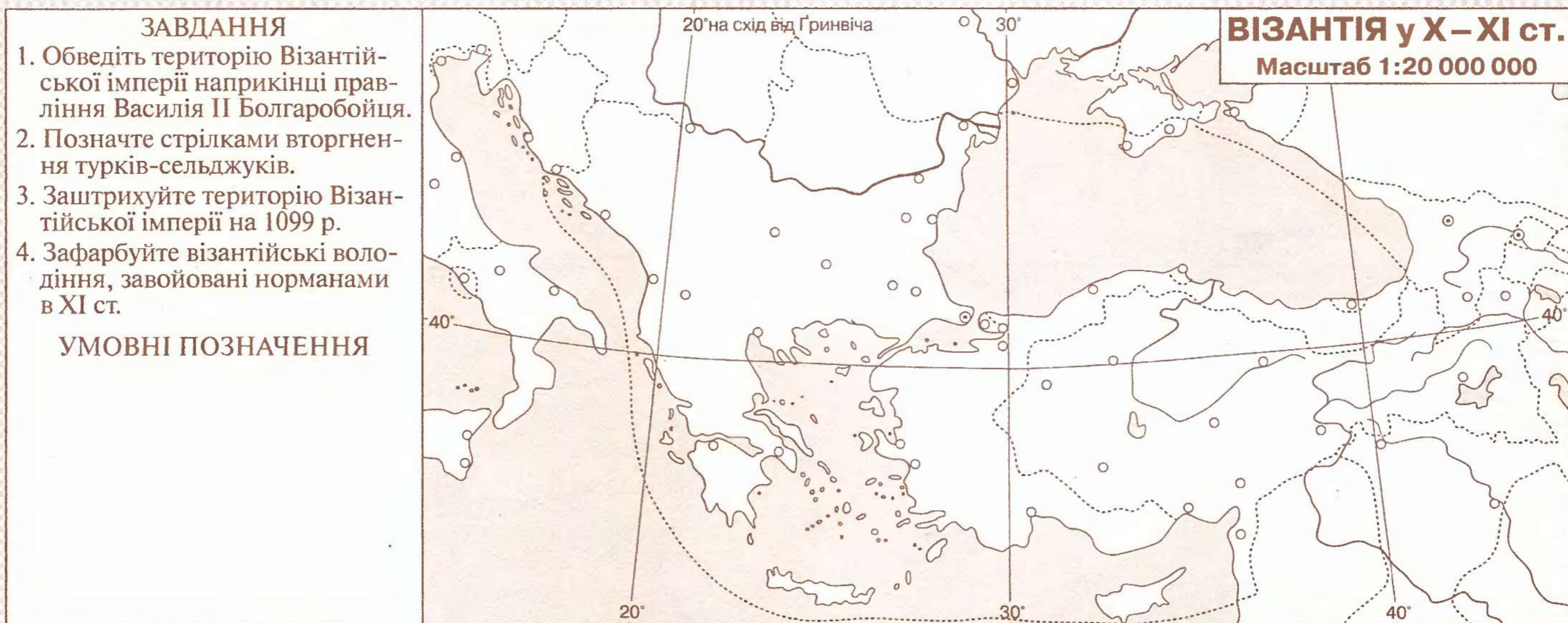
УМОВНІ ПОЗНАЧЕННЯ

ВІЗАНТІЙСЬКА ІМПЕРІЯ



ЗАВДАННЯ

1. Обведіть територію Візантійської імперії наприкінці правління Юстиніана I.
2. Підпишіть Італію, Балканський півострів, Малу Азію, Сирію, Єгипет.
3. Стрілками вкажіть напрямки вторгнень ворогів Візантії.
4. Позначте прапорцем столицю Візантійської імперії.



ЗАВДАННЯ

1. Обведіть територію Візантійської імперії наприкінці правління Василя II Болгаробойця.
2. Позначте стрілками вторгнення турків-сельджуків.
3. Заштрихуйте територію Візантійської імперії на 1099 р.
4. Зафарбуйте візантійські володіння, завойовані норманами в XI ст.



ЗАВДАННЯ

1. Обведіть територію Візантійської імперії наприкінці правління Алексія II Комніна.
2. Зафарбуйте візантійські володіння в Криму.
3. Різними кольорами зафарбуйте візантійські володіння і володіння турків-османів на 1355 р.
4. Підпишіть на карті турецьку назву Константинополя після падіння Візантійської імперії в 1453 р.

ЄВРОПЕЙСЬКІ ДЕРЖАВИ за ДОБИ СЕРЕДНЬОВІЧЧЯ

АНГЛОСАКСОНСЬКІ КОРОЛІВСТВА. НОРМАНДСЬКЕ ЗАВОЮВАННЯ АНГЛІЇ

Масштаб 1:9 000 000

0° на схід від Гринвіча



ЗАВДАННЯ

1. Зафарбуйте королівство Англія за правління Екберта Весекського (802 – 839 рр.).
2. Вкажіть стрілками воєнні походи норманів у IX – XI ст.
3. Позначте межі територій, захоплених данцями з кінця IX до середини XI ст.
4. Позначте межі володінь Альфреда Великого (871 – 900 рр.).
5. Заштрихуйте райони норманської колонізації.

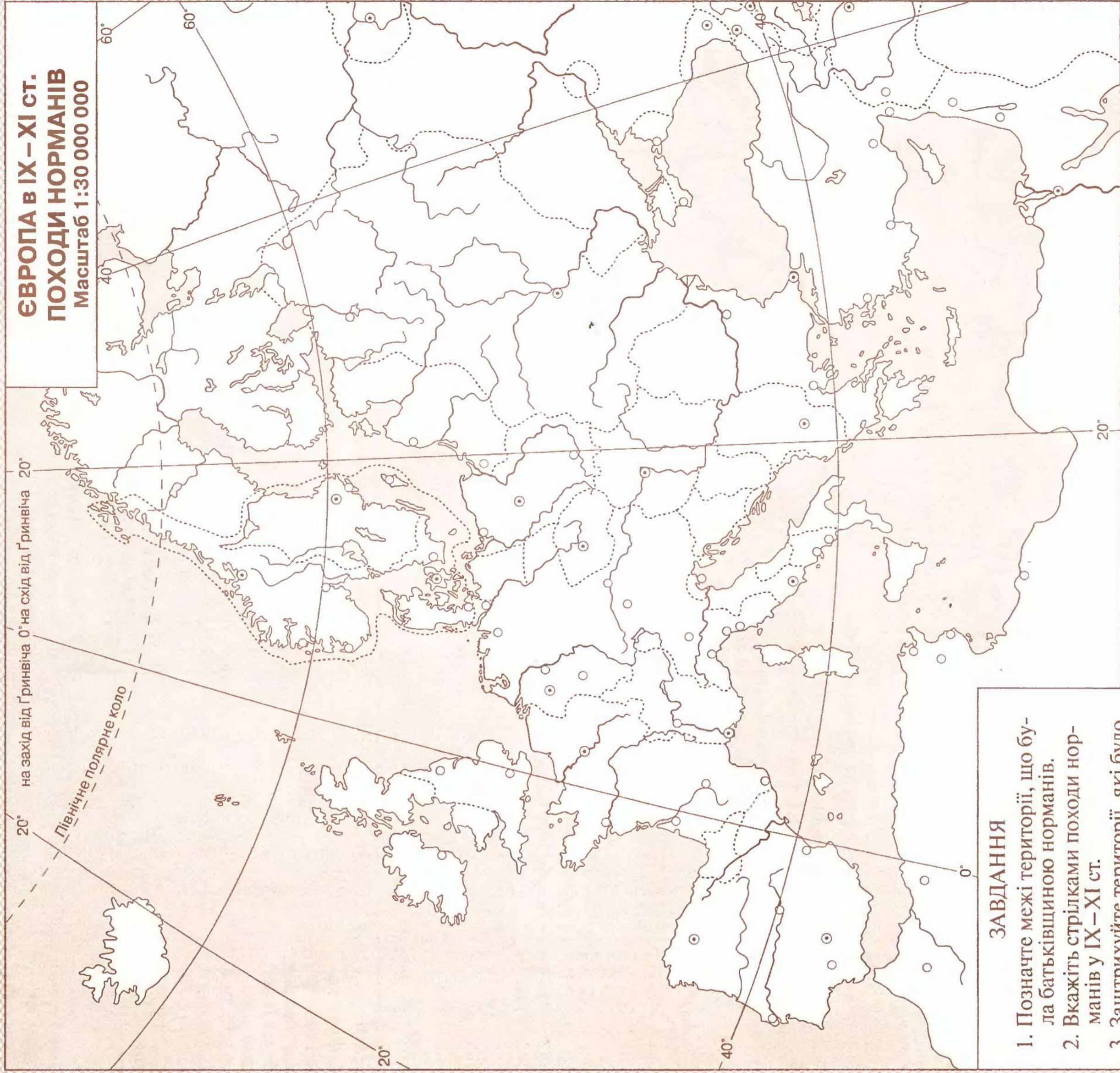
УМОВНІ ПОЗНАЧЕННЯ

ЄВРОПА в IX – XI ст. ПОХОДИ НОРМАНІВ

Масштаб 1:30 000 000

20° на захід від Гринвіча 0° на схід від Гринвіча 20°

Північне полярне коло



ЗАВДАННЯ

1. Позначте межі території, що була батьківщиною норманів.
2. Вкажіть стрілками походи норманів у IX – XI ст.
3. Заштрихуйте території, які було завойовано та колонізовано норманами в IX – X ст.
4. Позначте території, завойовані норманами в XI ст.
5. Надпишіть назви найбільших держав Європи в IX – XI ст.

УМОВНІ ПОЗНАЧЕННЯ

АНГЛІЯ та ФРАНЦІЯ у XII ст.

Масштаб 1:12 000 000

0° на схід
від Гринвіча



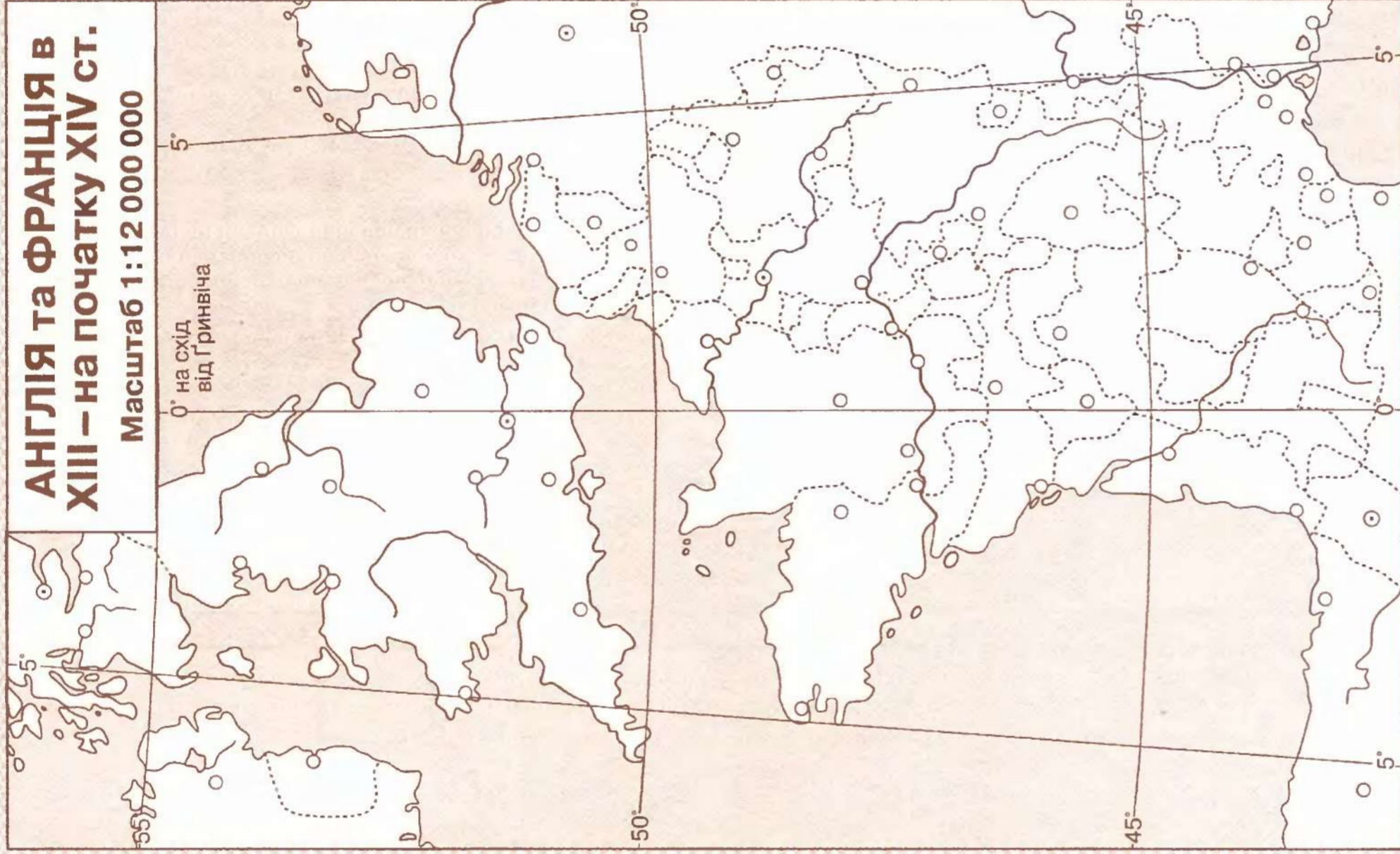
ЗАВДАННЯ УМОВНІ ПОЗНАЧЕННЯ

1. Позначте кордони Французького королівства в середині XII ст.
2. Зафарбуйте територію королівського домену на середину XII ст.
3. Зафарбуйте володіння васалів французького короля.
4. Позначте англійські володіння у Франції в середині XII ст.

АНГЛІЯ та ФРАНЦІЯ в XIII – на початку XIV ст.

Масштаб 1:12 000 000

0° на схід
від Гринвіча



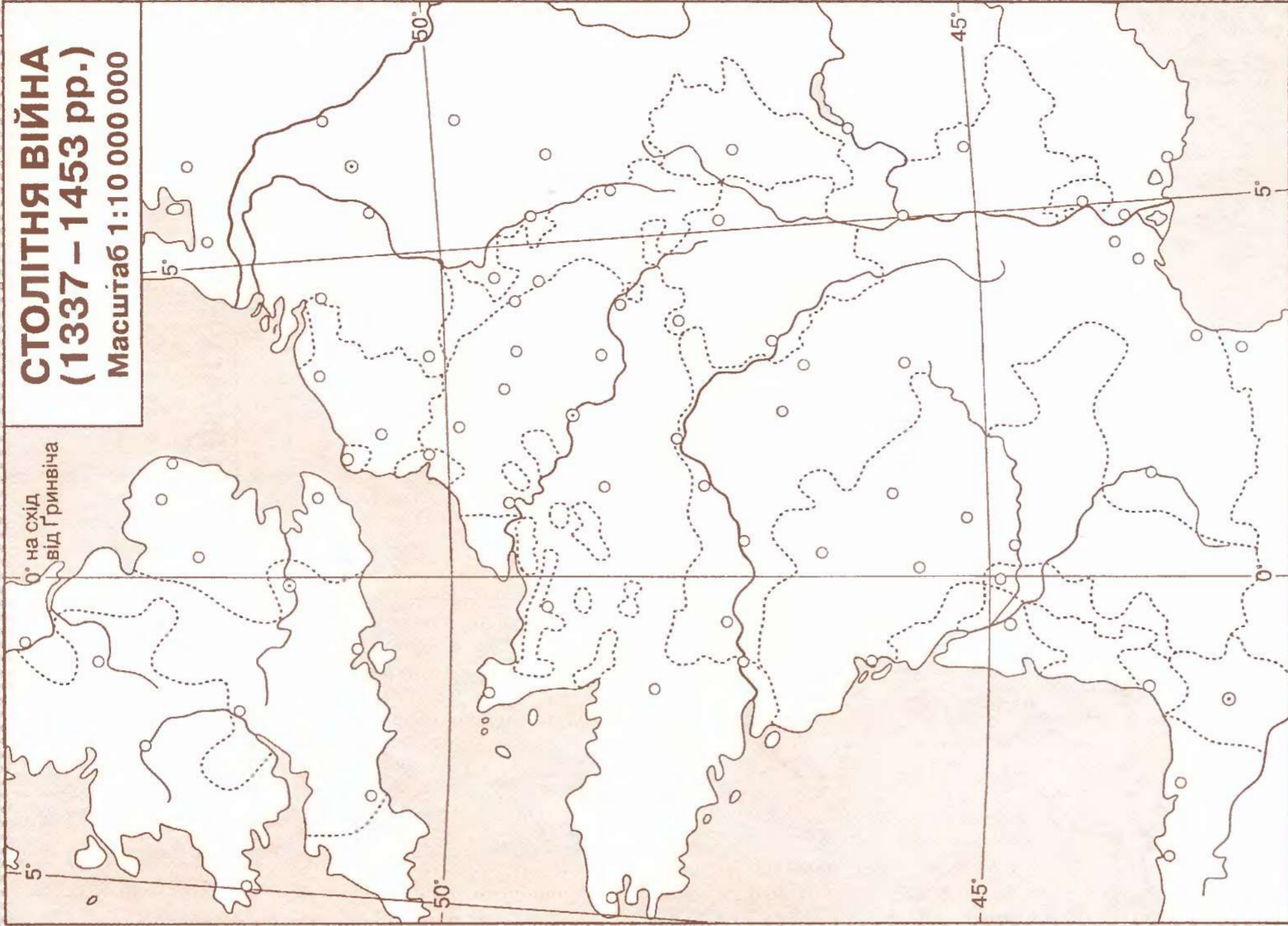
ЗАВДАННЯ УМОВНІ ПОЗНАЧЕННЯ

1. Зафарбуйте різними кольорами володіння: французького короля; васалів короля; англійські володіння у Франції.
2. Позначте території, приєднані до королівського домену за правління: Філіппа II Августа; Людовіка IX Святого; Філіппа III Сміливого та Філіппа IV Красивого.
3. Нанесіть східний кордон Франції на початку XIV ст.

СТОЛІТНЯ ВІЙНА (1337 – 1453 рр.)

Масштаб 1:10 000 000

0° на схід
від Гринвіча

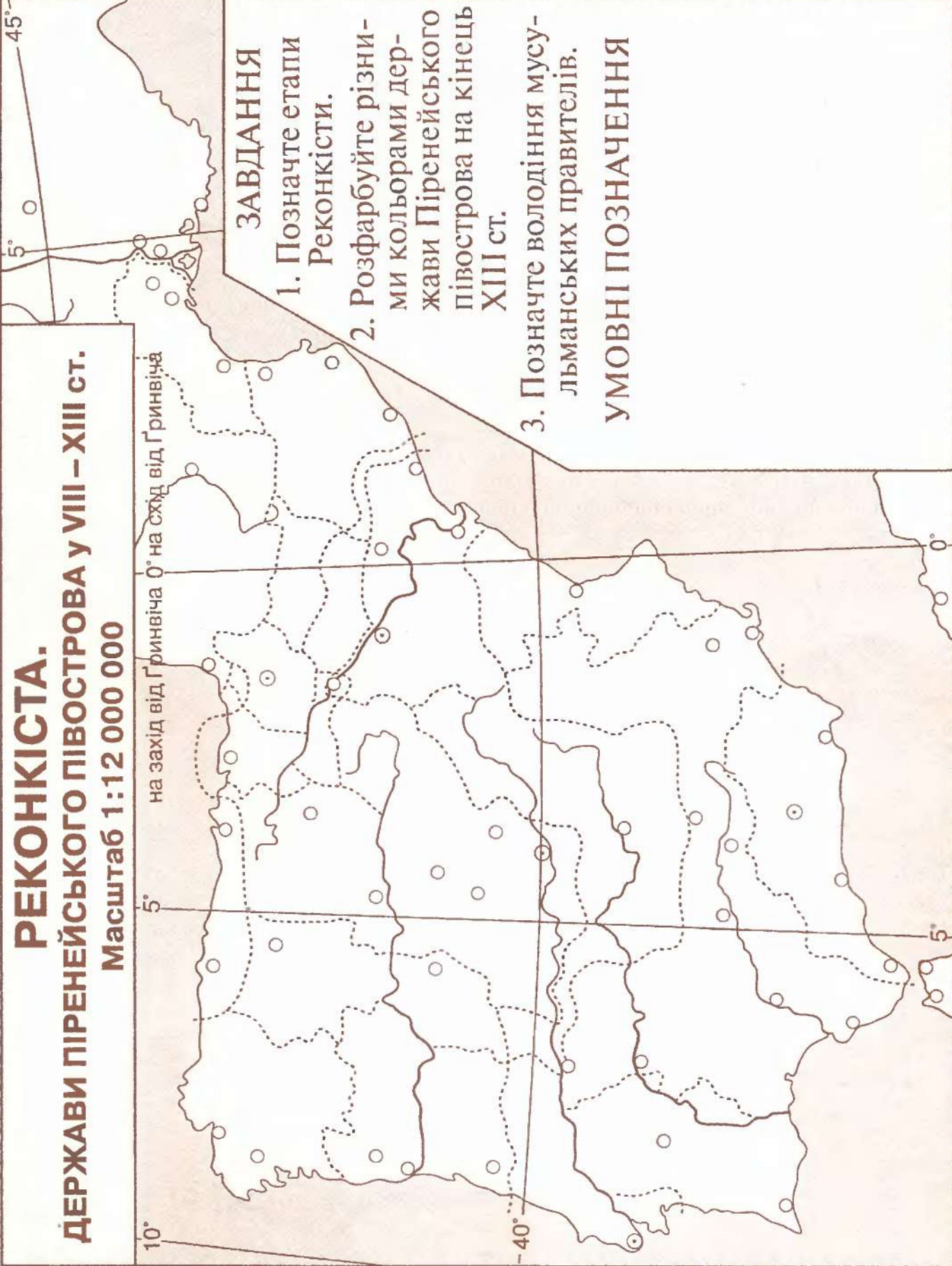


ЗАВДАННЯ

1. Позначте державні кордони на 1337 р.
2. Надпишіть назви найбільших феодалних володінь Франції.
3. Зафарбуйте володіння англійського короля напередодні Столітньої війни.
4. Вкажіть місця та надпишіть роки найважливіших битв Столітньої війни.
5. Вкажіть стрілками дії французького війська на чолі з Жанною д'Арк.

УМОВНІ ПОЗНАЧЕННЯ

**РЕКОНКІСТА.
ДЕРЖАВИ ПІРЕНЕЙСЬКОГО ПІВОСТРОВА У VIII – XIII ст.**
Масштаб 1:12 000 000

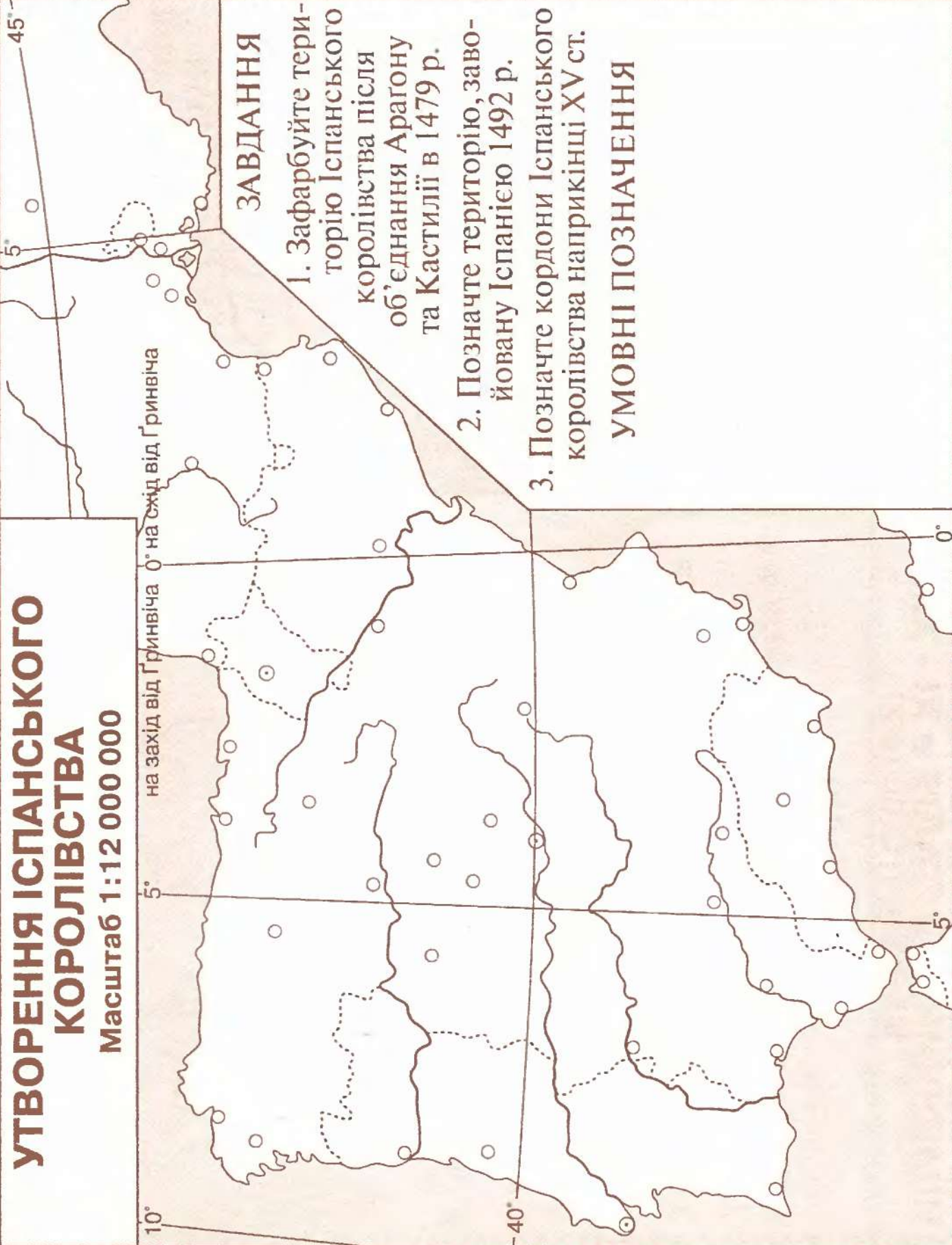


ЗАВДАННЯ

1. Позначте етапи Реконкісти.
2. Розфарбуйте різні-ми кольорами держави Піренейського півострова на кінець XIII ст.
3. Позначте володіння мусульманських правителів.

УМОВНІ ПОЗНАЧЕННЯ

**УТВОРЕННЯ ІСПАНСЬКОГО
КОРОЛІВСТВА**
Масштаб 1:12 000 000

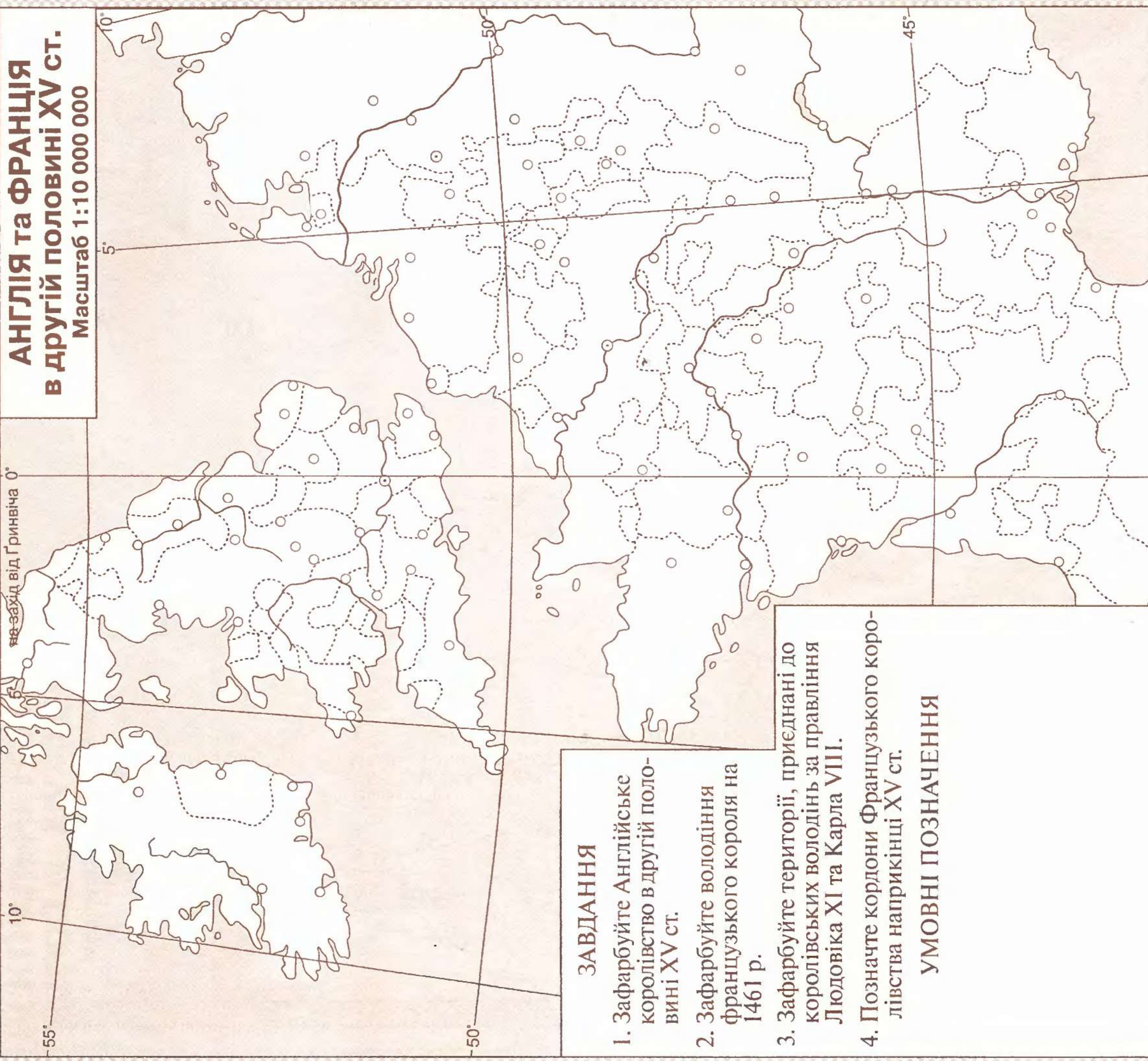


ЗАВДАННЯ

1. Зафарбуйте територію Іспанського королівства після об'єднання Арагону та Кастилії в 1479 р.
2. Позначте територію, завоювану Іспанією 1492 р.
3. Позначте кордони Іспанського королівства наприкінці XV ст.

УМОВНІ ПОЗНАЧЕННЯ

**АНГЛІЯ та ФРАНЦІЯ
в другій половині XV ст.**
Масштаб 1:10 000 000



ЗАВДАННЯ

1. Зафарбуйте Англійське королівство в другій половині XV ст.
2. Зафарбуйте володіння французького короля на 1461 р.
3. Зафарбуйте території, приєднані до королівських володінь за правління Людовіка XI та Карла VIII.
4. Позначте кордони Французького королівства наприкінці XV ст.

УМОВНІ ПОЗНАЧЕННЯ

СВЯЩЕННА РИМСЬКА ІМПЕРІЯ. НІМЕЦЬКИЙ "НАСТУП НА СХІД"

НІМЕЧЧИНА та ІТАЛІЯ в XI – XIII ст.

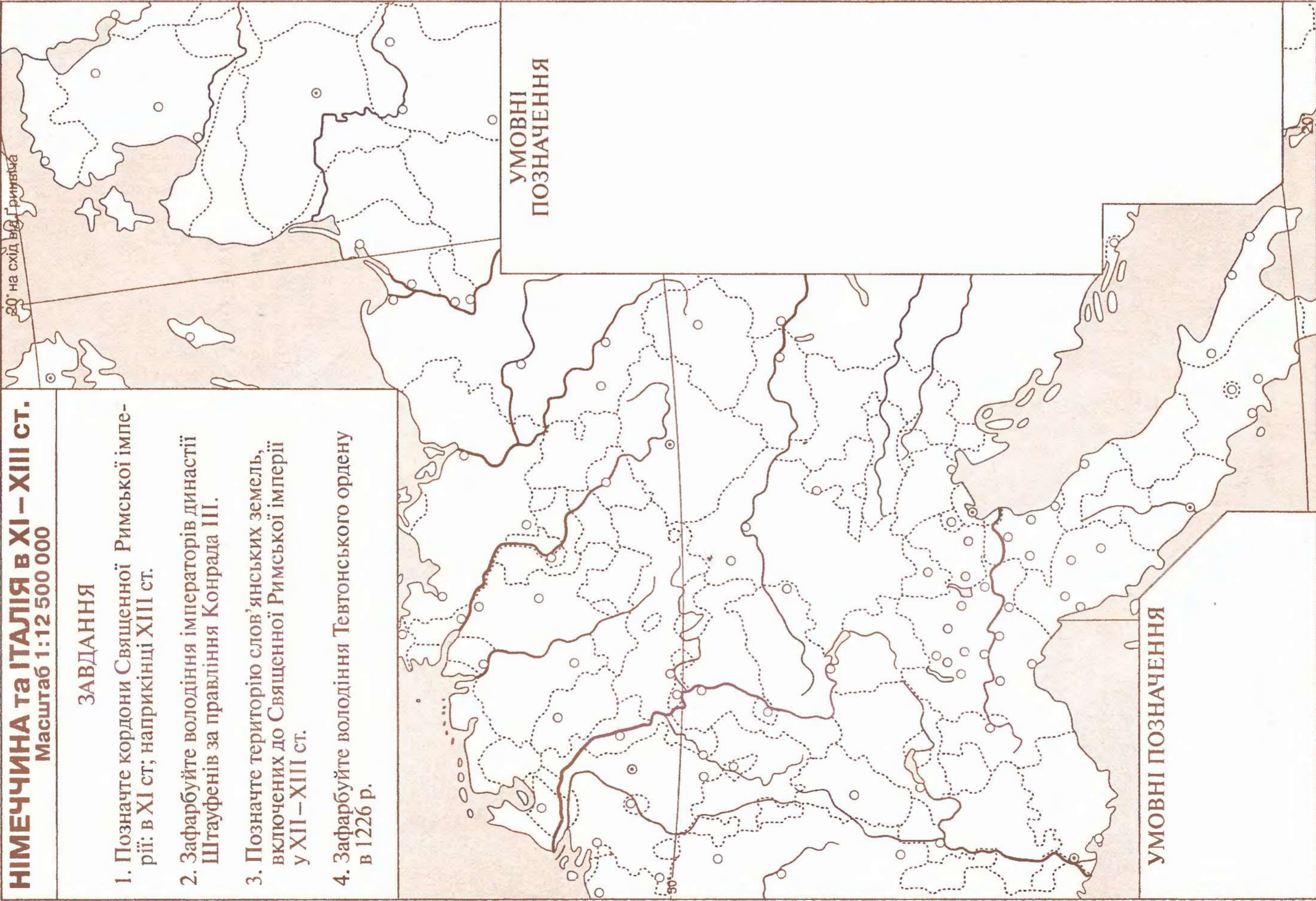
Масштаб 1:12 500 000

ЗАВДАННЯ

1. Позначте кордони Священної Римської імперії: в XI ст; наприкінці XIII ст.
2. Зафарбуйте володіння імператорів династії Штауфенів за правління Конрада III.
3. Позначте територію слов'янських земель, включених до Священної Римської імперії у XII – XIII ст.
4. Зафарбуйте володіння Тевтонського ордену в 1226 р.

УМОВНІ
ПОЗНАЧЕННЯ

УМОВНІ ПОЗНАЧЕННЯ



НІМЕЧЧИНА та ІТАЛІЯ в XIV – XV ст.

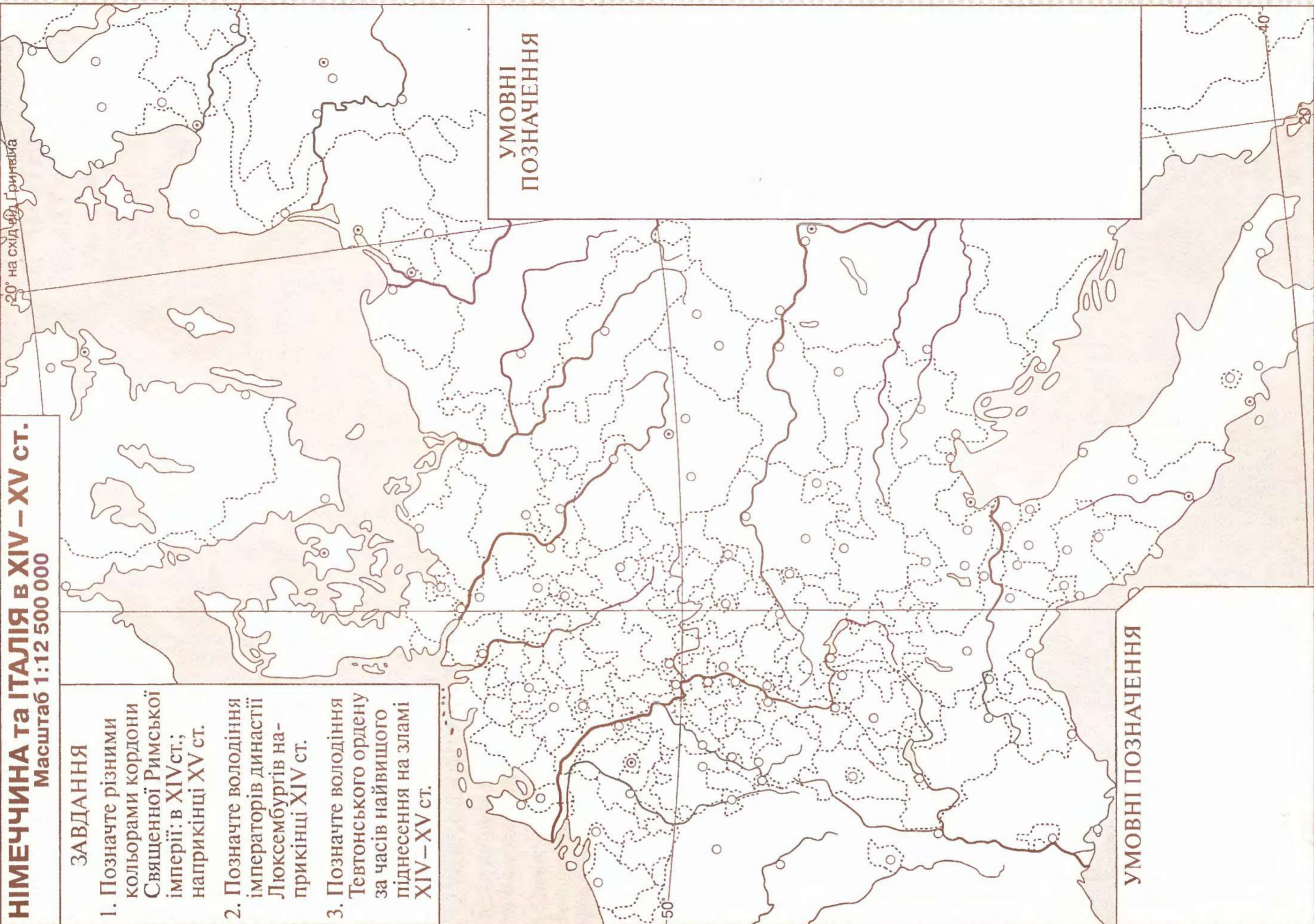
Масштаб 1:12 500 000

ЗАВДАННЯ

1. Позначте різними кольорами кордони Священної Римської імперії: в XIV ст.; наприкінці XV ст.
2. Позначте володіння імператорів династії Люксембургів наприкінці XIV ст.
3. Позначте володіння Тевтонського ордену за часів найвищого піднесення на зламі XIV – XV ст.

УМОВНІ
ПОЗНАЧЕННЯ

УМОВНІ ПОЗНАЧЕННЯ

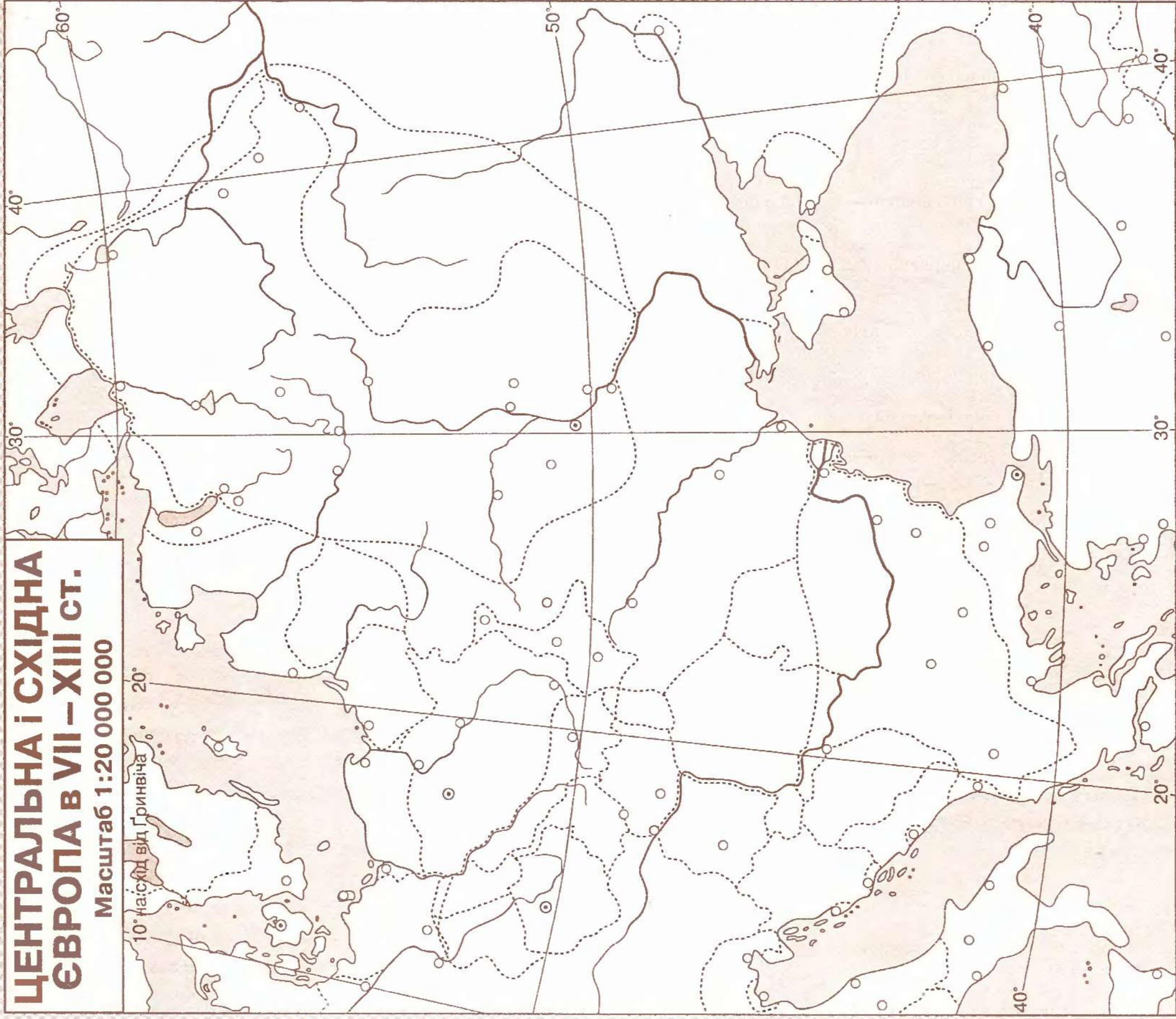


СЛОВ'ЯНИ ТА ЇХНІ СУСІДИ

ЦЕНТРАЛЬНА І СХІДНА ЄВРОПА В VII – XIII СТ.

Масштаб 1:20 000 000

10° на схід від Гринвіча



ЗАВДАННЯ

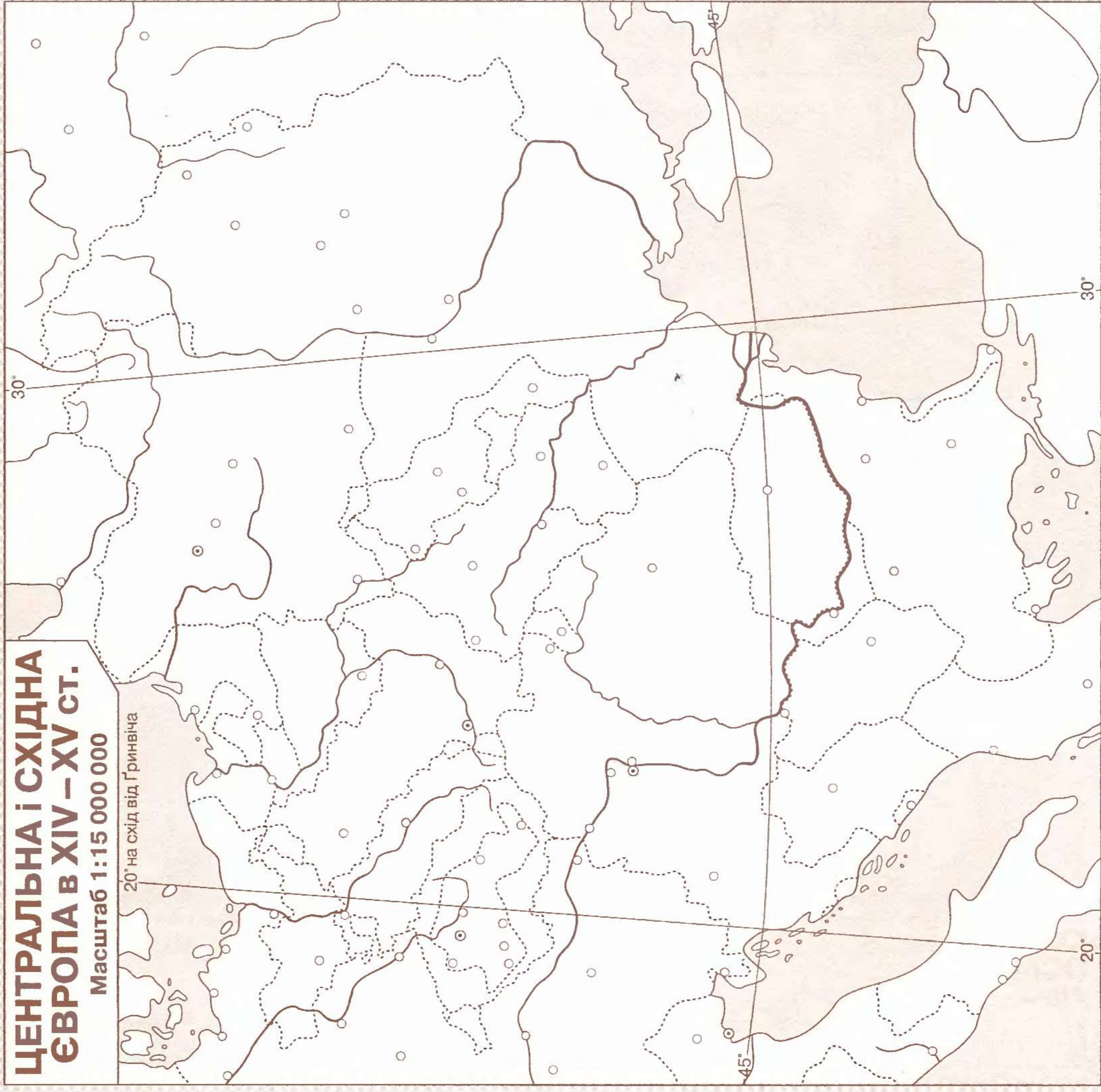
1. Різними кольорами обведіть території слов'янських держав у IX – X ст.: Великоморавської, Київської, Болгарської.
2. Позначте стрілками шляхи переселення угорців на захід.
3. Заштрихуйте різними кольорами території слов'янських держав у XI ст.
4. Підпишіть сусідів слов'ян: Литву, Угорщину, Візантійську імперію.

УМОВНІ ПОЗНАЧЕННЯ

ЦЕНТРАЛЬНА І СХІДНА ЄВРОПА В XIV – XV СТ.

Масштаб 1:15 000 000

20° на схід від Гринвіча



ЗАВДАННЯ

1. Обведіть територію Чеського королівства в період гуситських війн.
2. Зафарбуйте район гуситських війн.
3. Підпишіть місце поразки таборитів у 1434 р. і позначте його значком
4. Обведіть кордони Польського королівства наприкінці XV ст. і зафарбуйте українські землі, що ввійшли до його складу.
5. Позначте місце Грюнвальдської битви.

УМОВНІ ПОЗНАЧЕННЯ

ПЕРШІ ТУРЕЦЬКІ ДЕРЖАВИ

ЗАВДАННЯ

1. Вкажіть стрілками напрямки походів сельджуків в XI ст.
2. Позначте територію держави Сельджуків близько 1090 р.
3. Обведіть межі володінь сельджуків наприкінці XIII ст.
4. Зафарбуйте володіння Османа I наприкінці XIII ст.

УМОВНІ ПОЗНАЧЕННЯ

ДЕРЖАВА СЕЛЬДЖУКІВ у XI – XIII ст.
Масштаб 1 : 25 000 000

60° на схід від Гринвіча

40°

Північний тропік

40°

60°

УТВОРЕННЯ ОСМАНСЬКОЇ ДЕРЖАВИ. ЗАВОЮВАННЯ ОСМАНСЬКИХ СУЛТАНІВ (XIV – початок XVI ст.)
Масштаб 1 : 15 000 000

УМОВНІ ПОЗНАЧЕННЯ

ЗАВДАННЯ

1. Зафарбуйте володіння Османа I на 1324 р.
2. Зафарбуйте території, завойовані турками-османами до 1451 р.
3. Зафарбуйте території, завойовані Мехмедом II Завойовником та Баязетом II.
4. Позначте кордон Османської імперії на початку XVI ст.
5. Вкажіть стрілками похід Тимура в Малу Азію у 1402 – 1403 рр.
6. Обведіть території, тимчасово втрачені османами, після битви під Анкарою у 1402 р.

30°

20° на схід від Гринвіча

40°

40°

УТВОРЕННЯ та ЗМІЦНЕННЯ МОСКОВСЬКОЇ ДЕРЖАВИ (XIV – початок XVI ст.)

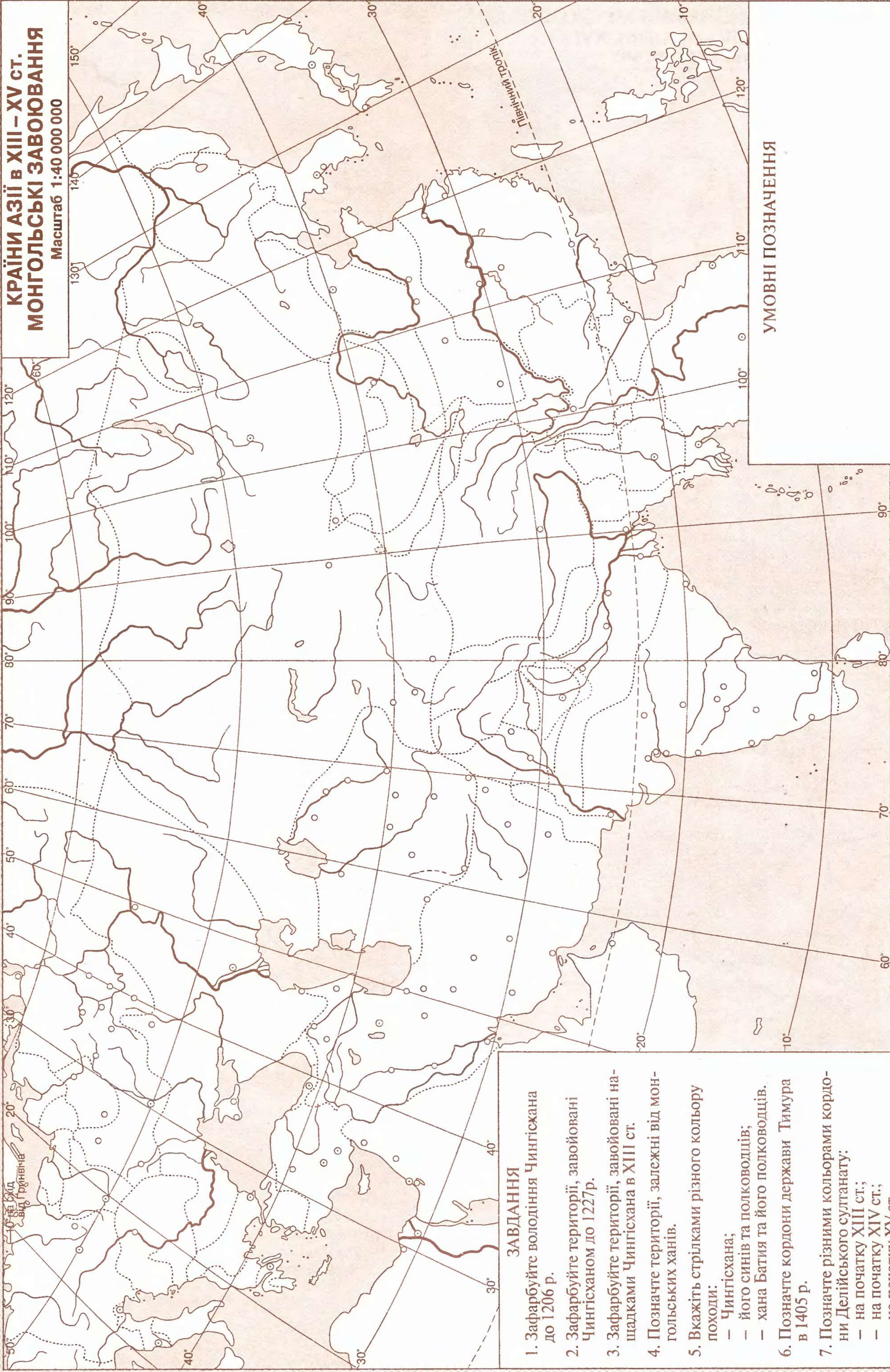
Масштаб 1 : 14 000 000



УМОВНІ ПОЗНАЧЕННЯ

ЗАВДАННЯ

1. Зафарбуйте володіння московського князя Даниїла Олександровича близько 1300 р.
2. Зафарбуйте території, приєднані до Московського князівства:
 - за Даниїла і його синів Юрія та Івана Калити;
 - за Семена Гордого, Івана Красного, Дмитрія Донського;
 - за Василія I;
 - за Василія II Темного;
 - за Івана III та його сина Василія III.
3. Позначте кордони Великого князівства Московського в 1533 р.
4. Вкажіть стрілками різного кольору напрямки татарських походів на Москву:
 - Мамай;
 - Тохтамиша;
 - Ахмата.
5. Вкажіть стрілками воєнні походи князя Дмитрія Івановича.
6. Вкажіть стрілками воєнні походи Івана III.



КРАЇНИ АЗІЇ в XIII – XV ст.
МОНГОЛЬСЬКІ ЗАВОЮВАННЯ
 Масштаб 1:40 000 000

УМОВНІ ПОЗНАЧЕННЯ

- ЗАВДАННЯ**
1. Зафарбуйте володіння Чингісхана до 1206 р.
 2. Зафарбуйте території, завойовані Чингісханом до 1227р.
 3. Зафарбуйте території, завойовані нащадками Чингісхана в XIII ст.
 4. Позначте території, залежні від монгольських ханів.
 5. Вкажіть стрілками різного кольору походи:
 - Чингісхана;
 - його синів та полководців;
 - хана Батія та його полководців.
 6. Позначте кордони держави Тимура в 1405 р.
 7. Позначте різними кольорами кордони Делійського султанату:
 - на початку XIII ст.;
 - на початку XIV ст.;
 - на початку XV ст.
 8. Позначте кордони Китайської держави після звільнення від монгольського ярма у 1368 р.


Сторінки	Масштаби	Сторінки	Масштаби
1		7	
НАРОДЖЕННЯ СЕРЕДНЬОВІЧНОГО СВІТУ ВЕЛИКЕ ПЕРЕСЕЛЕННЯ НАРОДІВ. ЗАГИБЕЛЬ ЗАХІДНОЇ РИМСЬКОЇ ІМПЕРІЇ.....	1:26 000 000	РЕКОНКІСТА. ДЕРЖАВИ ПІРЕНЕЙСЬКОГО ПІВОСТРОВА у VIII – XIII ст.	1:12 000 000
2		УТВОРЕННЯ ІСПАНСЬКОГО КОРОЛІВСТВА.....	1:12 000 000
ФРАНКСЬКА ДЕРЖАВА МЕРОВІНГІВ. ДЕРЖАВА КАРОЛІНГІВ ПОДІЛ ФРАНКСЬКОЇ ІМПЕРІЇ	1:10 000 000 1:20 000 000	АНГЛІЯ та ФРАНЦІЯ в другій половині XV ст.....	1:10 000 000
3		8	
РЕЛІГІЯ та ЦЕРКВА в СЕРЕДНЬОВІЧНІЙ ЄВРОПІ ПЕРШИЙ, ДРУГИЙ та ТРЕТІЙ ХРЕСТОВІ ПОХОДИ (1096–1192 рр.)	1:20 000 000	СВЯЩЕННА РИМСЬКА ІМПЕРІЯ. НІМЕЦЬКИЙ “НАСТУП на СХІД” НІМЕЧЧИНА та ІТАЛІЯ в XI–XIII ст.	1:12 500 000
4		НІМЕЧЧИНА та ІТАЛІЯ в XIV–XV ст.	1:12 500 000
ВІЗАНТІЙСЬКА ІМПЕРІЯ ВІЗАНТІЯ у VII–IX ст.	1:30 000 000	9	
ВІЗАНТІЯ у X–XI ст.....	1:20 000 000	СЛОВ’ЯНИ та ЇХНІ СУСІДИ ЦЕНТРАЛЬНА і СХІДНА ЄВРОПА в VII–XIII ст.	1:20 000 000
ВІЗАНТІЯ у XII–XV ст.	1:15 000 000	ЦЕНТРАЛЬНА і СХІДНА ЄВРОПА в XIV–XV ст.	1:15 000 000
5		10	
ЄВРОПЕЙСЬКІ ДЕРЖАВИ за ДОБИ СЕРЕДНЬОВІЧЧЯ АНГЛОСАКСОНСЬКІ КОРОЛІВСТВА. НОРМАНДСЬКЕ ЗАВОЮВАННЯ АНГЛІЇ.	1:9 000 000	ПЕРШІ ТУРЕЦЬКІ ДЕРЖАВИ ДЕРЖАВА СЕЛЬДЖУКІВ у XI–XIII ст.	1:25 000 000
6		УТВОРЕННЯ ОСМАНСЬКОЇ ДЕРЖАВИ. ЗАВОЮВАННЯ ОСМАНСЬКИХ СУЛТАНІВ (XIV – початок XVI ст.)	1:15 000 000
АНГЛІЯ та ФРАНЦІЯ у XII ст.	1:12 000 000	11	
АНГЛІЯ та ФРАНЦІЯ в XIII – на початку XIV ст.	1:12 000 000	УТВОРЕННЯ та ЗМІЦНЕННЯ МОСКОВСЬКОЇ ДЕРЖАВИ (XIV – початок XVI ст.)	1:14 000 000
СТОЛІТНЯ ВІЙНА (1337–1453 рр.)	1:10 000 000	12	
		ІНДІЯ. КИТАЙ КРАЇНИ АЗІЇ в XIII–XV ст. МОНГОЛЬСЬКІ ЗАВОЮВАННЯ	1:40 000 000

КАРТОГРАФІЯ

Історія середніх віків



7
Клас



РЕКОМЕНДОВАНО МІНІСТЕРСТВОМ ОСВІТИ І НАУКИ УКРАЇНИ

(лист № 1/11-3200 від 11.07.2008 р.)

Контурні карти відповідають санітарному законодавству України

(висновок №05.03.02-04/35929 від 18.07.2007 р.)

ДЕРЖАВНА СЛУЖБА ГЕОДЕЗІЇ, КАРТОГРАФІЇ ТА КАДАСТРУ
ДЕРЖАВНЕ НАУКОВО-ВИРОБНИЧЕ ПІДПРИЄМСТВО «КАРТОГРАФІЯ»

вул. Попудренка, 54, 02094, м. Київ, МСП-660, 02660
Ліцензія Державної служби геодезії, картографії та кадастру
АВ №342152 від 03.09.2007 р.
Свідоцтво про внесення суб'єкта видавничої справи
до Державного реєстру видавців, виготівників
і розповсюджувачів видавничої продукції
ДК №398 від 03.04.2001 р.

Редактори: Г.М. Кошова, Л.Б. Хмара
Технічний редактор Л.В. Климова
Дизайн О.Ю. Андрущенко

Підписано до друку 17.06.2008 р.
Формат 60x90/8 Папір офс. 80 г/м²
Гарн. Прагматика
Друк офс. Умовн. друк. арк.1,5
Тираж 80000 Зам. №1518

ВАТ «Білоцерківська друкарня»
09112, м. Біла Церква, б-р 50-річчя Перемоги, 22

© ДНВП «Картографія», 2000 – 2008 рр.

ISBN 978-966-475-211-1



9 789664 752111