

Тетяна Воронцова, Володимир Пономаренко,  
Олена Хомич, Ірина Гарбузюк, Наталія Андрук

# Я ДОСЛІДЖУЮ СВІТ

## ЧАСТИНА 2

Зошит-практикум інтегрованого курсу  
для 2 класу закладів загальної середньої освіти  
(у 2-х частинах)

Київ  
Видавництво «Алатон»  
2020

УДК 57.081.1(075.2)

Я11

Схвалено для використання у загальноосвітніх навчальних закладах  
комісією з педагогіки та методики початкового навчання

Науково-методичної ради з питань освіти

Міністерства освіти і науки України

(Лист ІМЗО від 17.12.2019 № 22.1/12-Г-1181)

Я11 Я досліджую світ. Частина 2: зошит-практикум інтегрованого курсу для 2 кл. закладів загальної середньої освіти (у 2-х частинах) /Т. В. Воронцова, В. С. Пономаренко, О. Л. Хомич, І. В. Гарбузюк, Н. В. Андрук. — К.: Видавництво «Алатон», 2020. — 64 с.

ISBN 978-966-2663-86-0

Зошит-практикум «Я досліджую світ. Частина 2» створено відповідно до Державного стандарту початкової освіти, затвердженого постановою Кабінету Міністрів України від 21.02.2018 № 87. Може використовуватися у школах, що працюють за чинними Типовими освітніми програмами.

Зошит-практикум є частиною навчально-методичного комплекту, до якого також входять: підручник, методичний посібник для вчителя, відеоролики за темою кожного тижня, збірка відеоматеріалів і комп'ютерних презентацій.

Ці матеріали розміщено у вільному доступі за посиланням:  
[http://autta.org.ua/ua/resources/ya\\_doslidzhuyu\\_svit/](http://autta.org.ua/ua/resources/ya_doslidzhuyu_svit/)



УДК 57.081.1(075.2)

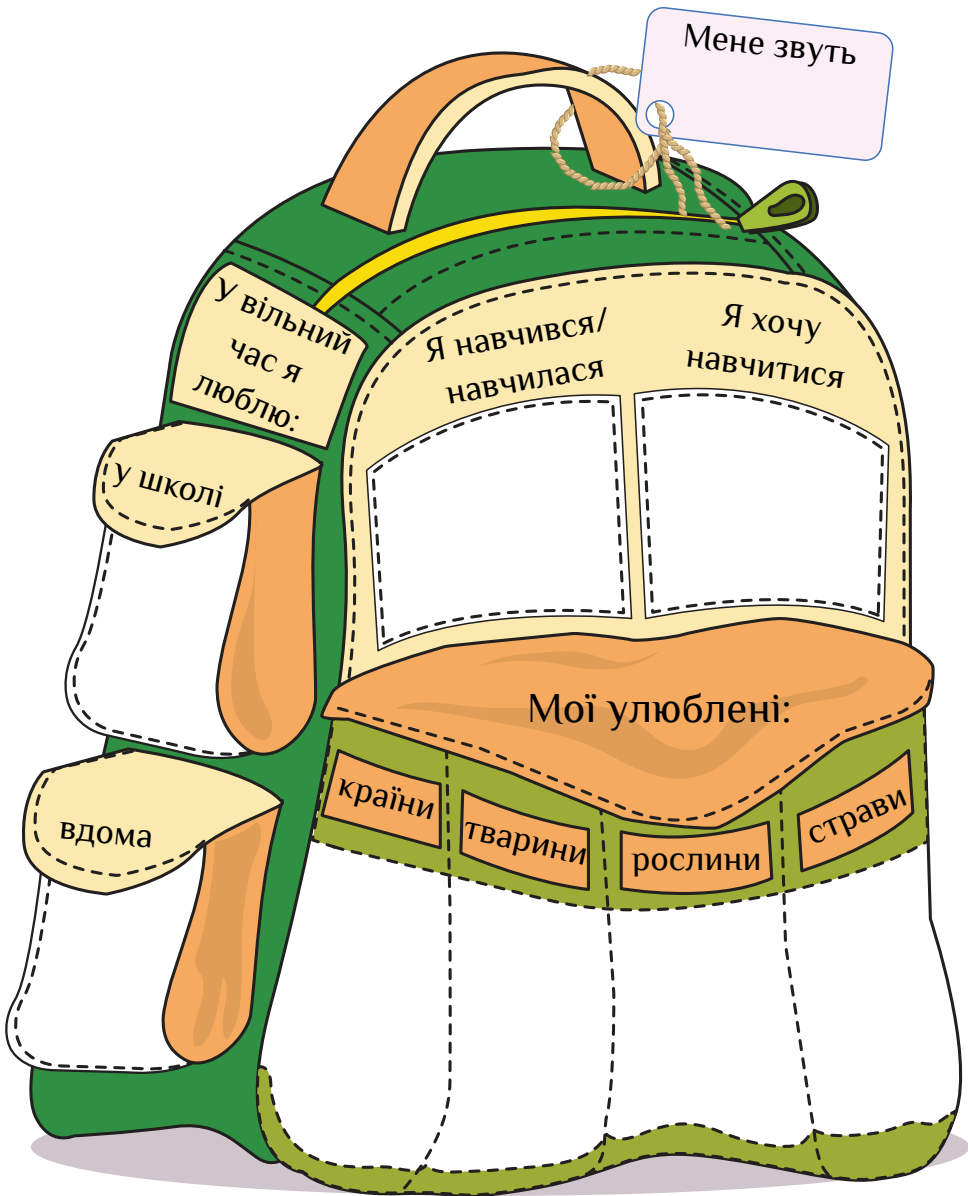
ISBN 978-966-2663-86-0

© ТОВ «Видавництво «Алатон»»,  
текст, дизайн, малюнки, 2019

© Т. Воронцова, текст, дизайн, малюнки, 2019

© О. Курило, малюнки, 2019

# Мій багаж



# Головне про Арктику і Антарктику

1. Розфарбуй Арктику і Антарктику.



2. Встав пропущені слова.

Територія за Північним полярним колом — \_\_\_\_\_

Величезний шматок криги — \_\_\_\_\_

Аврора — це полярне \_\_\_\_\_

Полярний день змінює полярна \_\_\_\_\_

СЯЙВО АЙСБЕРГ НІЧ АРКТИКА



Знайди на континенті наведені слова та обведи їх.



- ІГЛУ
- ЕСКИМОС
- ~~ХАСКІ~~
- ЗОЛОТО
- НАРВАЛ
- ВЕДМІДЬ
- КАРИБУ
- НАРТИ

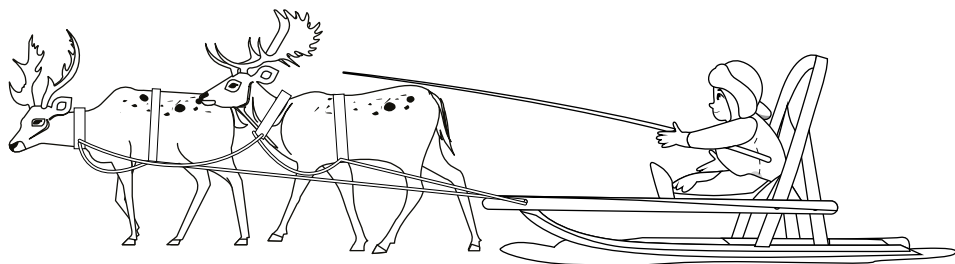
- АЙСБЕРГ
- ПОЛЮС
- ПІНГВІН
- ПОЛЯРНИК
- АВРОРА
- КРЯЧОК
- ТЮЛЕНЬ
- ЛІД





# Досліджуємо Арктику

Розшифруй слова і розфарбуй символи Арктики.




Кабури

--	--	--	--	--	--


тиНар

--	--	--	--	--



луГ

--	--	--	--



кіХас

--	--	--	--	--



ржМо

--	--	--	--



1. Познач ☺, якщо сума достатня для купівлі товару, і ☹ — якщо недостатня.

   <div style="border: 1px solid green; padding: 5px; display: inline-block;">             ЦІНА  <b>62 грн</b> </div>	    <div style="border: 1px solid green; padding: 5px; display: inline-block;">             ЦІНА  <b>10 грн</b> </div>
    <div style="border: 1px solid green; padding: 5px; display: inline-block;">             ЦІНА  <b>39 грн</b> </div>	     <div style="border: 1px solid green; padding: 5px; display: inline-block;">             ЦІНА  <b>23 грн</b> </div>
   <div style="border: 1px solid green; padding: 5px; display: inline-block;">             ЦІНА  <b>21 грн</b> </div>	    <div style="border: 1px solid green; padding: 5px; display: inline-block;">             ЦІНА  <b>11 грн</b> </div>

2. Намалюй купюри/монети, за які можна придбати цей товар.



Встав пропущені слова і прочитай цікаві факти про білого ведмедя.

Мій день  
відзначають  
27 \_\_\_\_\_.

Я живу  
в \_\_\_\_\_.

Я добре  
\_\_\_\_\_  
у холодній воді.


Я найбільший  
сухопутний  
\_\_\_\_\_.

Я прикриваю  
\_\_\_\_\_,  
коли сплю.

У мене хороший  
\_\_\_\_\_.

Хоч моє хутро  
біле, моя шкіра  
\_\_\_\_\_  
кольору.

Я маю  
\_\_\_\_\_  
між пальцями.



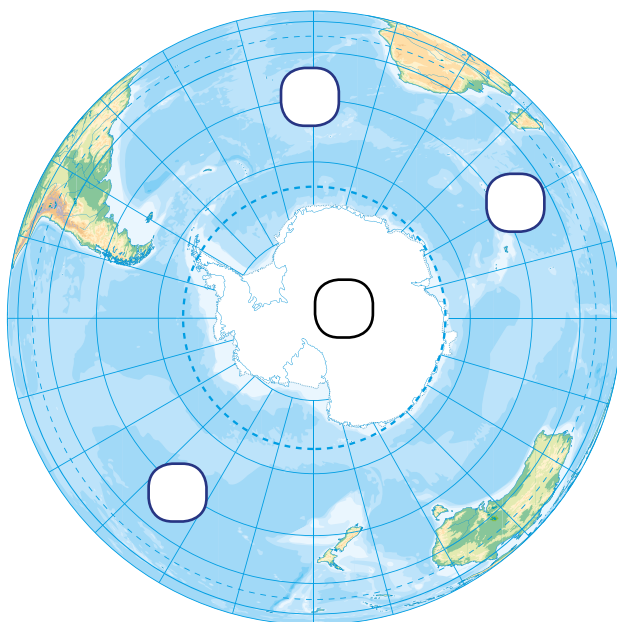
АРКТИЦІ ПЛАВАЮ ЧОРНОГО ХИЖАК НЮХ  
ПЕРЕТИНКИ НІС ЛЮТОГО

# Досліджуємо Антарктику

1. Познач на карті:

1 — Антарктиду; 2 — Тихий океан;

3 — Індійський океан; 4 — Атлантичний океан.



2. Встав пропущені слова.

Найхолодніший материк планети — \_\_\_\_\_




Антарктиду майже повністю вкриває \_\_\_\_\_

Взимку в Антарктиці живуть лише \_\_\_\_\_

В Антарктиці знаходиться Південний \_\_\_\_\_

ДОСЛІДНИКИ   АНТАРКТИДА   ПОЛЮС   КРИГА

1. Виміряй за допомогою лінійки і запиши зріст пінгвінів.
2. Пронумеруй пінгвінів від найнижчого до найвищого.





Встав пропущені слова і розфарбуй пінгвіна.

Я не вмію літати,  
але швидко  
\_\_\_\_\_.

Інші пінгвіни  
мене впізнають  
за \_\_\_\_\_.

Я вмію  
\_\_\_\_\_  
стоячи.

Я високо  
\_\_\_\_\_  
з води.

Я єдиний  
\_\_\_\_\_  
птах.

Щороку я  
\_\_\_\_\_.

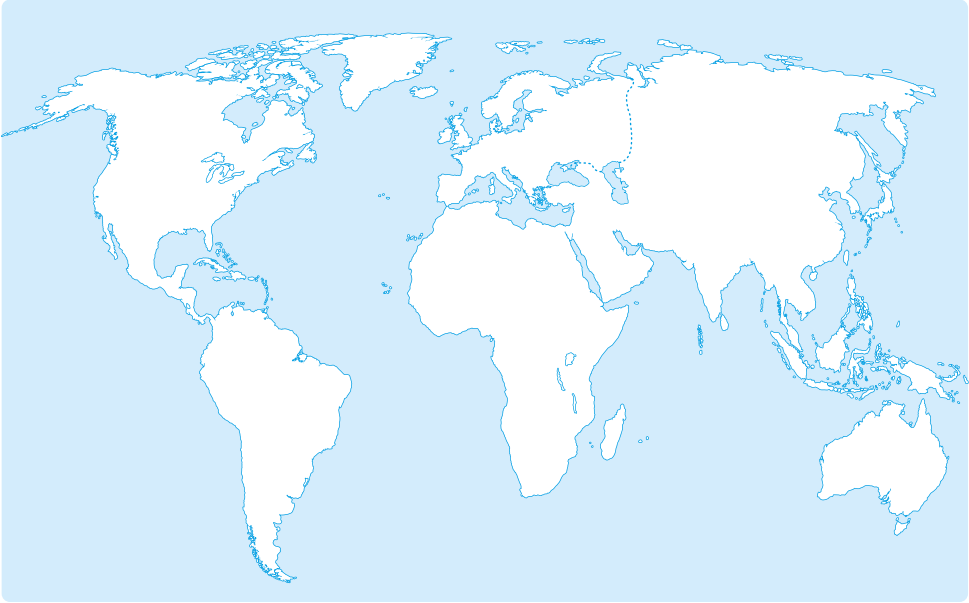


СТРИБАЮ ПЛАВАЮ СПІВОМ  
ПРЯМОХОДЯЧИЙ ЛИНЯЮ СПАТИ



# Головне про Південну Америку

1. Знайди і розфарбуй континент Південна Америка.



2. Встав пропущені слова.

Найповноводніша ріка на планеті — \_\_\_\_\_

Найдовший у світі гірський хребет — \_\_\_\_\_

Найвищий водоспад на планеті — \_\_\_\_\_

Найменша пташка на планеті — \_\_\_\_\_

Найдовша у світі змія — \_\_\_\_\_

АНХЕЛЬ АМАЗОНКА АНДИ АНАКОНДА КОЛІБРИ

Знайди на континенті наведені нижче слова та обведи їх.



ПАМПАСИ  
 ПОНЧО  
 ЛАСО  
 ШПОРИ  
 ІГРУНКА  
 ТУКАН  
 ГЕВЕЯ  
 ГАУЧО  
 ЛАМА

АМАЗОНКА  
 АНХЕЛЬ  
 АНДИ  
 КОЛІБРИ  
~~АЛЬПАКА~~  
 АНАКОНДА  
 БРОНЕНОСЕЦЬ  
 ЛИСТОЛАЗ  
 ЛІНИВЕЦЬ

1. Розв'яжи приклади і розшифруй назви рослин Південної Америки.

Ф	30 – 24	
К	28 – 20	
С	81 – 72	
У	48 – 41	
Я	15 – 11	
І	50 – 40	
Г	23 – 22	
Е	56 – 54	
В	77 – 74	
А	85 – 80	
О	62 – 48	
Х	33 – 21	
Р	48 – 35	
Д	93 – 82	

1	2	3	2	4

5	1	5	3	5

6	7	8	9	10	4

14	13	12	10	11	2	4

2. Підпиши умови вирощування рослин.



Розв'яжи приклади і розфарбуй малюнок.

$65 - 60 =$  ●

$20 - 16 =$  ●

$44 - 42 =$  ●

$30 - 29 =$  ●

$58 - 55 =$  ●

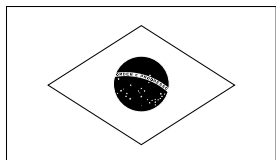
$81 - 74 =$  ●

$69 - 63 =$  ●



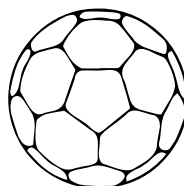
# Досліджуємо Бразилію

Розшифруй слова і розфарбуй символи Бразилії.



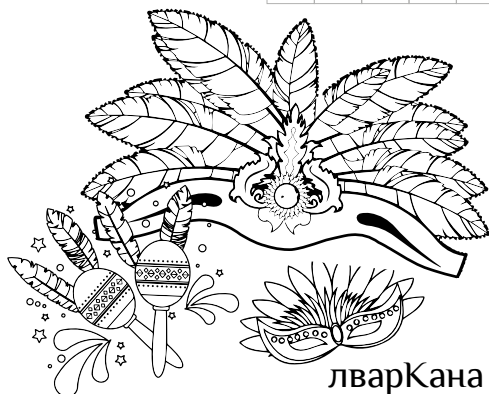
канТу

--	--	--	--	--



ботФул

--	--	--	--	--	--



лварКана

--	--	--	--	--	--






асБам

--	--	--	--	--








Заповни порожні клітинки так, щоб у кожному рядку  , стовпчику  і блоці  кожен м'яч був лише один раз.

# УЗДОВЖ Анд

Розшифруй слова і розфарбуй символи Аргентини.




гонТа

--	--	--	--	--




уГачо

--	--	--	--	--




нПочо

--	--	--	--	--



Встав пропущені слова і розфарбуй ламу.

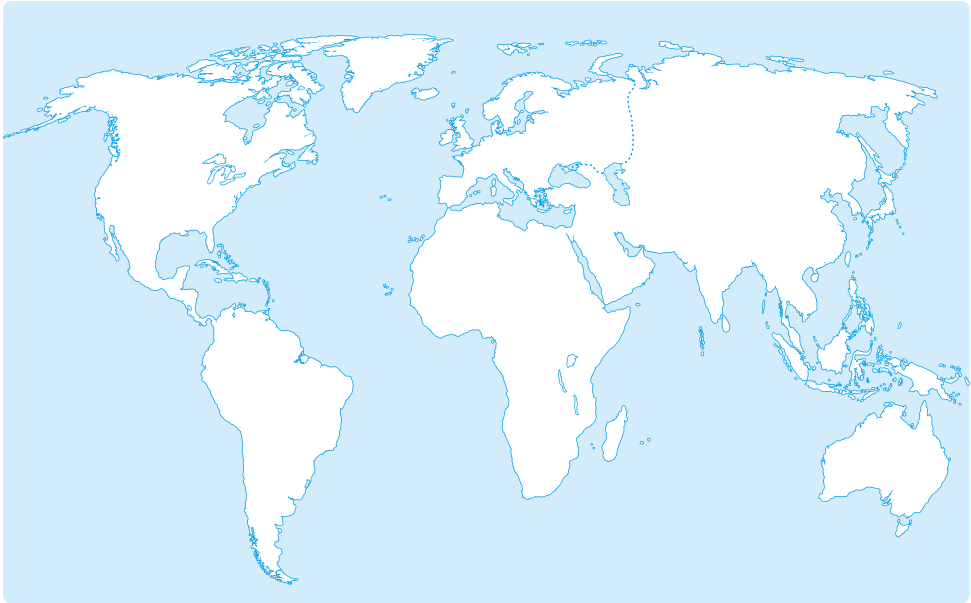


ВЕРБЛЮД ПЛЮНУ БІГАЮ ГУДІННЯМ  
ОХОРОНЯТИ РОЗУМНА НЕСТИ



# Головне про Північну Америку

1. Розфарбуй континент Північна Америка.



2. Встав пропущені слова.

Найбільший острів у світі — \_\_\_\_\_

Найбільша у світі група озер — \_\_\_\_\_

Найбільше на Землі прісноводне озеро — \_\_\_\_\_

У Північній Америці знаходиться відомий

НІАГАРСЬКИЙ ВОДОСПАД ВЕРХНЄ  
ГРЕНЛАНДІЯ ВЕЛИКІ ОЗЕРА

Знайди на континенті наведені нижче слова та обведи їх.



МАРАКАСИ	ДІАСПОРА	ПЕСЕЦЬ	АБОРИГЕНИ
ЕКСПЕДИЦІЯ	КАРИБУ	СОМБРЕРО	КАНЬЙОН
ВІГВАМ	США	МЕКСИКА	КАНАДА

Встав пропущені слова і розфарбуй карибу.

Мене називають  
карибу, або  
\_\_\_\_\_.

Залежно  
від пори року  
я змінюю колір  
\_\_\_\_\_.

\_\_\_\_\_  
допомагають ходити  
по глибокому снігу.

\_\_\_\_\_  
допомагають  
розчищати сніг, щоб  
дістатися до їжі.

Я вмію  
добре  
\_\_\_\_\_.



РОГИ

ПІВНІЧНИЙ ОЛЕНЬ

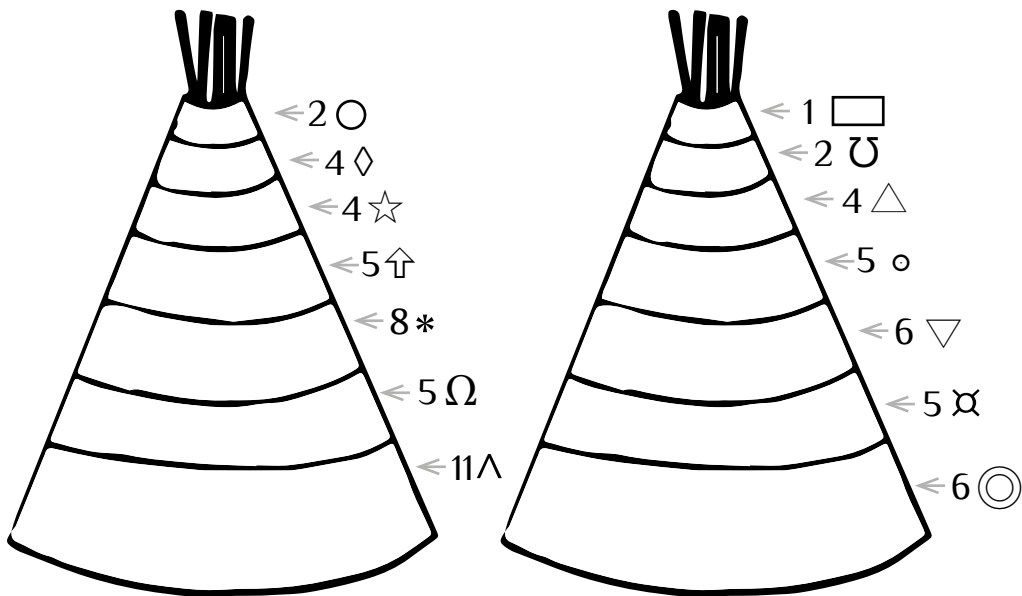
ПЛАВАТИ

КОПИТА


ОЧЕЙ



1. Розмалюй за допомогою позначок житло індіанців і розфарбуй його.

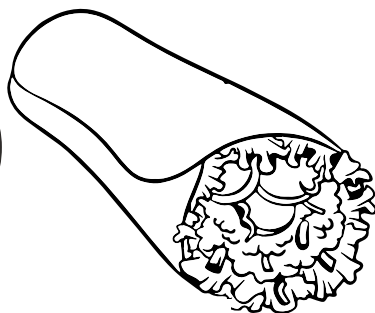






2. З'єднай пари і розфарбуй індіанців.



# Екзотична Мексика

Розшифруй і розфарбуй символи Мексики.

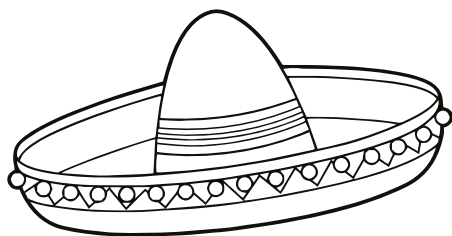


расиМака

--	--	--	--	--	--	--	--


риБуто

--	--	--	--	--	--	--	--



бреСомро

--	--	--	--	--	--	--	--



Розв'яжи приклади за зразком, використовуючи цифри майя.

0	1	2	3	4	5	6	7	8	9
10	11	12	13	14	15	16	17	18	19

$$\text{Maya 5} + \text{Maya 5} = \text{Maya 10}$$

$$15 - 7 = 8$$

$$0 + 10 = 10$$

$$\text{Maya 15} - \text{Maya 7} = \text{Maya 8}$$

1.  $\text{Maya 6} + \text{Maya 2} = \square$

1.  $18 - 6 = \square$

			=	
--	--	--	---	--

--	--	--	--	--

2.  $\text{Maya 12} + \text{Maya 5} = \square$

2.  $1 + 14 = \square$

--	--	--	--	--

--	--	--	--	--

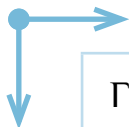
3.  $\text{Maya 18} - \text{Maya 6} = \square$

3.  $7 + 9 = \square$

--	--	--	--	--

--	--	--	--	--

1. Знайди у таблиці слова, що записані нижче.



Г	Б	Т	О	М	А	Т	И	Р	К
У	У	Г	Н	Ч	И	Л	І	Т	У
А	Р	Н	К	Г	О	Р	И	О	К
К	И	А	Й	У	К	Е	Н	Р	У
А	Т	Ч	Г	Н	Г	Ш	Ю	Т	Р
М	О	О	Я	Ч	С	М	И	И	У
О	Т	С	Ь	Б	Ю	Д	О	Л	Д
Л	К	А	Б	А	Ч	К	И	Ь	З
Е	Ф	С	А	Л	Ь	С	А	Я	А
Р	О	П	У	Н	Ц	І	Я	Ш	А

БУРИТО    ТОМАТИ    ТОРТИЛЬЯ    ЧИЛІ  
КУКУРУДЗА    КАБАЧКИ    САЛЬСА    НАЧОС  
ГУАКАМОЛЕ    ОПУНЦІЯ

2. Зафарбуй зеленим кольором правдиві висловлювання, а червоним — хибні.

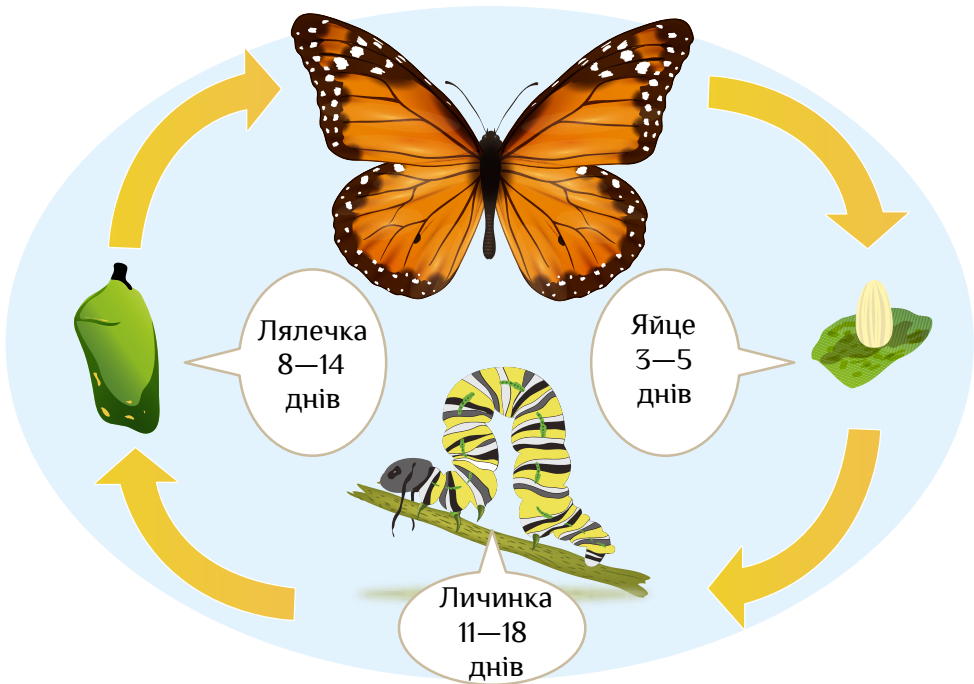
Емотикони — це символи, якими позначають усе: тварин, страви, дорожні знаки.

Тортилья — корж з кукурудзяного борошна.

Гуакамоле — соус з авокадо.

Емоджі — графічні зображення обличчя для передання емоцій.

Тривалість розвитку метелика-монарха залежить від температури повітря. Розглянь життєвий цикл метелика-монарха і виконай завдання.


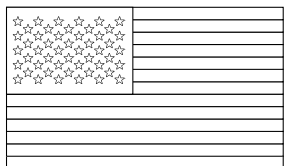


Стадія	Дні (22 С°)	Дні (28 С°)	Різниця
Яйце	5	3	2
Личинка	18	11	
Лялечка	14	8	
Всього	37	22	



1. Яка стадія розвитку триває найменше днів? \_\_\_\_\_
2. Яка стадія розвитку триває найбільше днів? \_\_\_\_\_

# США — країна винахідників

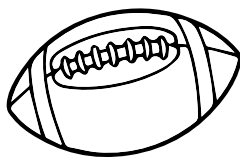
Розшифруй і розфарбуй символи США.



туяСта дибоСво



ленднейДіс




біПер



болБейс

ланОр вийголоБіло

Пронумеруй етапи проростання насіння.



1. Досліди в інтернеті й обведи правильну відповідь.

Довжина каное      4 м      4 дм      4 см

Висота вігвама      3 дм      3 м      3 см

Довжина списа      6 дм      6 см      6 м

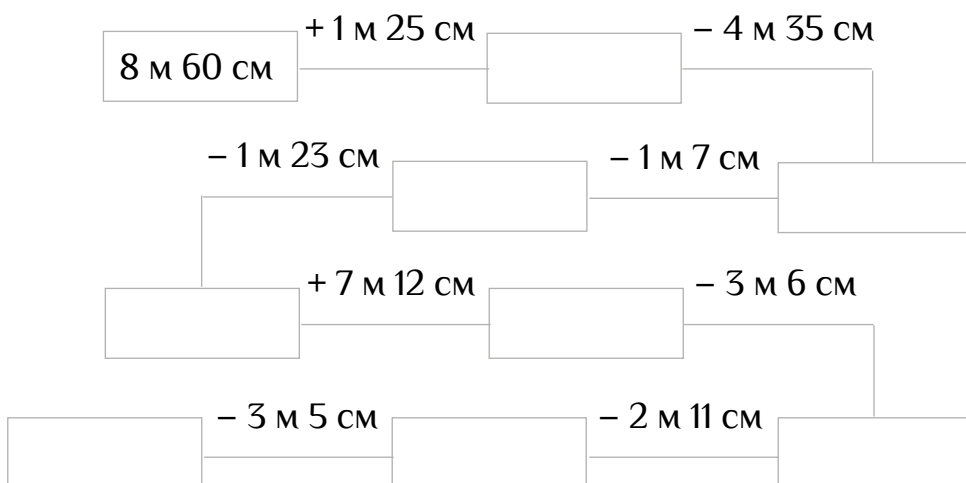
2. Постав відповідний знак (<, >, =).

7 м  9 дм      10 дм  1 м      2 м  8 см

15 см  2 дм      40 см  4 дм      1 см  1 дм

30 см  1 дм      25 см  2 дм      28 см  3 дм



3. Розв'яжи ланцюжок прикладів.





# Дружня Канада

Розшифруй і розфарбуй символи Канади.



кейХо

--	--	--	--	--




берБо

--	--	--	--	--














зГрилi

--	--	--	--	--



Прочитай і запиши текст, користуючись символами індіанців.

				
щасливий	сліди коня	три дні	хлопець	люди
				
індіанський табір	річка	дівчина	кінь	

 зник з .  шукали його  і припинили пошук. Та одного разу  і  гуляли біля , де побачили . Ідучи за ними, вони знайшли і . Всі були , що  знайшовся.

\_\_\_\_\_ зник з \_\_\_\_\_.

\_\_\_\_\_ шукали його \_\_\_\_\_ і припинили пошук.

Та одного разу \_\_\_\_\_ і \_\_\_\_\_ гуляли біля

\_\_\_\_\_, де побачили \_\_\_\_\_ . Ідучи

за ними, вони знайшли і \_\_\_\_\_ . Всі були \_\_\_\_\_ ,

що \_\_\_\_\_ знайшовся.

З'єднай тваринку з її ознаками.

Живу в норі.  
Їм деревну кору і гілки.  
Маю густе і довге хутро, яке  
не намокає.  
Мій хвіст покритий  
своєрідною «лускою».



Рись

Харчуюся переважно рибою.  
Я — один із національних  
символів США.  
Оселяюся зазвичай  
на морському узбережжі,  
заболочених ділянках, берегах  
річок і озер.



Орлан білоголовий



Бобер



Гризлі

Умію ловити рибу.  
Люблю горіхи, ягоди, коріння.  
На зиму впадаю у сплячку.  
Маю довгі кігті.  
Відчуваю запах їжі  
за 5 кілометрів.

Маю довгий хвіст.  
Довжина мого стрибка сягає  
12 метрів.  
Схожий на великого kota.  
У мене гострі кігті.  
Вмію легко лазити по деревах.

Розв'яжи приклади. Розфарбуй малюнок.



30



10



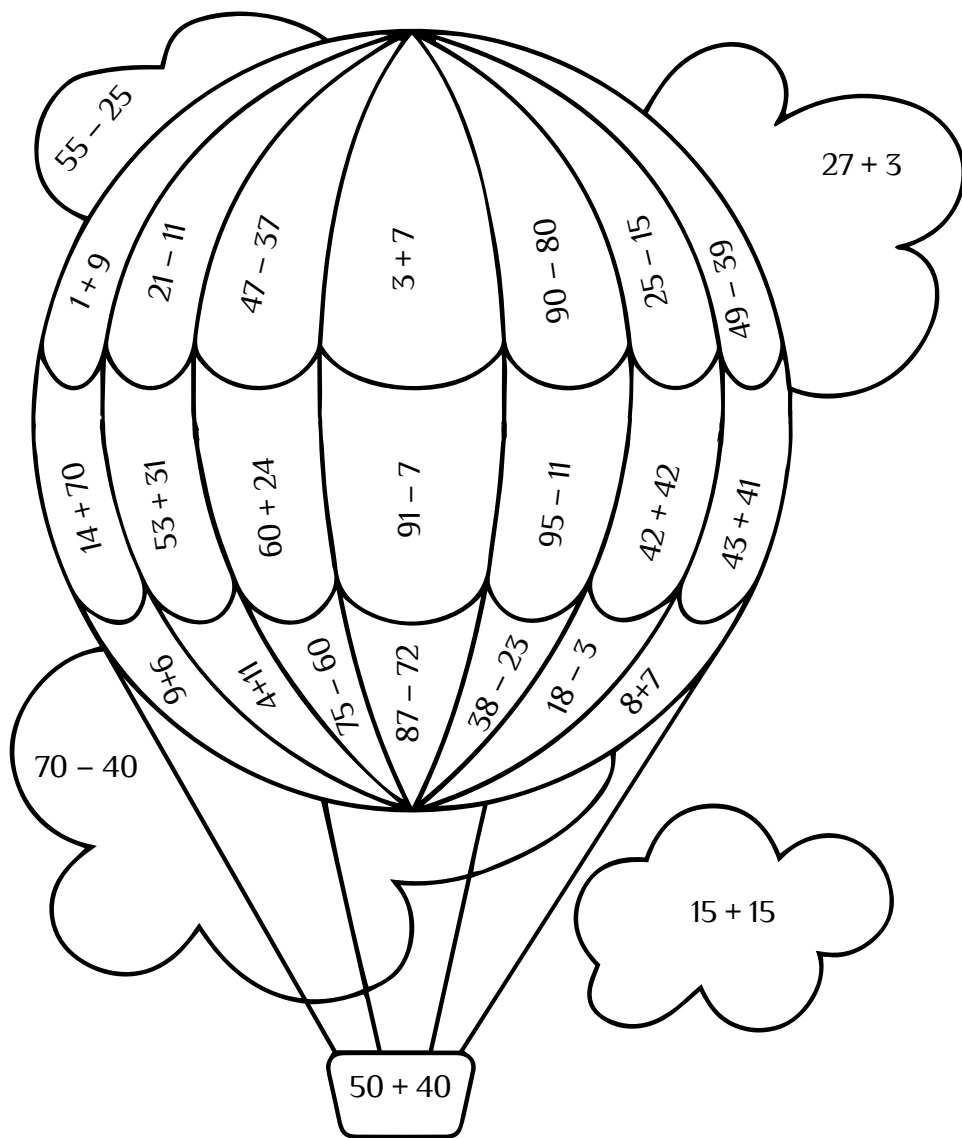
15



84

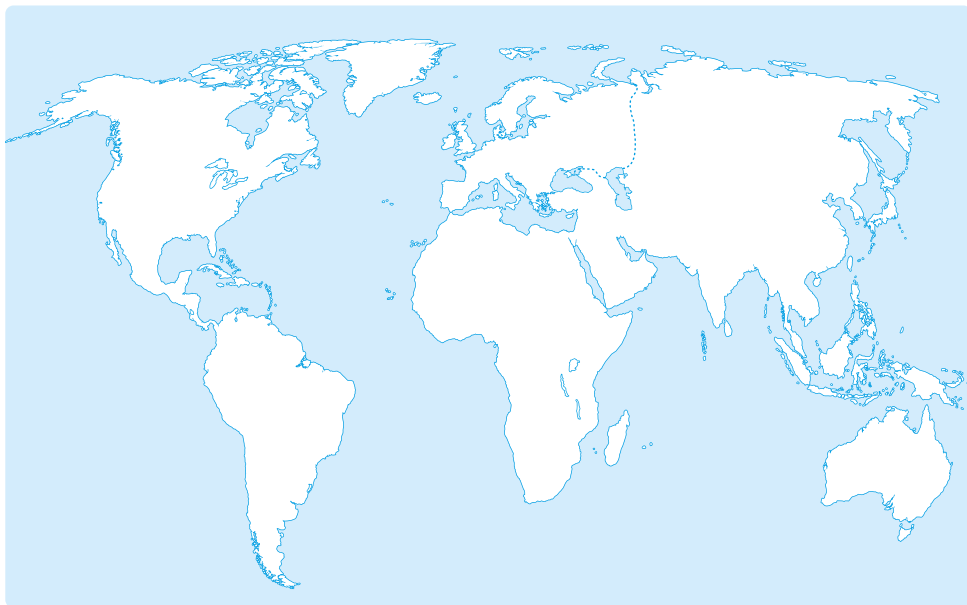


90



# Головне про Австралію

1. Розфарбуй континент Австралія.



2. Встав пропущені слова.

Найменший континент планети — \_\_\_\_\_

Назва «Австралія» перекладається як — \_\_\_\_\_

Найбільший піщаний острів у світі — \_\_\_\_\_

Найвища будівля в Сіднеї — \_\_\_\_\_

АВСТРАЛІЯ СІДНЕЙСЬКА ВЕЖА ФРЕЙЗЕР ПІВДЕННА

Знайди на континенті наведені нижче слова та обведи їх.



БІЛБІ

КАЧКОДЗЬОБ

ФРЕЙЗЕР

КИТ

УЛУРУ

ДЕЛЬФІН

КОСАТКА

ЕМУ

АВСТРАЛІЯ

КЕНГУРУ

ССАВЦІ

КОАЛА

СУМЧАСТІ

ВЕРБЛЮД

ОКЕАНІЯ

Встав пропущені слова і розфарбуй коалу.

Мої

\_\_\_\_\_

майже такі, як  
людські.

Я

\_\_\_\_\_

лише евкалиптовим  
листям.

Я

\_\_\_\_\_

на деревах.

\_\_\_\_\_

допомагають легко  
лазити по деревах.

Маю

\_\_\_\_\_

для дитинчат.

Мене ще  
називають

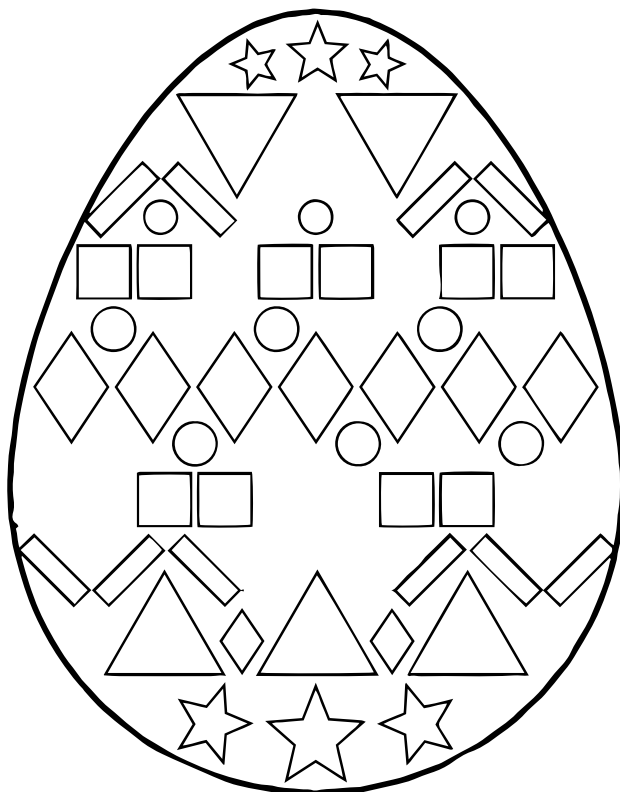
\_\_\_\_\_







ведмедиком.



СУМЧАСТИМ ХАРЧУЮСЯ СУМКУ  
КІГТИ ЖИВУ ВІДБИТКИ ПАЛЬЦІВ

Полічи фігури на пасхальному яйці. Намалюй діаграму за зразком. Розфарбуй великоднє яйце.






	1.	2.	3.	4.	5.	6.	7.	8.	9.	10.
										
										
										
										
										
										



# Рух і час

Розшифруй і розфарбуй символи Австралії.

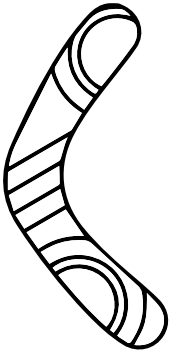


біБіл

--	--	--	--	--	--

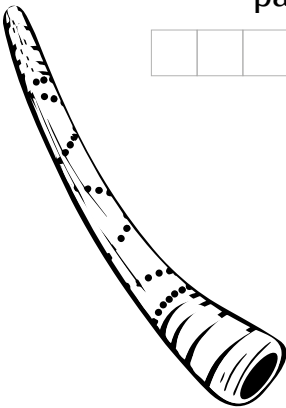
муЕ

--	--	--




рангмеБу

--	--	--	--	--	--	--	--



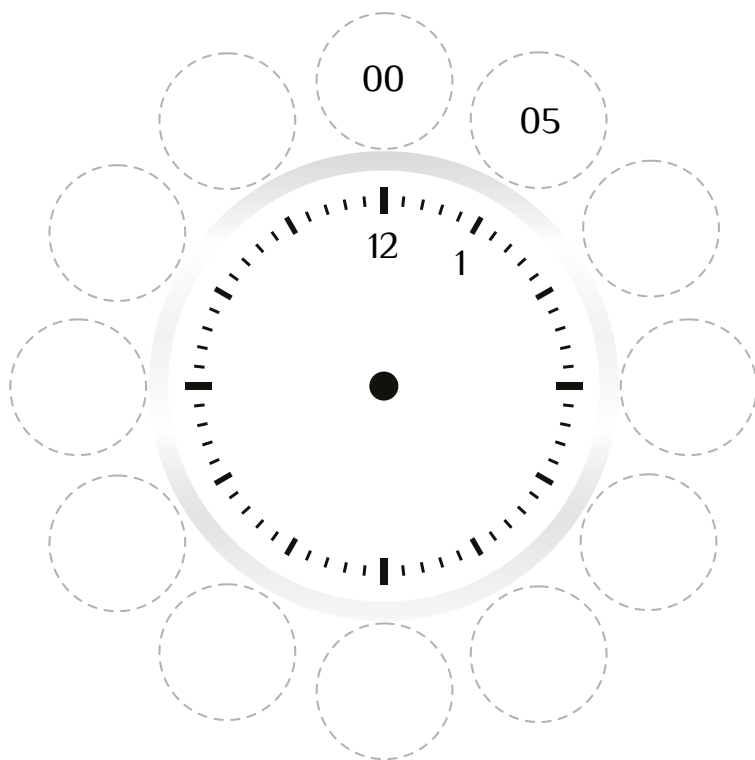
Диджериду



ругуКен

--	--	--	--	--	--	--	--

1. Запиши на годиннику години і хвилини. Намалюй стрілочки і розфарбуй на свій смак.



2. Користуючись цим годинником, розв'яжи задачі.

- Оксана та Андрій виїхали до бабусі о 12 годині 10 хвилин. В дорозі вони були 4 години. О котрій годині діти приїхали до бабусі?

Відповідь: \_\_\_\_\_

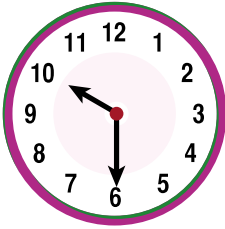
- Наталка почала читати книжку о 16 годині 15 хвилин, а завершила — о 17 годині 25 хвилин. Скільки часу читала Наталка?

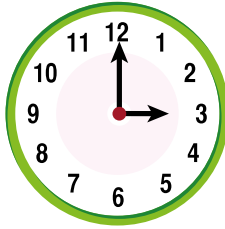
Відповідь: \_\_\_\_\_

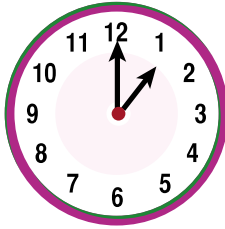
- Миколка пішов до школи о 8 годині 30 хвилин. Повернувся додому через 6 годин 15 хвилин. О котрій годині Миколка повернувся додому?

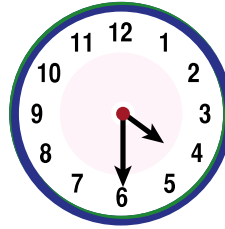
Відповідь: \_\_\_\_\_

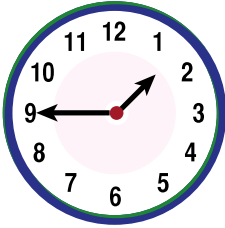
1. Запиши час, який показує кожен годинник.

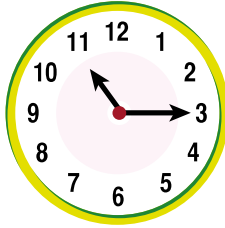





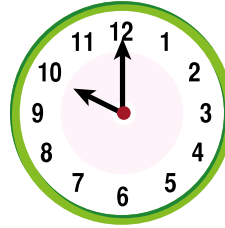




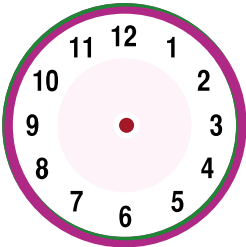


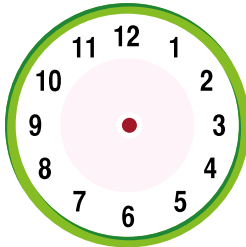


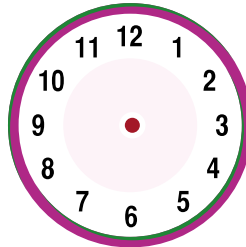


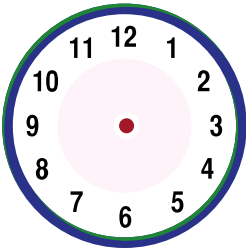


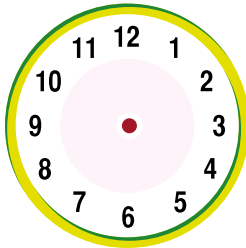

2. Домалюй стрілочками час, зазначений під кожним годинником.

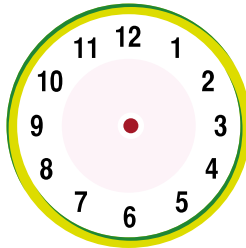












1. Постав відповідний знак (<, >, =).

2 роки  25 місяців    3 роки  36 місяців  
1 тиждень  3 дні    12 днів  2 тижні  
2 місяці  5 тижнів    27 днів  1 місяць

2\*. Розв'яжи приклади.

1 місяць + 9 місяців = \_\_\_\_\_

1 рік 11 місяців – 6 місяців = \_\_\_\_\_

2 роки + 13 місяців = \_\_\_\_\_

4 роки – 12 місяців = \_\_\_\_\_

36 місяців – 2 роки = \_\_\_\_\_

3. Розв'яжи задачу.

Матвій народився у жовтні, Ліля — на один місяць пізніше, ніж Матвій, а Олег — на три місяці раніше, ніж Ліля. Визнач і запиши місяці, в які народилися Ліля та Олег.

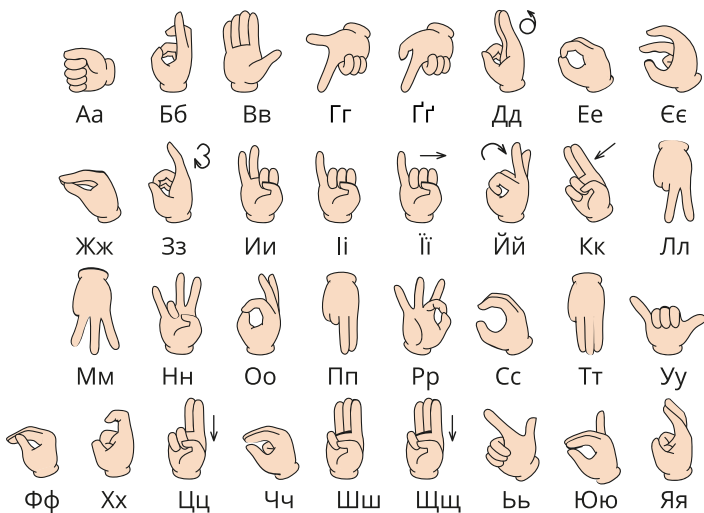
Місяць народження Лілі \_\_\_\_\_

Місяць народження Олега \_\_\_\_\_

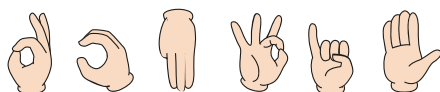
Січень	Лютий	Березень	Квітень
Травень	Червень	Липень	Серпень
Вересень	Жовтень	Листопад	Грудень

# Острови Океанії

Розшифруй і запиши слова, використовуючи мову жестів.



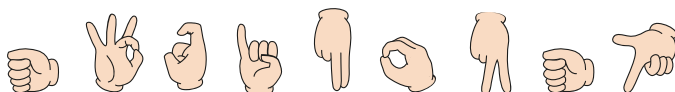
--	--	--



--	--	--	--	--	--




--	--	--	--	--	--	--




--	--	--	--	--	--	--	--	--




Розфарбуй і полічи тварин кожного виду. Намалюй діаграму за зразком.


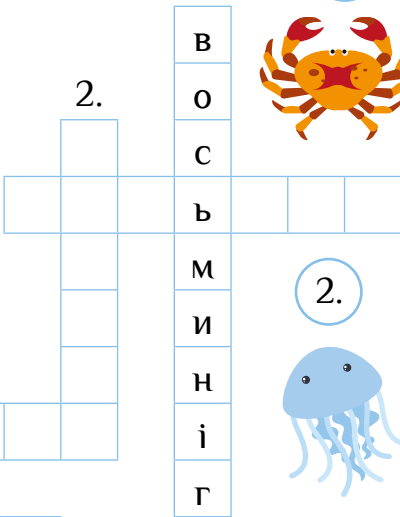






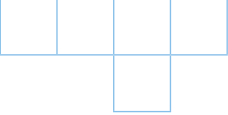
7.						
6.						
5.						
4.						
3.						
2.						
1.						





1. Розгадай кросворд.

3.  6.  3.  7.




5.  1.  2.  2.




8.  4.  5.  7.  8.





6. к о с а т к а




4.  1. 

2. Розв'яжи математичні ребуси.

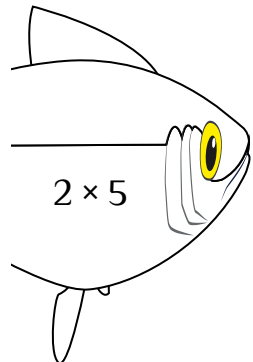
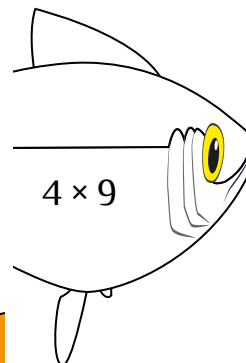
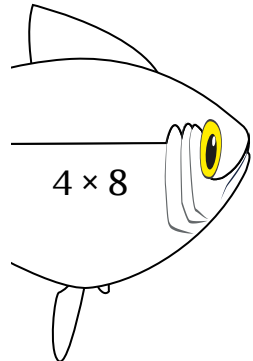
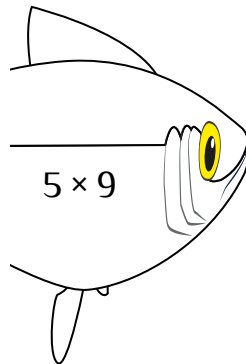
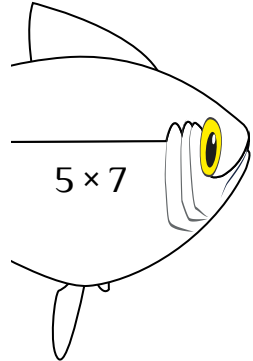
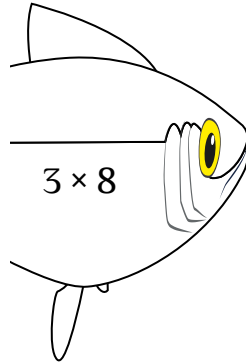
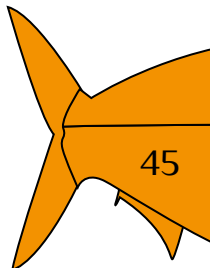
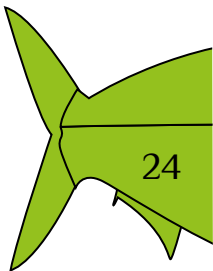
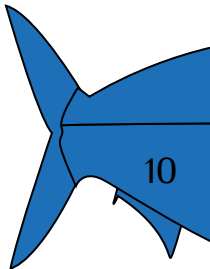
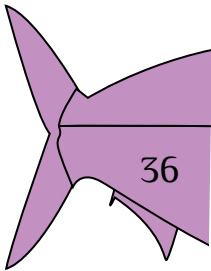
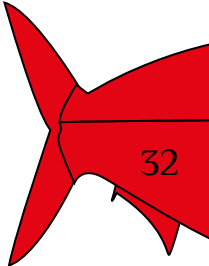
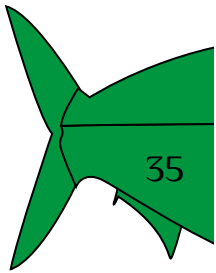
  

15 +  =   + 15 = 

 - 15 =   -  =

 + 12 =   +  =



Знайди хвостик кожної рибки. Розфарбуй рибку відповідним кольором.



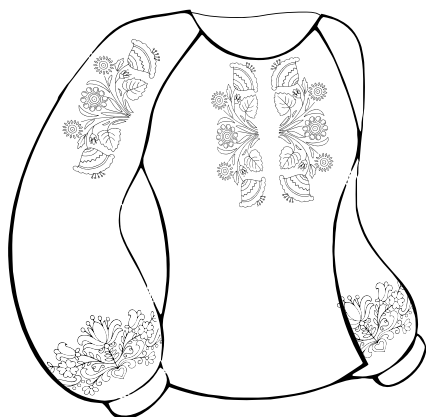


# Туристична Україна

Розшифруй і розфарбуй символи України.



раЖувель



шинкаВива




льМави



лиКана



реГб



Запиши слова за допомогою підказки.

	1	2	3	4	5	6
А	Ф	Л	И	О	Ж	Г
Б	З	В	А	Н	Х	Р
В	П	І	Д	У	Т	Й
Г	Ю	С	К	Е	Ш	Ї

Г6 А5 Б3

ї Ж А

Г3 В4 Б6 В5 Г3 Б3

Г2 Б2 Г4 В5 Б6

Г3 Г4 В1 Г3 Б3

Б2 А4 В3 Б3

В5 Г4 А2 Г4 А1 А4 Б4

Г2 Б2 А3 Г2 В5 А4 Г3





А2 В2 Б5 В5 Б3 Б6 А3 Г3

Г3 Б6 А4 Г2 В2 Б2 Г3 А3

Г5 Г3 Б3 Б6 В1 Г4 В5 Г3 А3

# Українська земля

Зафарбуй відповідним кольором на календарі етапи вирощування врожаю.

	Оранка землі	15 квітня — 30 квітня
	Висівання насіння	1 травня — 10 травня
	Обробка від шкідників	25 травня — 5 червня
	Збір урожаю	1 серпня — 10 вересня

Квітень							Травень							Червень						
пн	вт	ср	чт	пт	сб	нд	пн	вт	ср	чт	пт	сб	нд	пн	вт	ср	чт	пт	сб	нд
		1	2	3	4	5					1	2	3	1	2	3	4	5	6	7
6	7	8	9	10	11	12	4	5	6	7	8	9	10	8	9	10	11	12	13	14
13	14	15	16	17	18	19	11	12	13	14	15	16	17	15	16	17	18	19	20	21
20	21	22	23	24	25	26	18	19	20	21	22	23	24	22	23	24	25	26	27	28
27	28	29	30				25	26	27	28	29	30	31	29	30					

Липень							Серпень							Вересень						
пн	вт	ср	чт	пт	сб	нд	пн	вт	ср	чт	пт	сб	нд	пн	вт	ср	чт	пт	сб	нд
		1	2	3	4	5						1	2	1	2	3	4	5	6	
6	7	8	9	10	11	12	3	4	5	6	7	8	9	7	8	9	10	11	12	13
13	14	15	16	17	18	19	10	11	12	13	14	15	16	14	15	16	17	18	19	20
20	21	22	23	24	25	26	17	18	19	20	21	22	23	21	22	23	24	25	26	27
27	28	29	30	31			24	25	26	27	28	29	30	28	29	30				

Скільки днів тривала оранка землі?

Відповідь: \_\_\_\_\_

Скільки днів тривала обробка від шкідників?

Відповідь: \_\_\_\_\_

Скільки днів тривав збір урожаю?

Відповідь: \_\_\_\_\_

Розв'яжи задачі.

1. Соняшник Марини виріс заввишки 66 см, а Богдана — на 33 см вищий? Який заввишки соняшник Богдана?

					=		
--	--	--	--	--	---	--	--

2. У Матвія було 72 насінини. Частина з них він посіяв, залишилося 38 насінин. Скільки насінин посіяв Матвій?

					=		
--	--	--	--	--	---	--	--



3. Олег посадив 25 саджанців розсади, Яна — на 6 менше, а Максим — на 7 менше, ніж Яна. Скільки всього саджанців посадили діти?

Яна					=		
-----	--	--	--	--	---	--	--

Максим					=		
--------	--	--	--	--	---	--	--

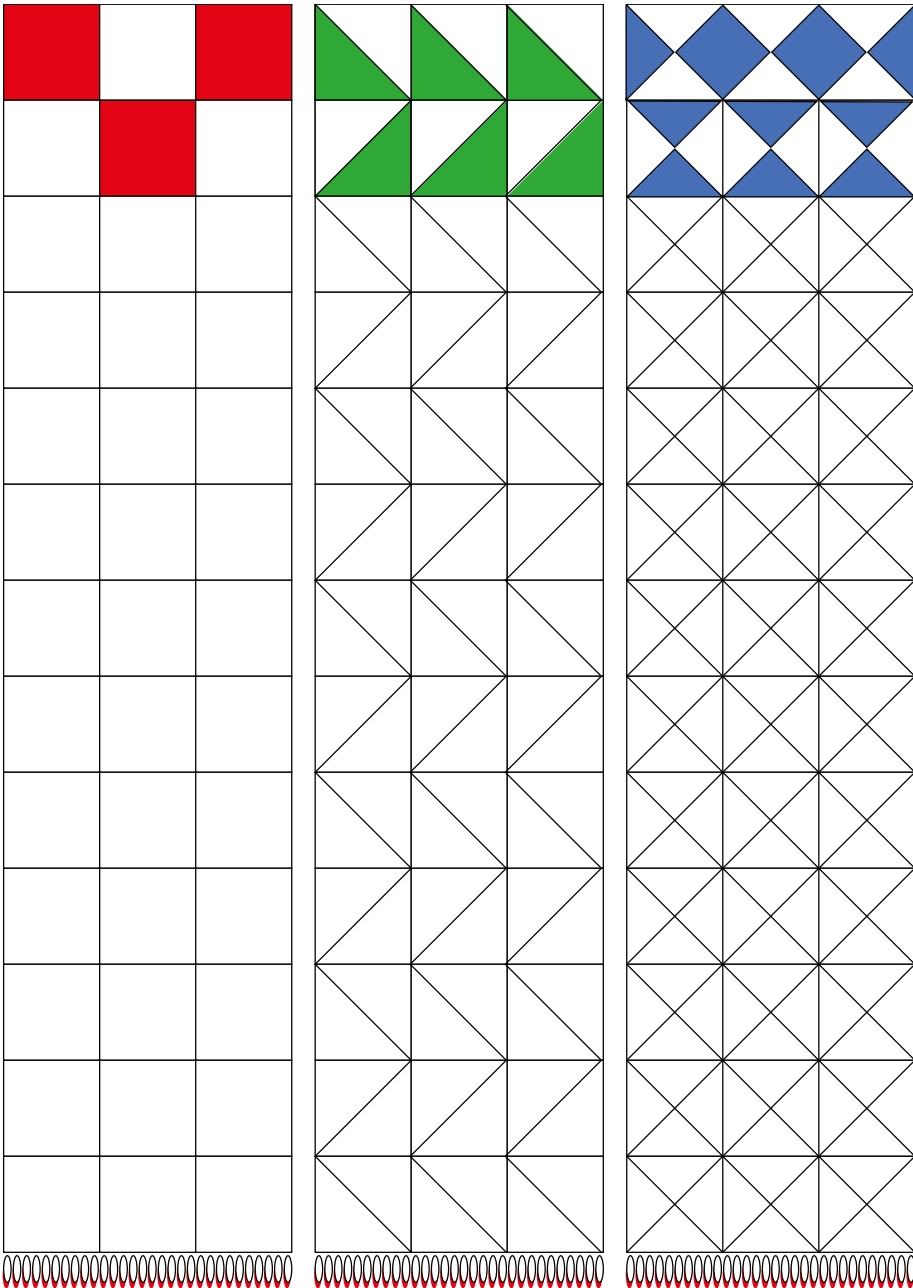
Всього		+		+		=		
--------	--	---	--	---	--	---	--	--

- 4\*. До крамниці привезли 100 літрів олії. Скільки пляшок олії привезли, якщо у кожній пляшці один літр олії?




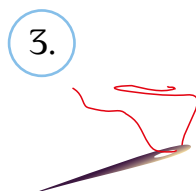
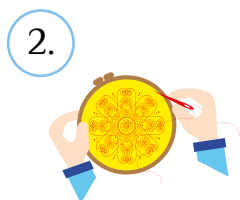
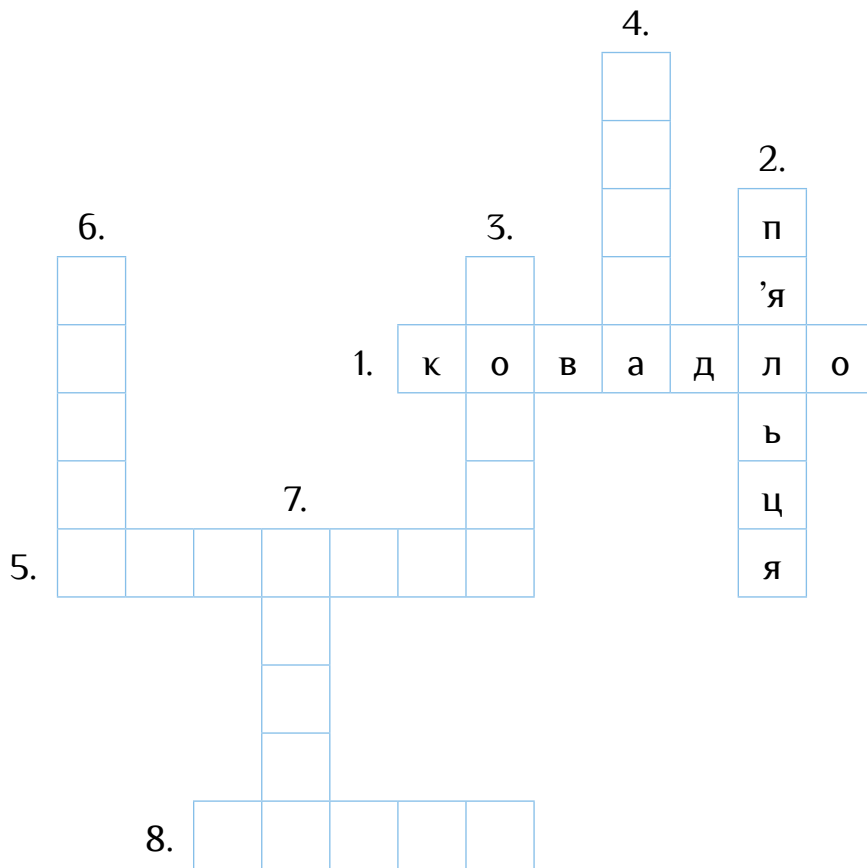
Відповідь: \_\_\_\_\_

# Мистецька Україна


Розфарбуй орнаменти.





Розгадай кросворд.





Розв'яжи приклади. Розфарбуй малюнок.


$7 \times 7 =$  

$4 \times 8 =$  

$5 \times 5 =$  

$6 \times 9 =$  

$8 \times 5 =$  



# Вчимося бути самоcтійними

Склади правила поведінки вдома і надворі. Зафарбуй відповідним кольором другу частину речення.

Ніколи не говори,

у машину  
до незнайомців.

Не відчиняй двері

після того,  
як стемніло.

Не гуляй надворі

з незнайомими  
людьми.

Не гуляй у безлюдних

не відходь від дому.

Ніколи не сідай

що дорослих немає  
вдома.

Не приймай від  
незнайомих людей

і незнайомих місцях.

Без дозволу батьків


ласощі та подарунки.


Ніколи не погоджуйся  
йти


незнайомим людям.



1. Розфарбуй клітинки з результатами множення чисел відповідним кольором.

  $3 \times 7 =$

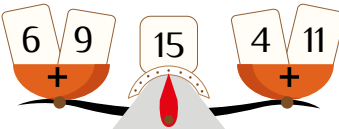
  $8 \times 6 =$

  $7 \times 9 =$

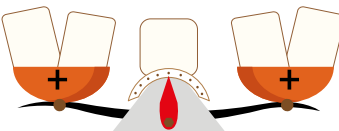
6	27	6	63	63	63	8	10	12
12	10	63	63	63	63	63	35	25
72	81	12	21	63	21	72	81	15
36	27	21	21	21	21	21	36	27
6	21	21	48	21	48	21	21	12
21	21	21	21	21	21	21	21	21
21	21	48	21	48	21	48	21	21
10	21	21	21	21	21	21	21	21
8	6	21	21	48	21	21	4	45
40	25	20	8	21	81	15	27	10

2. Виконай завдання за зразком.

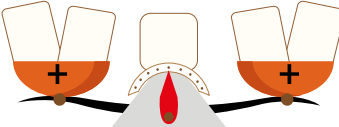
6 4 9 11



14 18 12 16



48 51 26 23



Пройди тест і перевір, чи підготувався ти до літнього відпочинку.



# ЗМІСТ



Мій багаж .....	3
Головне про Арктику і Антарктику .....	4
Досліджуємо Арктику .....	7
Досліджуємо Антарктику .....	11
Головне про Південну Америку .....	15
Досліджуємо Бразилію.....	19
Уздовж Анд .....	23
Головне про Північну Америку .....	26
Екзотична Мексика.....	30
США — країна винахідників.....	34
Дружня Канада.....	37
Головне про Австралію .....	41
Рух і час .....	45
Острови Океанії .....	49
Туристична Україна.....	53
Українська земля .....	55
Мистецька Україна.....	57
Вчимося бути самостійними.....	60

*Навчальне видання*

Воронцова Тетяна Володимирівна  
Пономаренко Володимир Степанович  
Хомич Олена Леонідівна  
Гарбузюк Ірина Вікторівна  
Андрук Наталія Володимирівна

# Я ДОСЛІДЖУЮ СВІТ

## ЧАСТИНА 2

Зошит-практикум інтегрованого курсу для 2 класу  
закладів загальної середньої освіти (у 2-х частинах)

Літературне редагування Л. Воронович  
Художнє оформлення О. Курило  
Коректор І. Шатунова

Формат 70×100/16. Гарнітура Philosofer. Друк офсетний.  
Ум. друк. арк. 5,19. Обл.-вид. арк. 5,18.