

Рекомендовано МОН



11
Клас

Історія України Контурні Карти

Історія України



КАРТОГРАФІЯ

ukrmap.com.ua
kartographia.com.ua

Олександрів

Харків

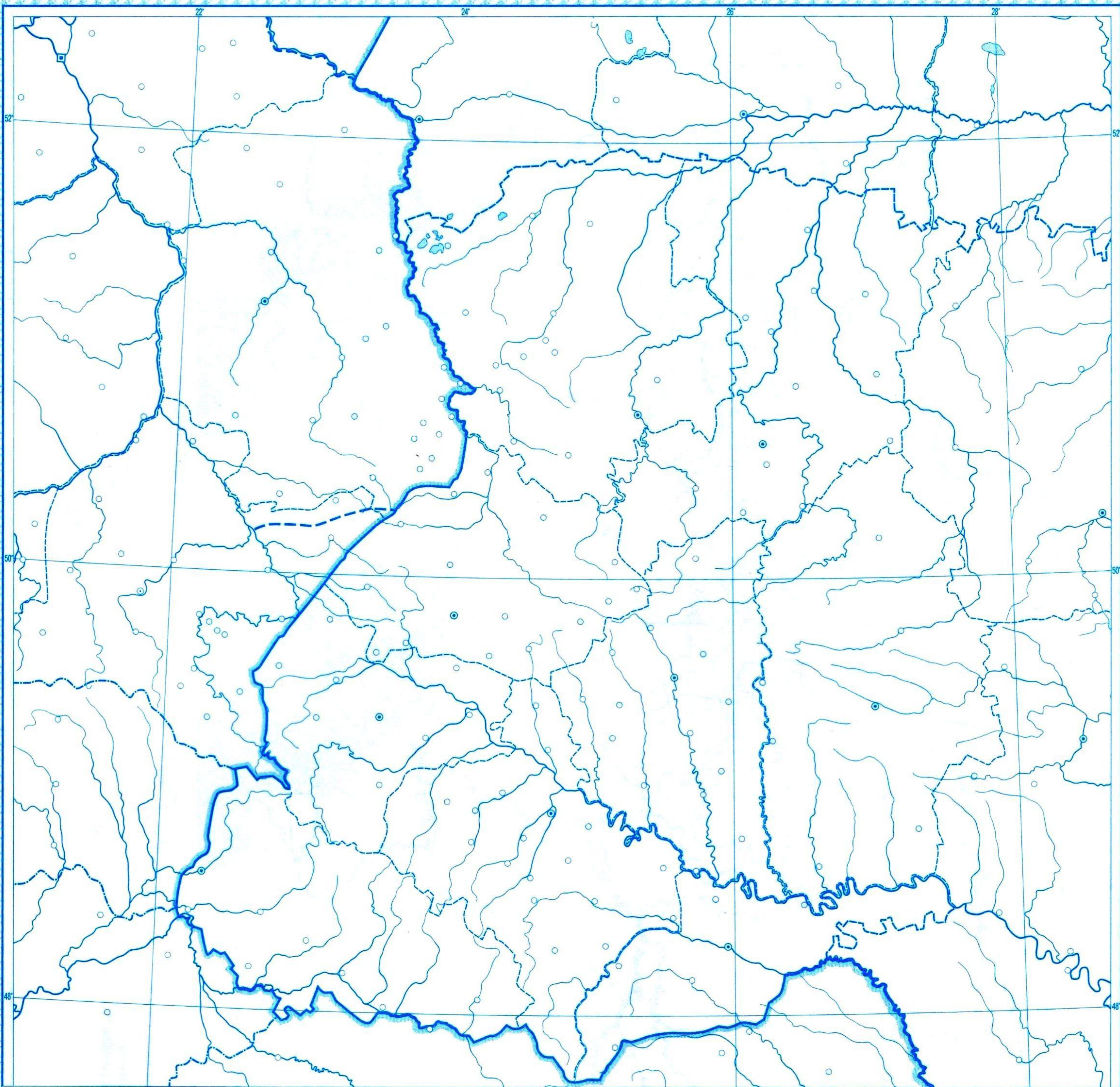


УМОВНІ ПОЗНАЧЕННЯ

ЗАВДАННЯ

1. Підпишіть столицю і центри областей Української РСР станом на 1953 р. та області, що різноманітні зі своїми центрами.
2. Зафарбуйте територію області, утвореної 30 березня 1944 р.
3. Виділіть штрихуванням та підпишіть область, звідки в 1944 р. було депортовано понад 200 тис. осіб неросійської національності.
4. Виділіть штрихуванням території, передані Польщі за радянсько-польським договором від 16 серпня 1945 р.
5. Зафарбуйте територію області, утвореної 22 січня 1946 р.
6. Позначте район проведення депортаційної операції «Вісла» у 1947 р.
7. Позначте райони, де до 1950 р. діяли загони УПА.
8. Підпишіть місто, що увійшло до складу Львівської області і було перейменоване.
9. Проведіть кордон СРСР, що встановився від 1951 р.

Масштаб 1:6 000 000
(у 1 см 60 км)



ЗАВДАННЯ

1. Позначте радянсько-польський кордон, що існував до серпня 1945 р.
2. Позначте населені пункти, атаковані УПА після відновлення в них радянської влади.
3. Виділіть штрихуванням територію, яка була передана до складу Української РСР за договором із Чехословаччиною 29 червня 1947 р.
4. Позначте штрихуванням район проведення польською владою операції «Вісла» у квітні 1947 р.
5. Позначте збірні пункти, звідки депортували українське населення під час операції «Захід» у жовтні 1947 р.

Масштаб 1:2 800 000
(у 1 см 28 км)

УМОВНІ ПОЗНАЧЕННЯ

.....

.....

.....

.....

.....

.....

.....



ЗАВДАННЯ

1. Підпишіть столицю і центри областей Української РСР станом на 1964 р. та області, різномовні зі своїми центрами.
2. Зафарбуйте територію області, утвореної 7 січня 1954 р.
3. Виділіть штрихуванням території областей, ліквідованих у 1950-х рр.
4. Підкресліть назву області, переданої зі складу РРФСР до УРСР. Вкажіть поруч дату передачі.
5. Підпишіть назви економічних районів, створених 1962 р.
6. Підпишіть канали і водосховища та позначте гідроелектростанції, що були споруджені у 1956–1964 рр.

УМОВНІ ПОЗНАЧЕННЯ



ЗАВДАННЯ

1. Підпишіть столицю і центри областей Української РСР. Познайте цифрами та проведіть межі економічних районів, створених 1963 р. Вкажіть у легенді їхні назви.
2. Познайте атомні електростанції, збудовані у 1970 – 1986 рр., та підпишіть міста, поруч з якими вони розташовані.
3. Підпишіть канали і водосховища, споруджені протягом 1965 – 1982 рр. Познайте гідроелектростанцію, збудовану 1975 р., та підпишіть місто, де вона розташована.
4. Познайте міста, що були центрами дисидентського руху.
5. Познайте міста, де у другій половині 70-х рр. XX ст. діяли осередки Української Гельсінської групи.
6. Зафарбуйте район боротьби за відновлення Української греко-католицької церкви.

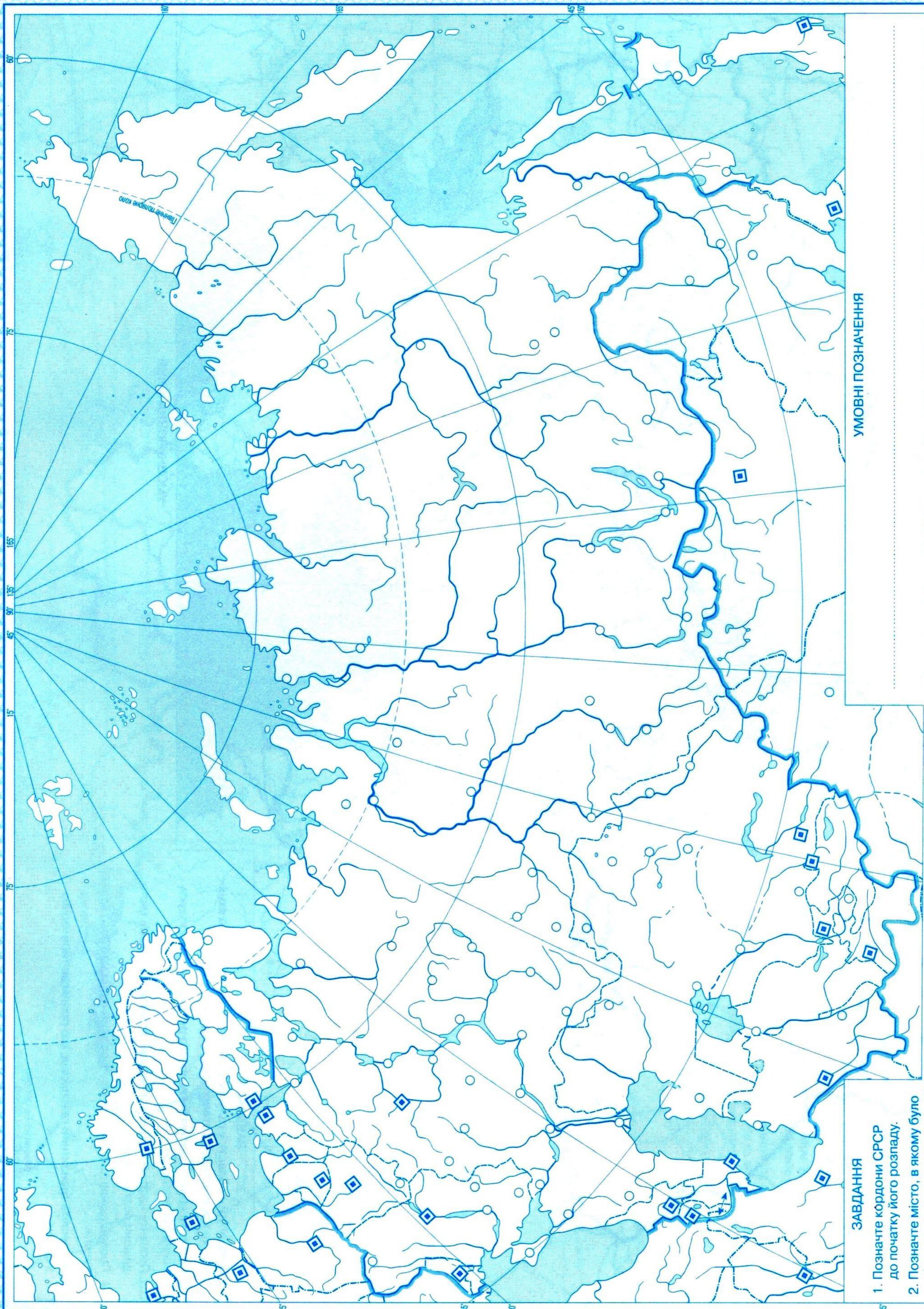
УМОВНІ ПОЗНАЧЕННЯ



ЗАВДАННЯ

1. Позначте аварію на Чорнобильській АЕС, вкажіть її дату та виділіть штрихуванням забруднені території.
2. Позначте відселені міста та межі Чорнобильської зони відчуження.
3. Підпишіть та позначте міста, де наприкінці 1980-х рр. були засновані історико-культурні об'єднання та демократичні організації.
4. Позначте страйки шахтарів у 1989 р.
5. Накресліть «Живий ландшафт» між Києвом та Львовом, що символізував злуку ЗУНР і УНР. Підпишіть міста, якими він пролягав.
6. Підпишіть міста, яким у 1989 – 1991 рр. було повернуто історичні назви. У дужках вкажіть роки існування попередніх назв.

УМОВНІ ПОЗНАЧЕННЯ



УМОВНІ ПОЗНАЧЕННЯ

ЗАВДАННЯ

1. Позначте кордони СРСР до початку його розпаду.
2. Позначте місто, в якому було підписано угоду про створення «Співдружності Незалежних Держав», 8 грудня 1991 р. та припинення існування СРСР.
3. Зафарбуйте різніми кольорами держави, які утворилися після розпаду СРСР.
4. Позначте райони компактного проживання українців за межами Української РСР.

Масштаб 1:30 000 000
(у 1 см 300 км)



ЗАВДАННЯ

1. Зафарбуйте області, у галузевій структурі господарства яких частка промисловості становить понад 25%.
2. Позначте області з обсягом валового регіонального продукту понад 100 млрд грн.
3. Позначте нафтові і газові термінали та порти. Підлишіть міста, де вони розташовані.
4. Проведіть нафтопровід. Одеса – Броди та підлишіть його крайні пункти.
5. Накресліть транзитний газопровід, що пролягає територією України.

УМОВНІ ПОЗНАЧЕННЯ

Масштаб 1:6 000 000
(у 1 см 60 км)



ЗАВДАННЯ

1. Надпишіть міста з населенням понад 100 000 жителів.
2. Позначте штрихуванням різними кольорами райони компактного проживання в Україні поляків, болгар та кримських татар.
3. Позначте міста, населення яких зросло за роки незалежності України.
4. Позначте штрихуванням область, в якій українці становлять більше 90%.

УМОВНІ ПОЗНАЧЕННЯ

-
-
-
-

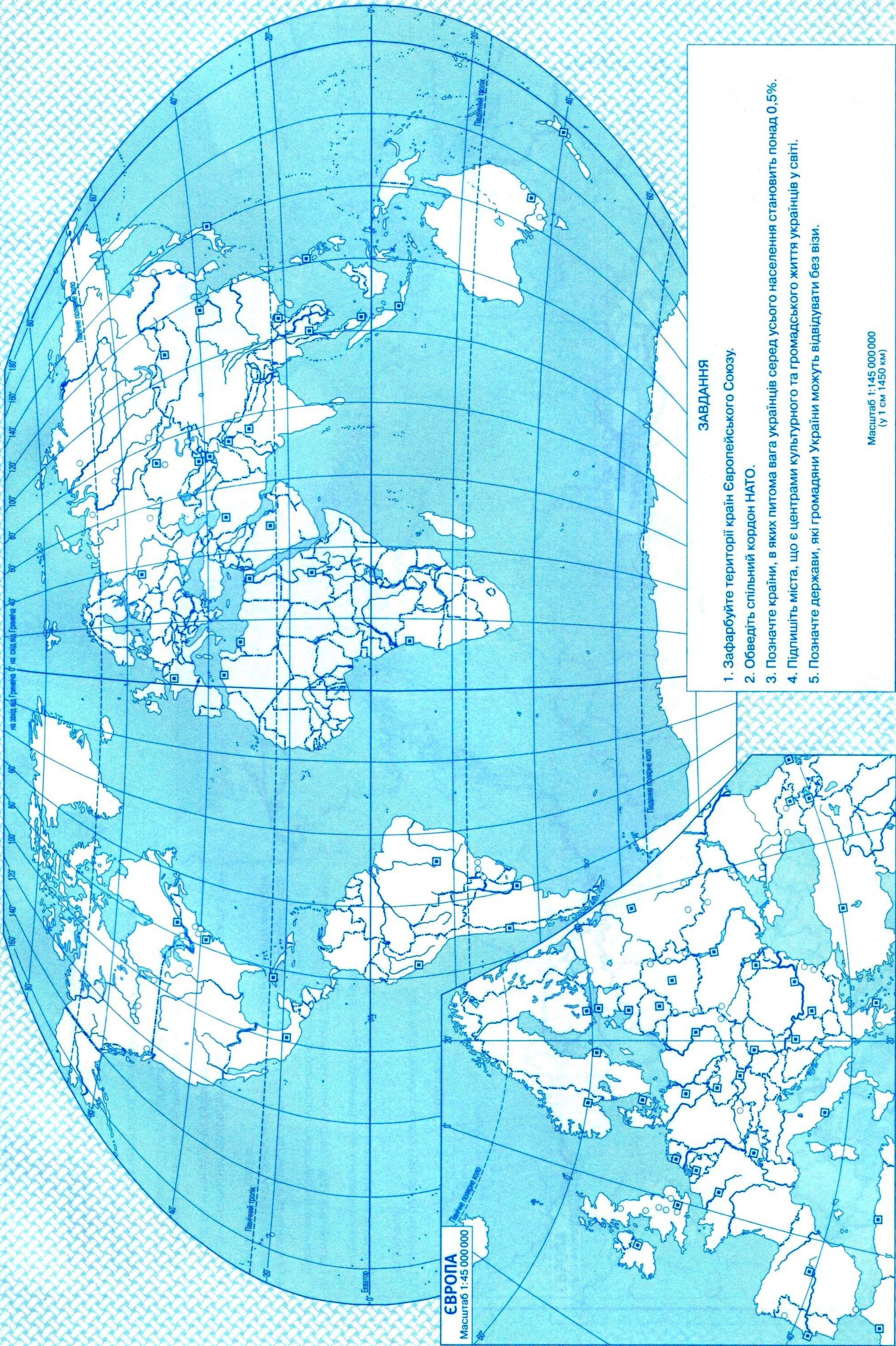


ЗАВДАННЯ

1. Покажіть штрихуванням різних кольорів територію поширення православних церков і впливу Української греко-католицької церкви.
2. Позначте та підпишіть церковну столицю і центри єпархій Православної Церкви України.
3. Позначте області, у яких розташовані Резиденція Верховного Архієпископа, центри єпархій та екзархатів Української греко-католицької церкви.
4. Позначте та підпишіть осередки діяльності мусульманських та караїмських громад.

УМОВНІ ПОЗНАЧЕННЯ

Масштаб 1:6 000 000
(у 1 см 60 км)



ЄВРОПА
Масштаб 1:45 000 000

ЗАВДАННЯ

1. Зафарбуйте території країн Європейського Союзу.
2. Обведіть спільний кордон НАТО.
3. Позначте країни, в яких питома вага українців серед усього населення становить понад 0,5%.
4. Підпишіть міста, що є центрами культурного та громадського життя українців у світі.
5. Позначте держави, які громадяни України можуть відвідувати без візи.

Масштаб 1:145 000 000
(у 1 см 1450 км)

.....

.....

.....



ЗАВДАННЯ


1. Позначте сучасний кордон України, підпишіть суміжні держави та столиці.
2. Позначте та підпишіть міста ліквідації останніх шахтно-пускових установок міжконтинентальних балістичних ракет.
3. Підпишіть острів, навколо якого виникла проблема з визначення українсько-російського морського кордону.
4. Позначте та підпишіть міста, де у 2004 р. проходили мирні акції протесту проти фальсифікації результатів другого туру виборів Президента України.
5. Позначте головний осередок Революції Гідності та вкажіть у легенді дату, коли вона відбувалась.
6. Зафарбуйте українські території, анексовані Російською Федерацією у березні 2014 р. Підпишіть її адміністративні центри.
7. Підпишіть та позначте міста, де навесні 2014 р. відбулися проросійські заворушення.
8. Проведіть лінію протистояння української армії з терористами і російськими збройними формуваннями. Позначте міста Бовів.

УМОВНІ ПОЗНАЧЕННЯ

ЗМІСТ

сторінка	масштаб	сторінка	масштаб
1	1 : 145 000 000	7	1 : 30 000 000
Європа	1 : 45 000 000	(1964–1985 роки)	1 : 6 000 000
Країни Карибського басейну	1 : 24 000 000	8	1 : 6 000 000
2	1 : 6 000 000	9	1 : 6 000 000
Україна в перші повоєнні роки (1944 – 1953 роки)	1 : 2 800 000	10	1 : 6 000 000
3	1 : 6 000 000	11	1 : 145 000 000
Західна Україна в 1944 – 1953 роках	1 : 6 000 000	Європа	1 : 45 000 000
4	1 : 6 000 000	12	1 : 6 000 000
Україна в умовах десталінізації (1953 – 1964 роки)	1 : 6 000 000	Творення нової України	
5	1 : 6 000 000		
Україна в період загострення кризи радянської системи (1964 – 1985 роки)			
6	1 : 6 000 000		
Відновлення незалежності України (1985 – 1991 роки)			

КАРТОГРАФІЯ



Навчальні атласи, стінні та контурні карти з історії в магазинах «Атласи та карти»
 Київ, вул. Попудренка, 54. Тел. (044) 292-31-24, 292-02-15, 537-04-77
 Київ, Велика Васильківська вул., 69. Тел. (044) 537-06-18

РЕКОМЕНДОВАНО МІНІСТЕРСТВОМ ОСВІТИ І НАУКИ УКРАЇНИ
 (лист №1/11-5715 від 25.05.2018)

Контурні карти відповідають санітарному законодавству України
 (висновок №12.2-18-1/3623 від 27.02.2020)

ДЕРЖАВНА СЛУЖБА УКРАЇНИ З ПИТАНЬ ГЕОДЕЗІЇ, КАРТОГРАФІЇ ТА КАДАСТРУ
 ДЕРЖАВНЕ НАУКОВО-ВИРОБНИЧЕ ПІДПРИЄМСТВО «КАРТОГРАФІЯ»

вул. Попудренка, 54, м. Київ - 94, 02094
 Свідоцтво суб'єкта видавничої справи
 ДК № 398 від 03.04.2001


Упорядник Д.І. Тихомиров
 Рецензенти: В.С. Власов, О.А. Худобець
 Редактори: В.М. Соколова, О.Ю. Король
 Технічний редактор С.М. Полторако

Формат 62x92/8 Друк офсетний
 Ум. друк. арк. 3,2
 Зам. № 04367

Видруковано ТОВ «Новий друк»,
 вул. Магнітогорська, 1, м. Київ-94, 02660
 Свідоцтво суб'єкта видавничої справи
 ДК №1447 від 28.07.2003

© ДНВП «Картографія», 2012–2020

ISBN 978-966-946-286-2



9 789669 462862 >