




10
Клас

Всесвітня історія

КОНТУРНІ КАРТКИ

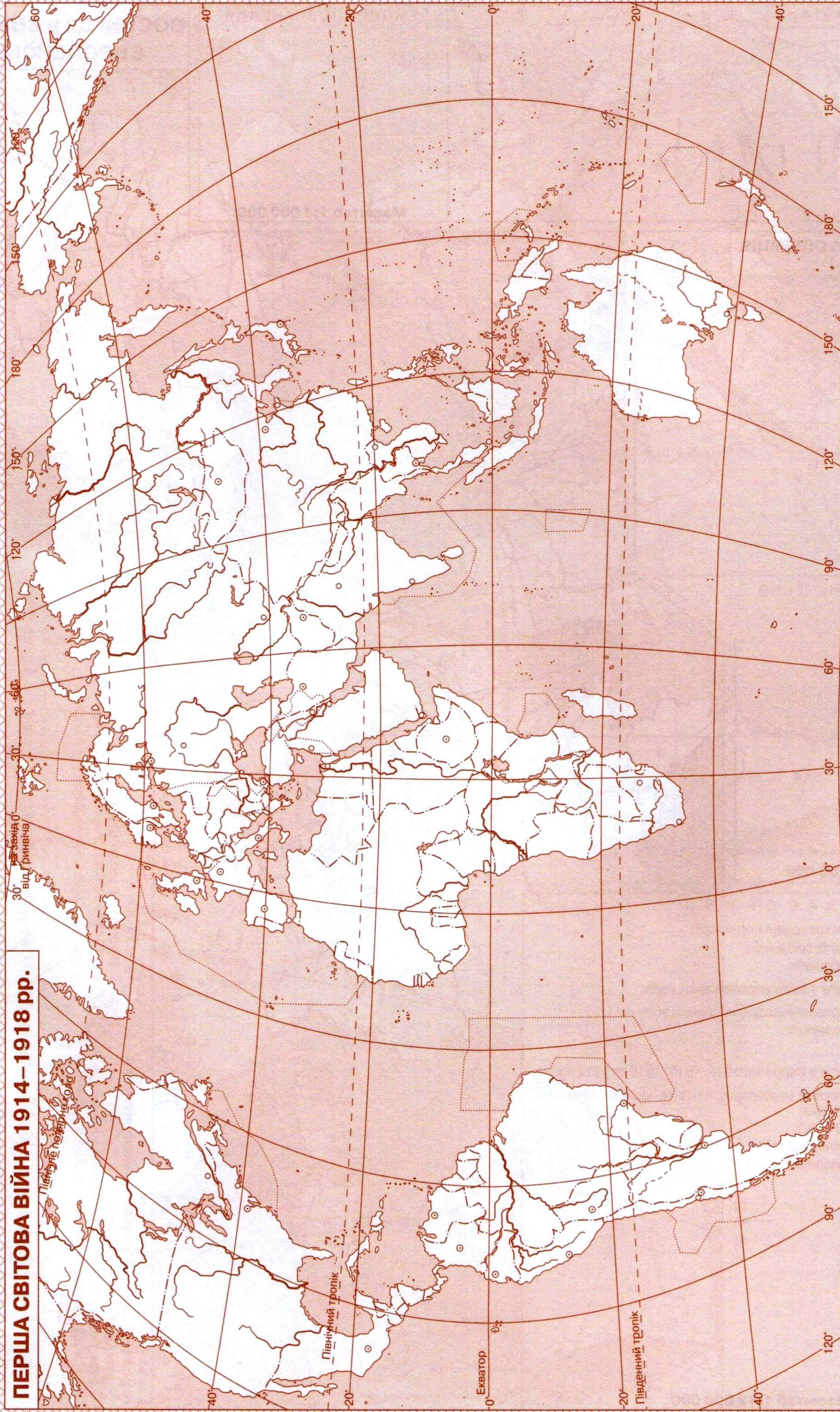
Новітня історія (1914–1945)



КАРТОГРАФІЯ

ukrmap.com.ua
kartographia.com.ua

ПЕРША СВІТОВА ВІЙНА 1914–1918 рр.



У М О В Н І П О З Н А Ч Е Н Н Я

З А В Д А Н Н Я

1. Зафарбуйте різними кольорами території:
 - країн Антанти (з колоніями) та їхніх союзників;
 - Німеччини (з колоніями) та її союзників за Троїстою угодою.
2. Позначте штрихуванням головні райони воєнних дій на суші та на морі.
3. Обведіть лініями різних кольорів колонії Німеччини, захоплені під час війни:
 - Великою Британією та Францією;
 - Японією.

Масштаб 1:110 000 000

БИТВА на МАРНІ (1914 р.)**УМОВНІ ПОЗНАЧЕННЯ**

Масштаб 1:3 000 000

**ВОЄННІ ДІЇ в ЄВРОПІ
ЄВРОПЕЙСЬКІ та****ДАРДАНЕЛЬСЬКА ОПЕРАЦІЯ
(1915 р.)****УМОВНІ ПОЗНАЧЕННЯ**

Масштаб 1:1 250 000

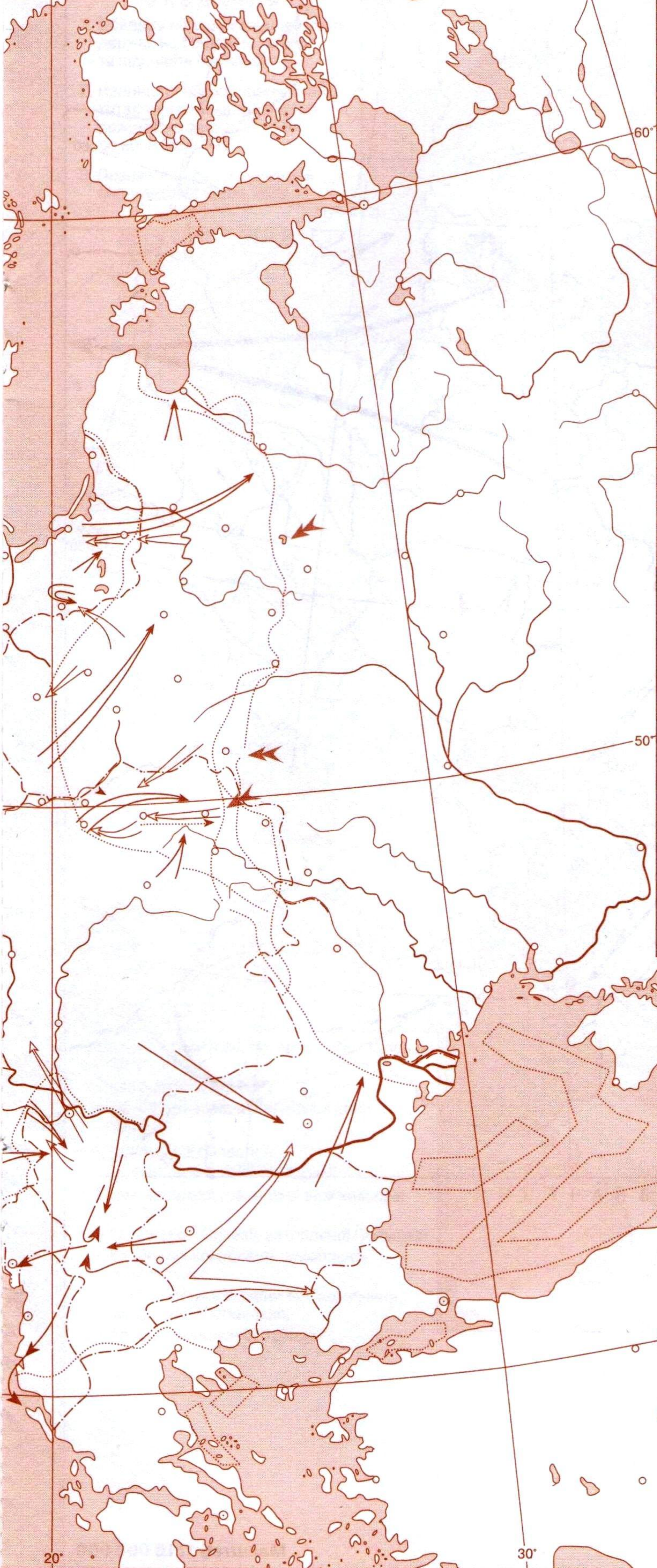
на захід від Гринвіча 0° на схід від Гринвіча

ЗАВДАННЯ

1. Зафарбуйте різними кольорами території:
 - країн Антанти та їхніх союзників;
 - Німеччини та її союзників.
2. Надпишіть дати вступу у війну європейських країн.
3. Покажіть стрілками різних кольорів напрямки військових дій:
 - Німеччини та її союзників;
 - країн Антанти.
4. Проведіть лінії фронтів у Європі на 1914, 1915, 1916 та 1917 рр.
5. На картах-врізках різними кольорами позначте позиції і напрямки ударів ворогуючих сторін:
 - битви на Марні (1914 р.);
 - Дарданельської операції (1915 р.);
 - Брусиловського прориву (1916 р.).

Масштаб 1:12 000 000

**(1914–1918 рр.)
КАВКАЗЬКИЙ ФРОНТИ**

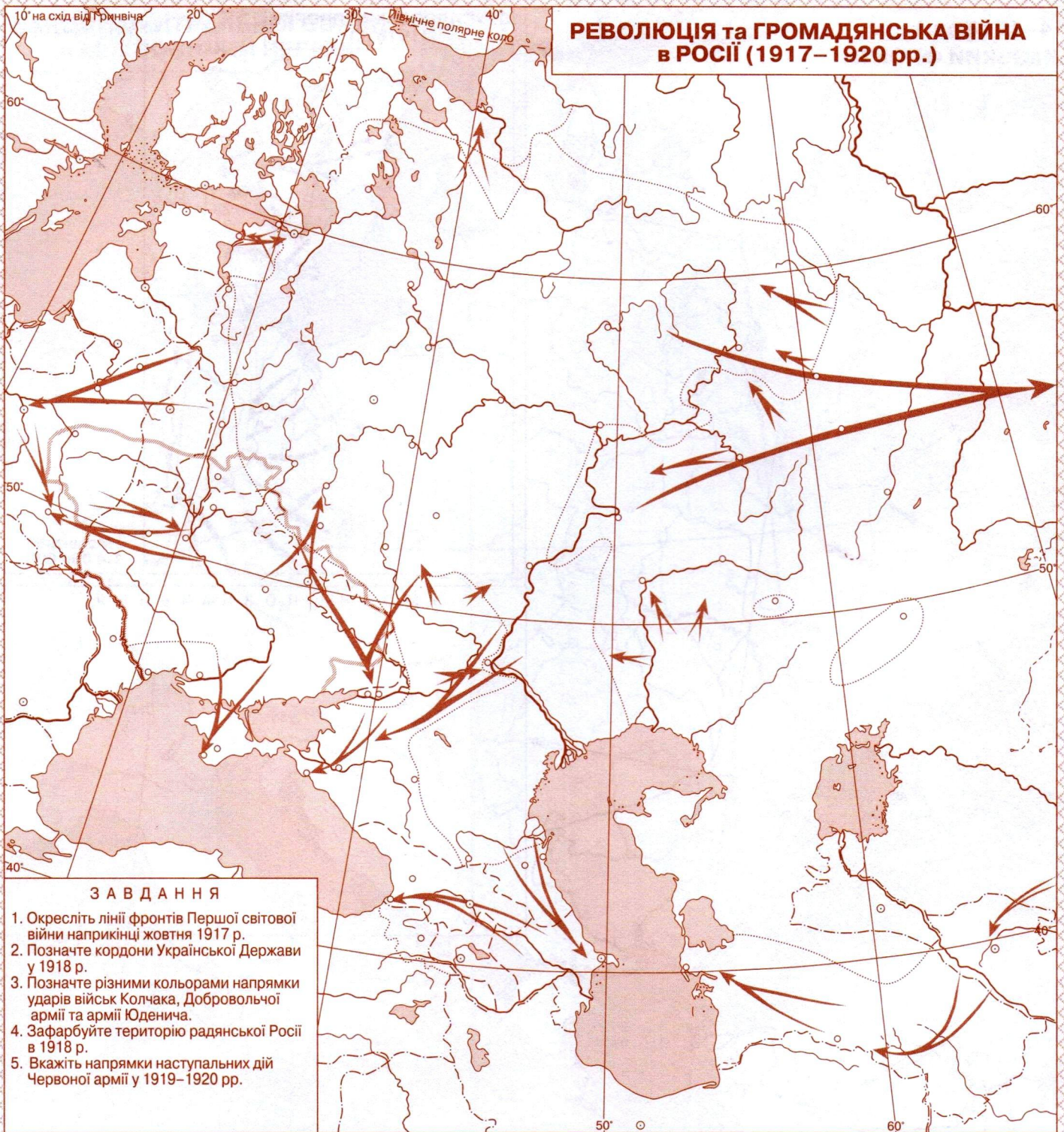


УМОВНІ ПОЗНАЧЕННЯ

Масштаб
1:4 000 000

УМОВНІ ПОЗНАЧЕННЯ

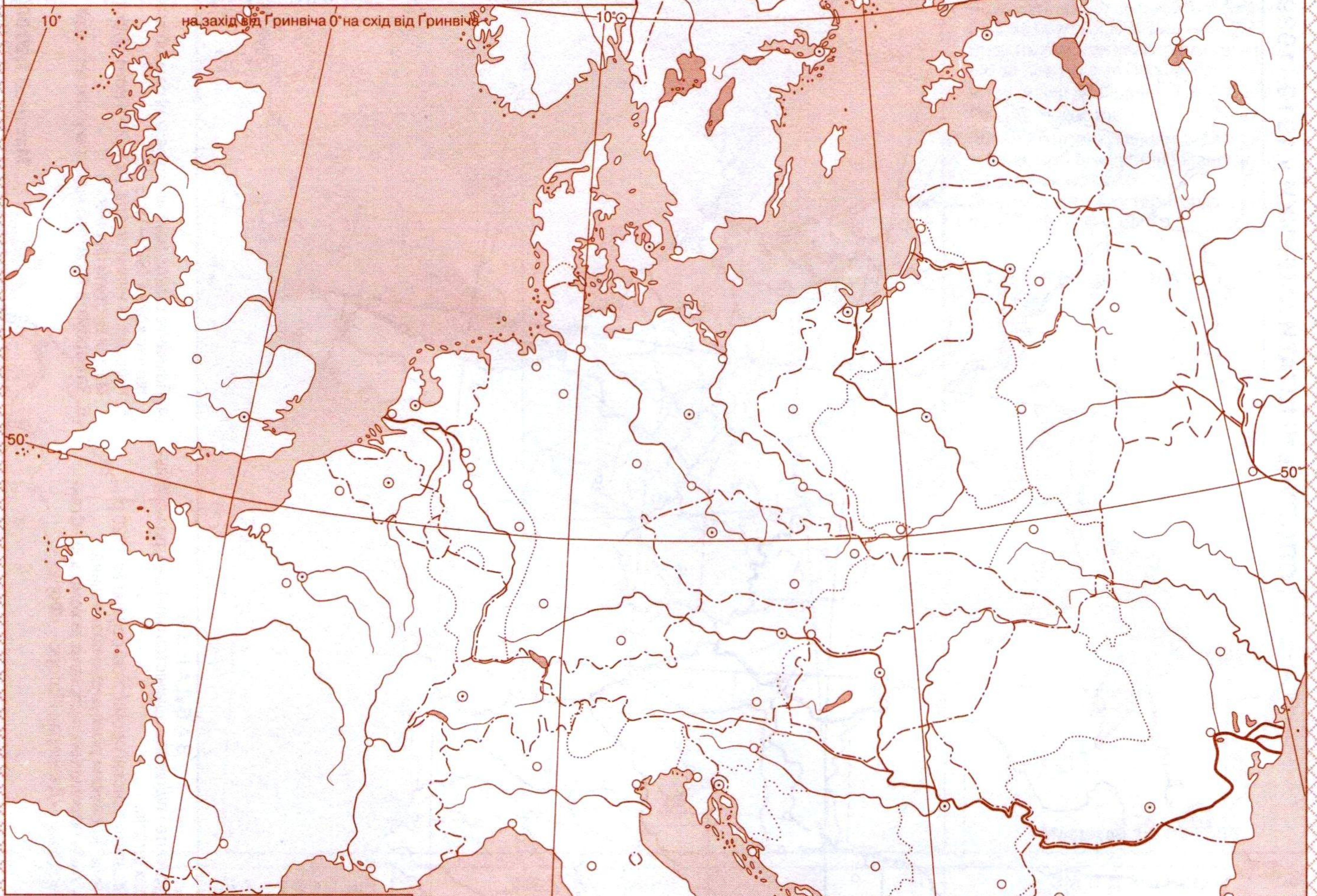
РЕВОЛЮЦІЯ та ГРОМАДЯНСЬКА ВІЙНА в РОСІЇ (1917–1920 рр.)



УМОВНІ ПОЗНАЧЕННЯ

Масштаб 1:18 000 000

**ТЕРИТОРІАЛЬНІ ЗМІНИ в ЄВРОПІ в 1919–1923 рр.
НОВІ НЕЗАЛЕЖНІ ДЕРЖАВИ**



**ПОДІЛ ОСМАНСЬКОЇ ІМПЕРІЇ
(1920–1923 рр.)**

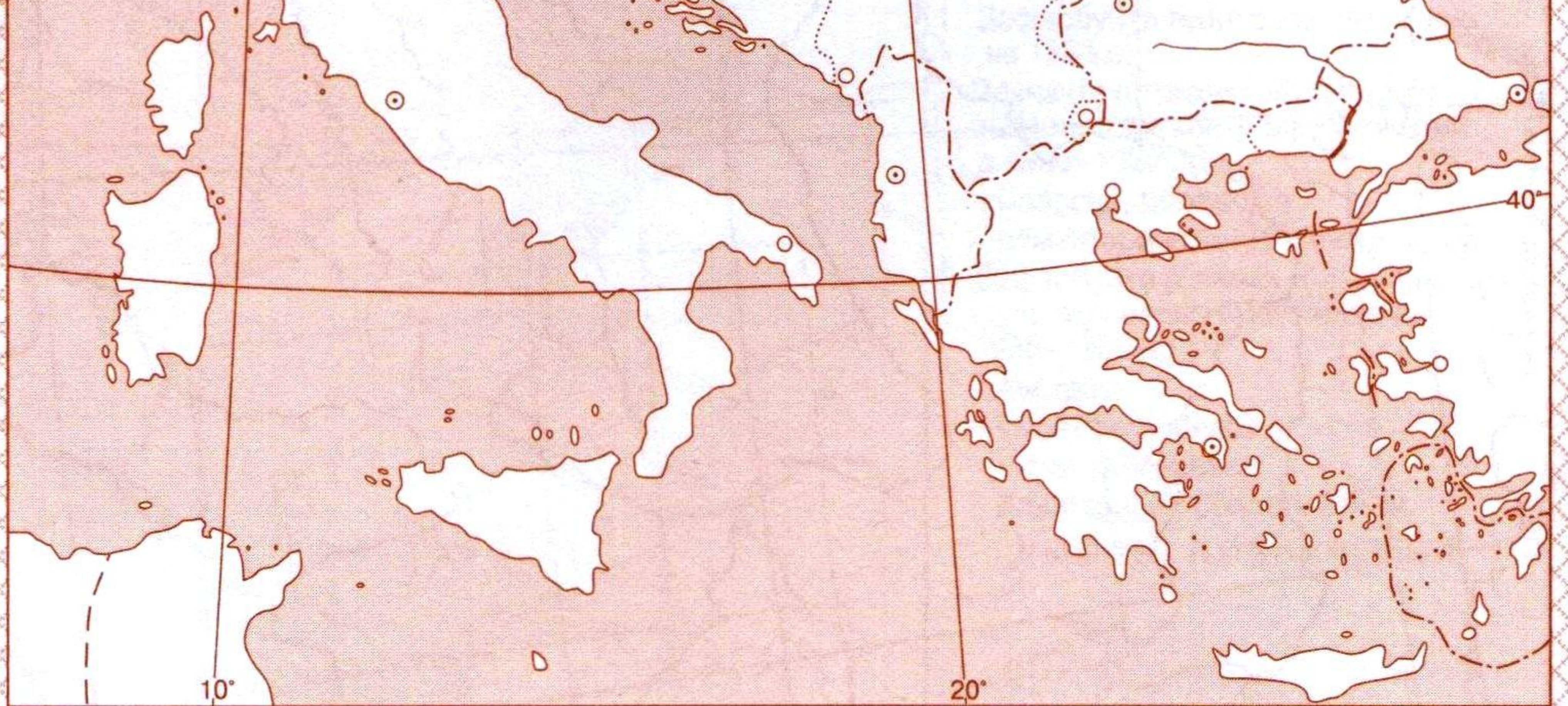


ЗАВДАННЯ

1. Зафарбуйте територію Османської імперії на 1914 р.
2. Використовуючи різні умовні позначення, покажіть територію Туреччини:
 - за Севрським договором;
 - за Лозаннським договором.

УМОВНІ ПОЗНАЧЕННЯ

Масштаб 1:50 000 000

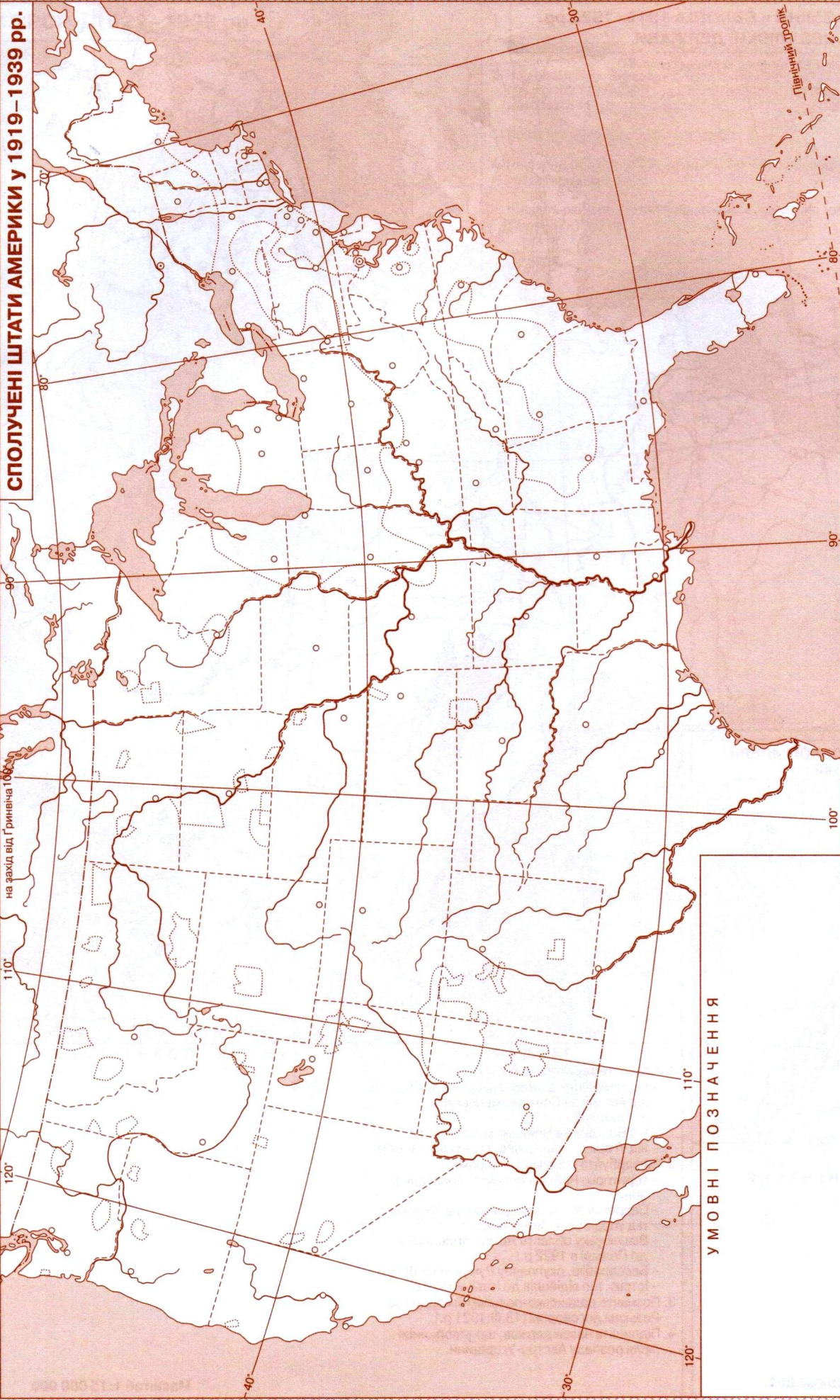


ЗАВДАННЯ

1. Позначте території, що відійшли:
 - від Німеччини за Версальським договором;
 - від Австрії за Сен-Жерменським договором;
 - від Болгарії за Нейїським договором;
 - від Угорщини за Тріанонським договором.
2. Зафарбуйте різними кольорами:
 - територію Рейнської демілітаризованої зони;
 - Саарську область, передану на 15 років під управління Ліги Націй;
 - Вільнюську область Литви, приєднану до Польщі в 1922 р.;
 - Бессарабію, окуповану Румунією у 1918 р.;
 - Істрію, що відійшла до Італії у 1920 р.
3. Позначте радянсько-польський кордон за Ризьким договором (18.III.1921 р.).
4. Підпишіть назви держав, що утворилися після розпаду Австро-Угорщини.

УМОВНІ ПОЗНАЧЕННЯ

Масштаб 1:15 000 000



СПОЛУЧЕНІ ШТАТИ АМЕРИКИ у 1919–1939 рр.

на захід від Гринвіча 100°

Північний тропік

УМОВНІ ПОЗНАЧЕННЯ

ЗАВДАННЯ

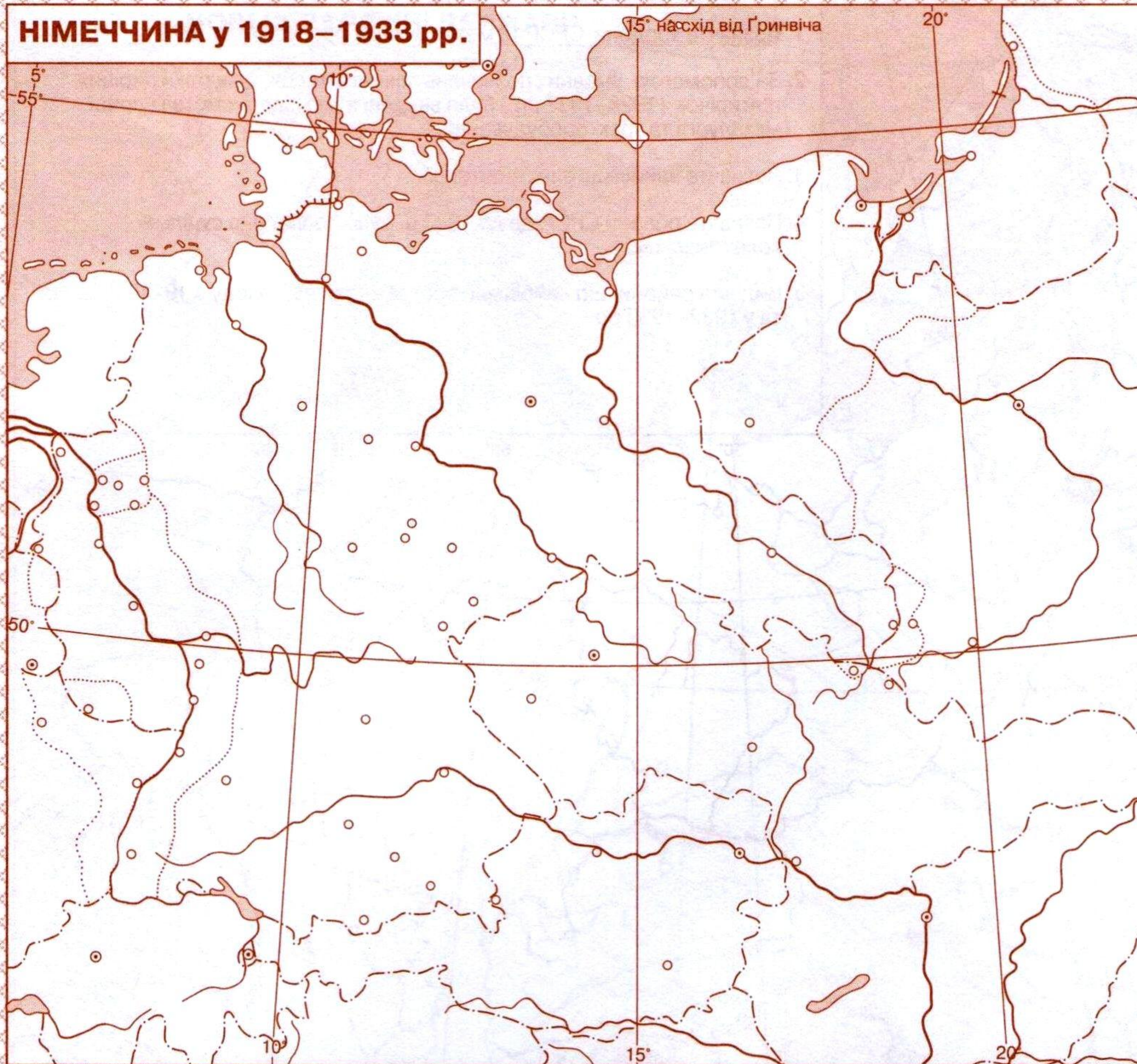
1. Позначте і підлишіть адміністративні центри найбільших штатів.
2. Позначте основні промислові райони на 1920 р.
3. Використовуючи різні умовні позначення, вкажіть розміщення підприємств компанії «Стандард ойл», «Дженерал Моторс», «Форд».

4. Позначте штати, найбільш уражені безробіттям під час кризи 1929–1933 рр.
5. Надлишіть назви штатів, де у 30-ті роки відбулися масові виступи фермерів.
6. Зафарбуйте території індіанських резервацій.

Масштаб 1:20 000 000

НІМЕЧЧИНА між ПЕРШОЮ та ДРУГОЮ СВІТОВИМИ ВІЙНАМИ

НІМЕЧЧИНА у 1918–1933 рр.



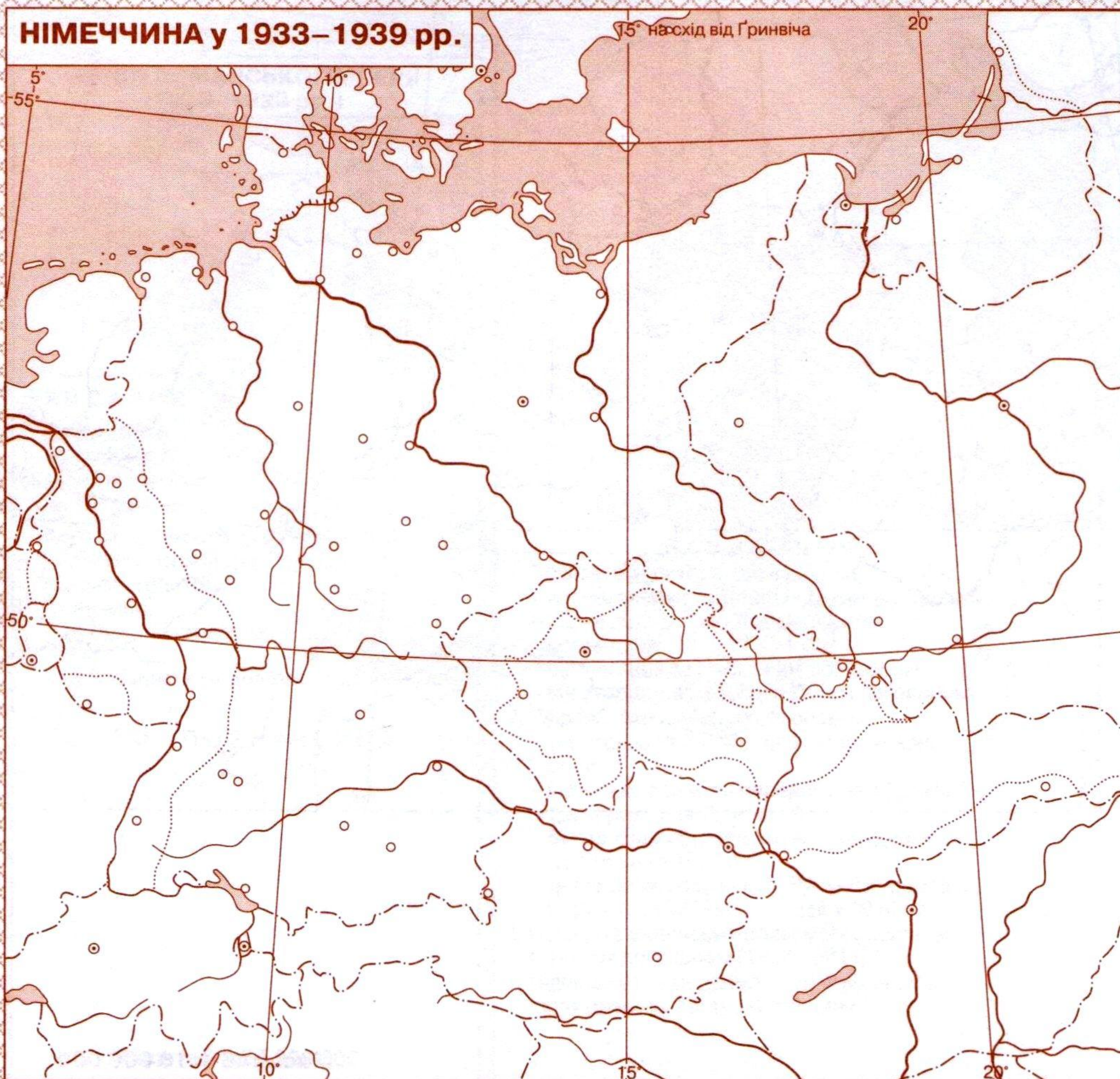
ЗАВДАННЯ

1. Підпишіть місто, де почалася Листопадова революція в Німеччині.
2. Виділіть різними кольорами території, що за підсумками Першої світової війни відійшли до Франції, Данії, Бельгії, Польщі, Чехословаччини та Литви.
3. Позначте штрихуванням території:
 - Рейнської демілітаризованої зони;
 - Саарської області.
4. Позначте німецьку територію, окуповану Францією у 1923 р.

УМОВНІ ПОЗНАЧЕННЯ

Масштаб 1:9 000 000

НІМЕЧЧИНА у 1933–1939 рр.



ЗАВДАННЯ

1. Зафарбуйте територію Німеччини на 1933 р.
2. Позначте штрихуванням території, повернуті під контроль Німеччини в 1935–1936 рр.:
 - Саарську область;
 - демілітаризовану Рейнську зону.
3. Зафарбуйте різними кольорами території, окуповані Німеччиною в 1938–1939 рр.:
 - Австрію;
 - Судетську область;
 - Чехію та Моравію;
 - Клайпедську область Литви.

УМОВНІ ПОЗНАЧЕННЯ

Масштаб 1:9 000 000

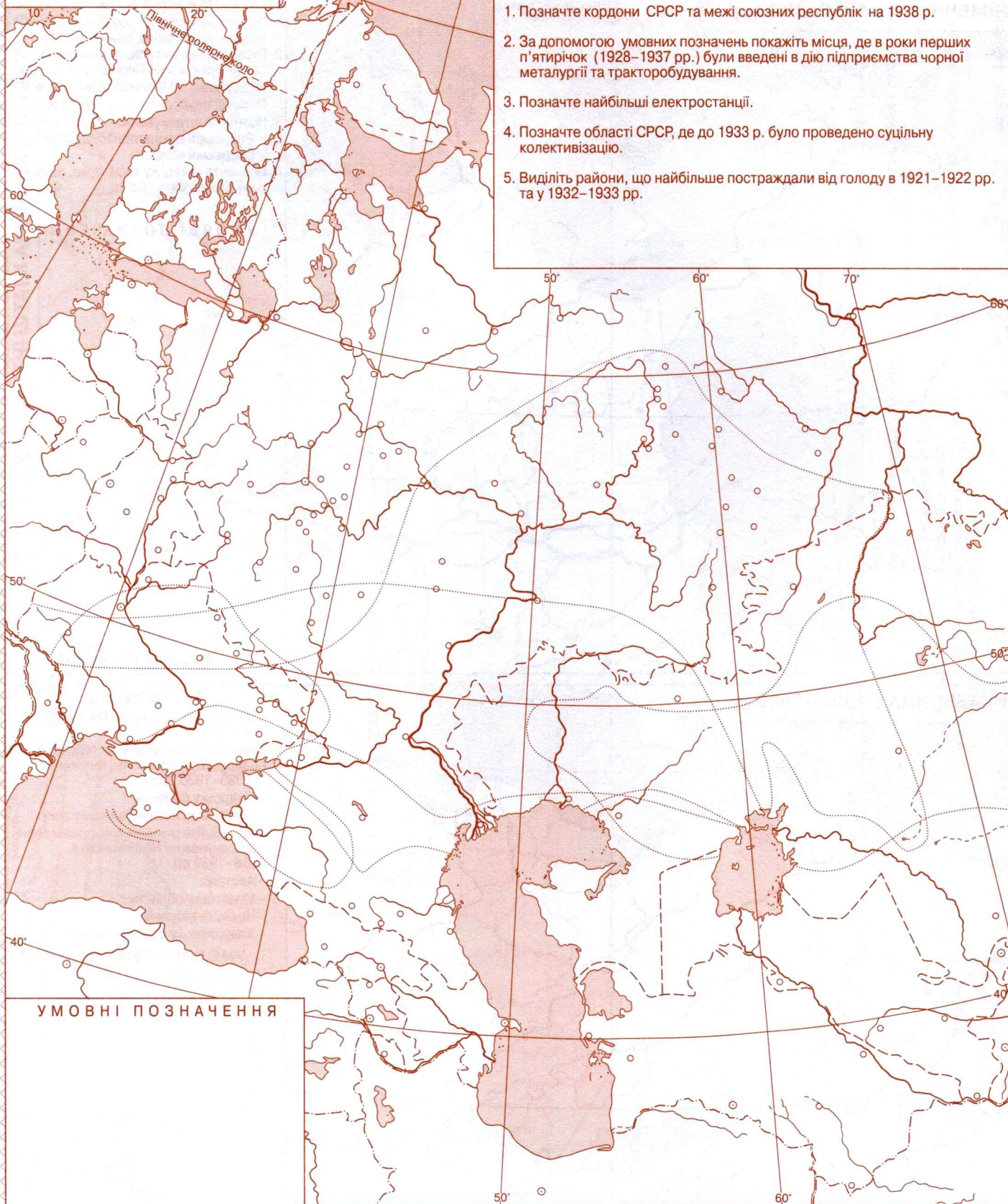
СРСР у 1922–1939 рр.

30° на схід
від Гринвіча

40°

ЗАВДАННЯ

1. Позначте кордони СРСР та межі союзних республік на 1938 р.
2. За допомогою умовних позначень покажіть місця, де в роки перших п'ятирічок (1928–1937 рр.) були введені в дію підприємства чорної металургії та тракторобудування.
3. Позначте найбільші електростанції.
4. Позначте області СРСР, де до 1933 р. було проведено суцільну колективізацію.
5. Виділіть райони, що найбільше постраждали від голоду в 1921–1922 рр. та у 1932–1933 рр.

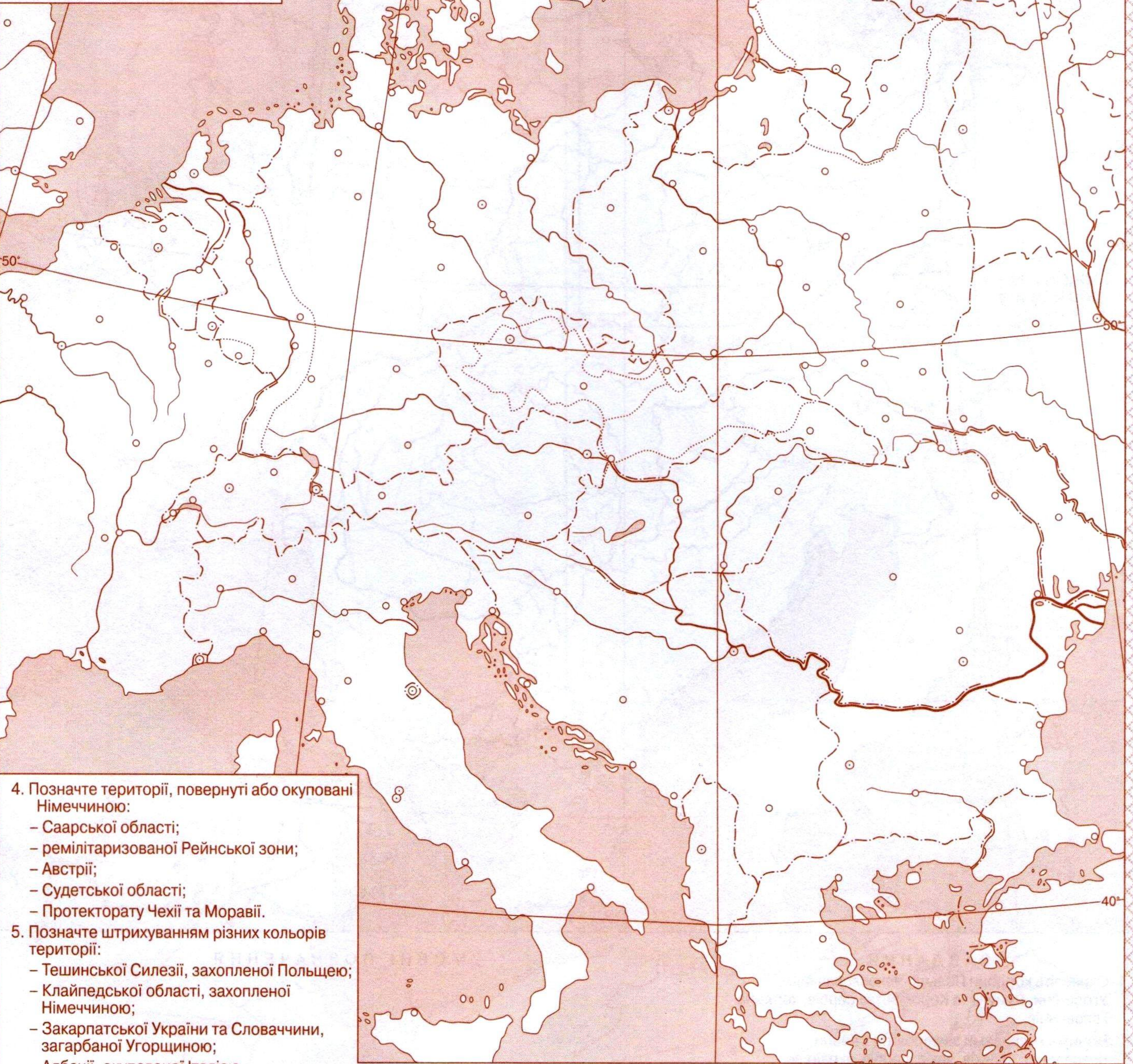


Масштаб 1:18 000 000

КРАЇНИ ЄВРОПИ у 1920–1930-х роках

ЗАВДАННЯ

1. Обведіть кордони європейських держав на березень 1938 р. та підпишіть їхні назви.
2. Надпишіть роки встановлення тоталітарних й авторитарних режимів на території країн, де вони були.
3. Позначте держави-учасниці Мюнхенської угоди 1938 р.



4. Позначте території, повернуті або окуповані Німеччиною:
 - Саарської області;
 - ремілітаризованої Рейнської зони;
 - Австрії;
 - Судетської області;
 - Протекторату Чехії та Моравії.
5. Позначте штрихуванням різних кольорів території:
 - Тешинської Силезії, захопленої Польщею;
 - Клайпедської області, захопленої Німеччиною;
 - Закарпатської України та Словаччини, загарбаної Угорщиною;
 - Албанії, окупованої Італією.

УМОВНІ ПОЗНАЧЕННЯ

Масштаб 1:12 000 000

НАРОДИ ЦЕНТРАЛЬНОЇ ЄВРОПИ в МІЖВОЄННИЙ ПЕРІОД



ЗАВДАННЯ

1. Окресліть кордони Польщі, Чехословаччини, Угорщини, Румунії та Королівства сербів, хорватів і словенців.
2. Різними кольорами зафарбуйте райони розселення поляків, чехів, сербів, українців.
3. На території Чехословаччини позначте райони розселення німців. На території Румунії – болгар.
4. Позначте місця концентрації єврейського населення Польщі.

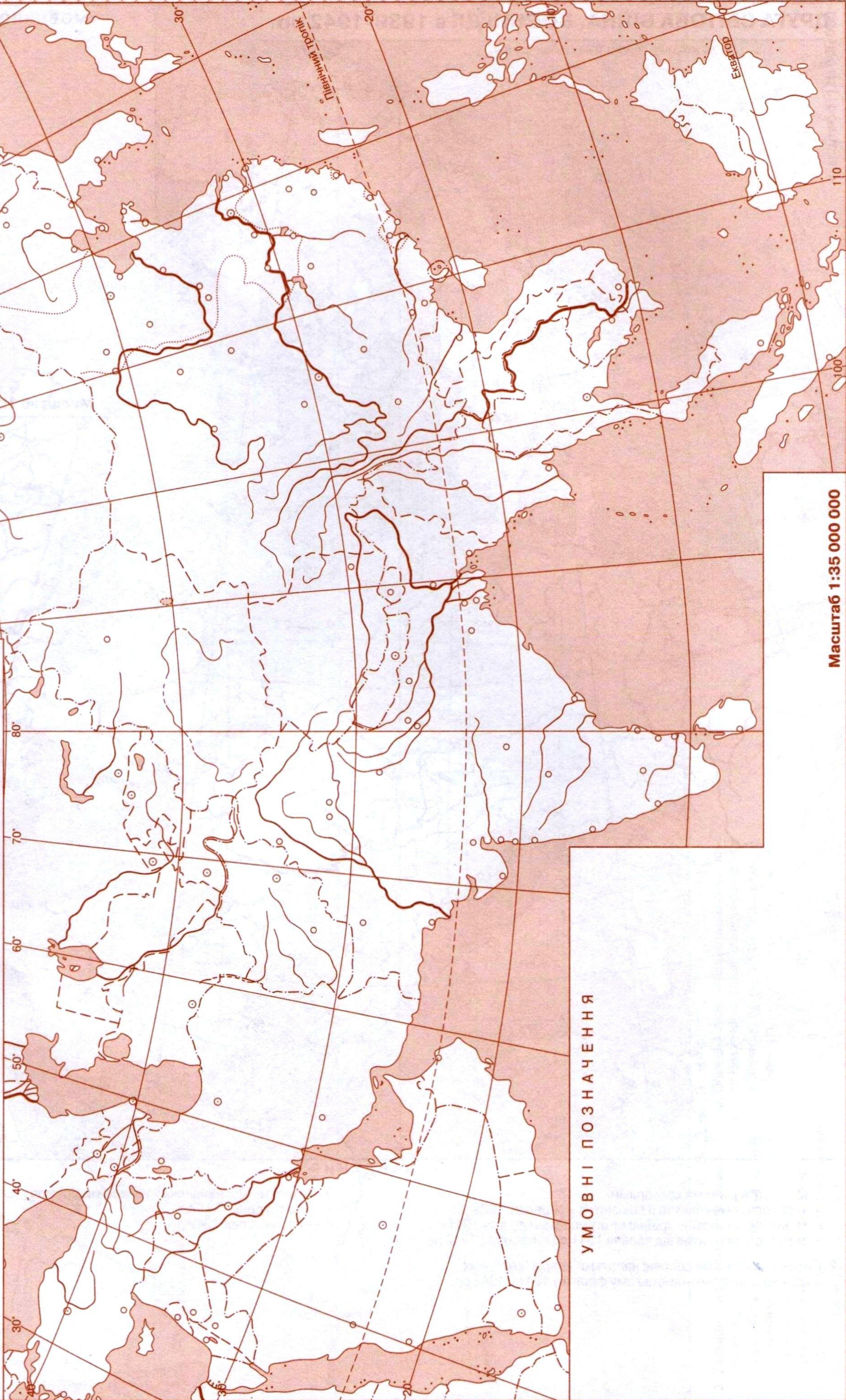
УМОВНІ ПОЗНАЧЕННЯ

Масштаб 1:12 800 000

КРАЇНИ АЗІЇ в 1918–1939 рр. ЯПОНСЬКА АГРЕСІЯ в КИТАЇ (1931–1939 рр.)

З А В Д А Н Н Я

1. Зафарбуйте різними кольорами території країн, що перебували в залежності від Великої Британії, Франції, Нідерландів, США та Японії.
2. Позначте осередки національно-визвольного руху в Індії.
3. Позначте територію держави Маньчжоу-Го.
4. Позначте території, окуповані японськими військами в 1937–1939 рр.

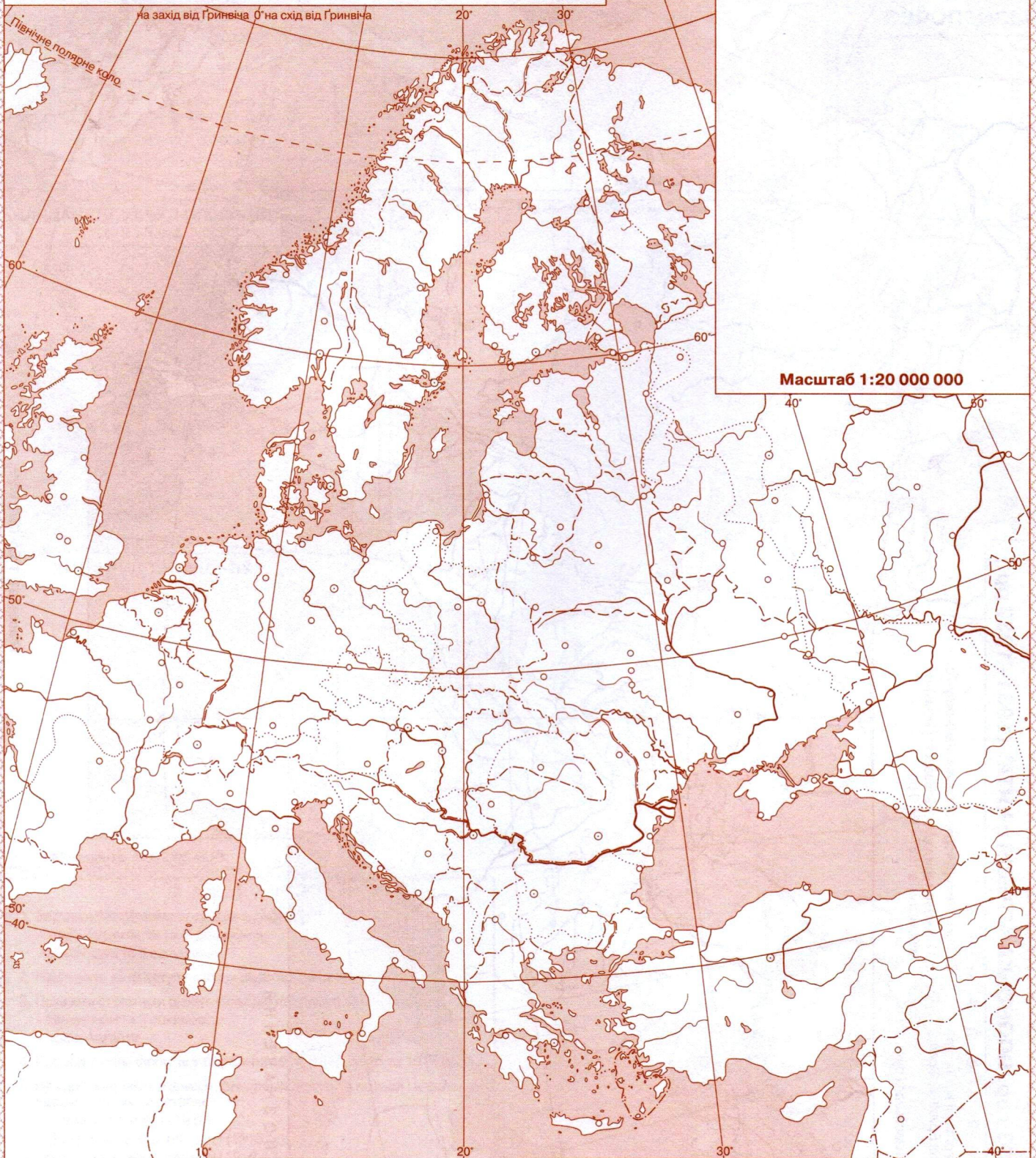


УМОВНІ ПОЗНАЧЕННЯ

Масштаб 1:35 000 000

ДРУГА СВІТОВА ВІЙНА. ВОЄННІ ДІЇ в 1939-1942 рр.

УМОВНІ ПОЗНАЧЕННЯ



ЗАВДАННЯ

1. Зафарбуйте різними кольорами:

- території Німеччини та її союзників у середині 1939 р.;
- території, окуповані країнами-агресорами до літа 1941 р.;
- території, окуповані від червня 1941 до листопада 1942 рр.

3. Позначте лінії радянсько-німецьких фронтів:

- на грудень 1941 р.;
- на листопад 1942 р.

2. Покажіть стрілками основні напрямки ударів німецьких військ на радянсько-німецькому фронті у 1941 – 1942 рр.

ДРУГА СВІТОВА ВІЙНА. ВОЄННІ ДІЇ В 1943-1945 рр.



ЗАВДАННЯ

1. Позначте різними кольорами лінії фронтів:
 - наприкінці березня 1943 р.;
 - на 23 грудня 1943 р.;
 - наприкінці 1944 р.
2. Вкажіть стрілками різних кольорів:
 - контрнаступ радянських військ під Сталінградом;
 - напрямки дій радянських військ у листопаді 1942 – грудні 1943 рр.;
 - наступ радянських військ у 1944 – 1945 рр.;
 - дії британсько-американських військ у 1944 – 1945 рр.

УМОВНІ ПОЗНАЧЕННЯ

Масштаб 1:20 000 000

1	ПЕРША СВІТОВА ВІЙНА 1914–1918 рр.	1:110 000 000
2-3	ВОЄННІ ДІЇ в ЄВРОПІ (1914–1918 рр.) ЄВРОПЕЙСЬКІ ТА КАВКАЗЬКИЙ ФРОНТИ.....	1:12 000 000
	БИТВА на МАРНІ (1914 р.).....	1:3 000 000
	ДАРДАНЕЛЛЬСЬКА ОПЕРАЦІЯ (1915 р.).....	1:1 250 000
	БРУСИЛОВСЬКИЙ ПРОРИВ (1916 р.).....	1:4 000 000
4	РЕВОЛЮЦІЯ та ГРОМАДЯНСЬКА ВІЙНА в РОСІЇ (1917–1920 рр.)	1 : 18 000 000
5	ТЕРИТОРІАЛЬНІ ЗМІНИ в ЄВРОПІ в 1919–1923 рр. НОВІ НЕЗАЛЕЖНІ ДЕРЖАВИ.....	1:15 000 000
	ПОДІЛ ОСМАНСЬКОЇ ІМПЕРІЇ (1920–1923 рр.).....	1 : 50 000 000
6	СПОЛУЧЕНІ ШТАТИ АМЕРИКИ у 1919–1939 рр.....	1 : 20 000 000
7	НІМЕЧЧИНА між ПЕРШОЮ та ДРУГОЮ СВІТОВИМИ ВІЙНАМИ	
	НІМЕЧЧИНА у 1918–1933 рр.	1 : 9 000 000
	НІМЕЧЧИНА у 1933–1939 рр.	1 : 9 000 000
8	СРСР у 1922–1939 рр.	1 : 18 000 000
9	КРАЇНИ ЄВРОПИ у 1920–1930-х РОКАХ	1 :12 000 000
10	НАРОДИ ЦЕНТРАЛЬНОЇ ЄВРОПИ в МІЖВОЄННИЙ ПЕРІОД	1 : 12 800 000
11	КРАЇНИ АЗІЇ в 1918–1939 рр. ЯПОНСЬКА АГРЕСІЯ в КИТАЇ (1931–1939 рр.)	1 : 35 000 000
12	ДРУГА СВІТОВА ВІЙНА. ВОЄННІ ДІЇ в 1939–1942 рр.	1 : 20 000 000
13	ДРУГА СВІТОВА ВІЙНА. ВОЄННІ ДІЇ в 1943–1945 рр.	1 : 20 000 000



Навчальні атласи, стінні та контурні карти з історії в магазинах «Атласи та карти»
Київ, вул. Попудренка, 54. Тел. (044) 292-31-24, 292-02-15, 498-29-70
Київ, Велика Васильківська вул., 69. Тел. (044) 537-06-18

РЕКОМЕНДОВАНО МІНІСТЕРСТВОМ ОСВІТИ І НАУКИ УКРАЇНИ
(лист № 1/11-1992 від 17.02.2015)

Контурні карти відповідають санітарному законодавству України
(висновок № 602-123-20-1/5859 від 20.02.2018 р.)

ДЕРЖАВНА СЛУЖБА УКРАЇНИ З ПИТАНЬ ГЕОДЕЗІЇ, КАРТОГРАФІЇ ТА КАДАСТРУ
ДЕРЖАВНЕ НАУКОВО-ВИРОБНИЧЕ ПІДПРИЄМСТВО «КАРТОГРАФІЯ»

вул. Попудренка, 54, м. Київ-94, 02094
Свідоцтво суб'єкта видавничої справи
ДК №398 від 03.04.2001

Редактор Д.І. Ісаєв
Технічний редактор С.М. Полторако
Дизайн О.Л. Ремізовського

Формат паперу 60x84/8
Умовн. друк. арк.1,87
Зам. № 03975

Видрукувно Printstore Group
вул. Данила Щербаківського, 4, м. Київ, 03190

© ДНВП «Картографія», 2000 – 2019

ISBN 978-966-946-119-3



9 789669 461193 >