

Рекомендовано МОН



8

клас

КОНТУРНІ КАРТИ

Історія України



 КАРТОГРАФІЯ

ukrmap.com.ua
kartographia.com.ua

УМОВНІ ПОЗНАЧЕННЯ

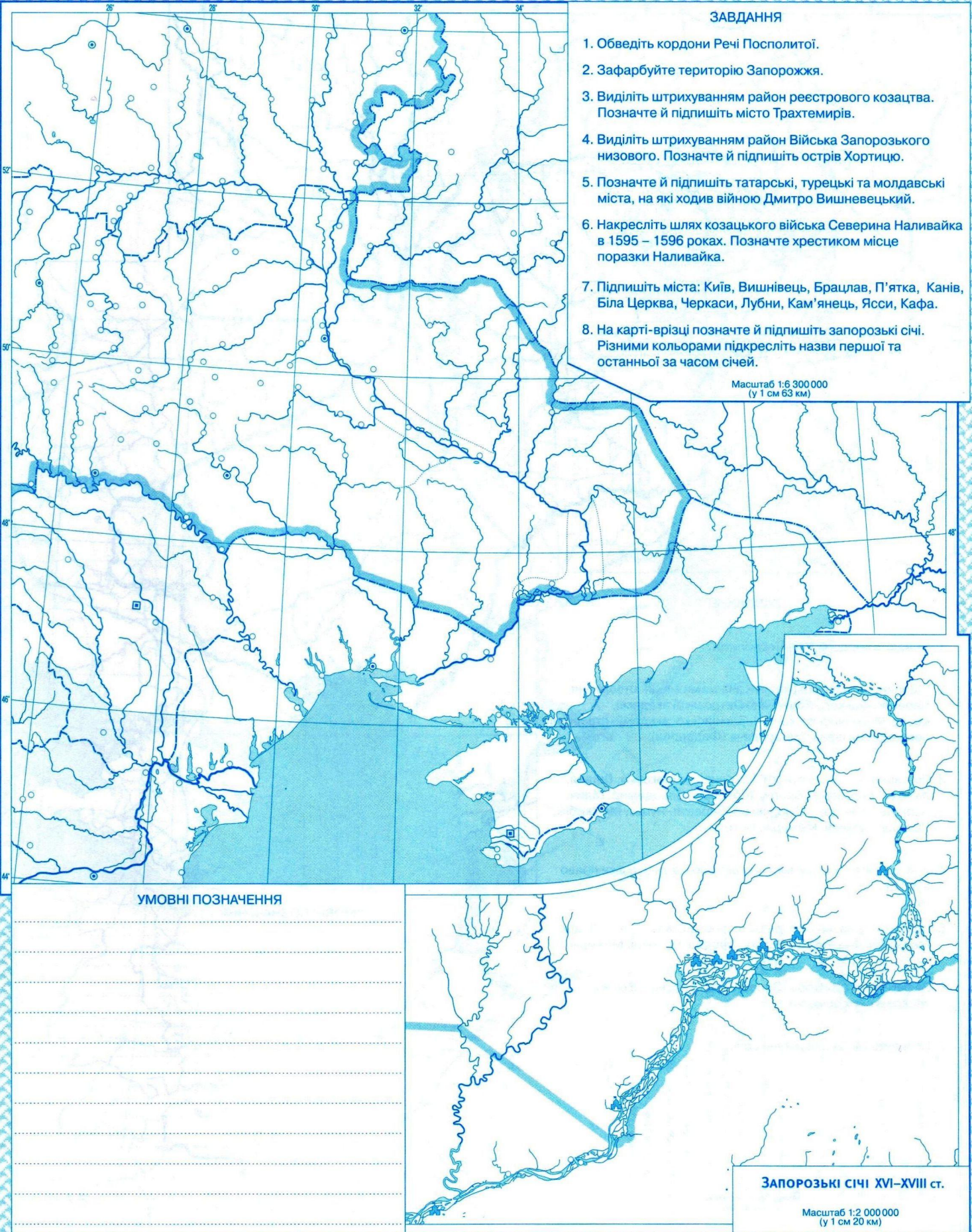


УМОВНІ ПОЗНАЧЕННЯ

ЗАВДАННЯ

1. Зафарбуйте різними кольорами території Королівства Польського і Великого князівства Литовського напередодні Люблінської унії.
2. Виділіть штрихуванням землі, приєднані до Польщі внаслідок Люблінської унії.
3. Позначте й підпишіть місто Люблін, поруч укажіть рік укладення Люблінської унії.
4. Окресліть межі воєводств Речі Посполитої на українських землях, позначте й підпишіть їхні центри.
5. Підпишіть Руське, Подільське, Волинське, Київське, Брацлавське воєводства. Підпишіть Запорожжя.
6. Підпишіть назви держав – сусідів Речі Посполитої.
7. Позначте й підпишіть столицю Речі Посполитої.
8. Окресліть сучасні кордони України.

Масштаб 1:6000000
(у 1 см 60 км)



ЗАВДАННЯ

1. Обведіть кордони Речі Посполитої.
2. Зафарбуйте територію Запорозжя.
3. Виділіть штрихуванням район реєстрового козацтва. Позначте й підпишіть місто Трахтемирів.
4. Виділіть штрихуванням район Війська Запорозького низового. Позначте й підпишіть острів Хортицю.
5. Позначте й підпишіть татарські, турецькі та молдавські міста, на які ходив війною Дмитро Вишневецький.
6. Накресліть шлях козацького війська Северина Наливайка в 1595 – 1596 роках. Позначте хрестиком місце поразки Наливайка.
7. Підпишіть міста: Київ, Вишневець, Брацлав, П'ятка, Канів, Біла Церква, Черкаси, Лубни, Кам'янець, Ясси, Кафа.
8. На карті-врізці позначте й підпишіть запорозькі січі. Різними кольорами підкресліть назви першої та останньої за часом січей.

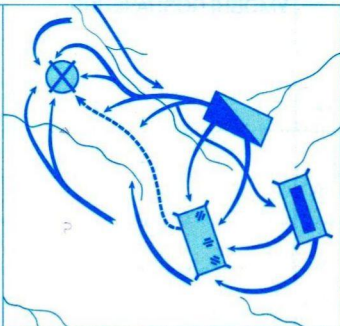
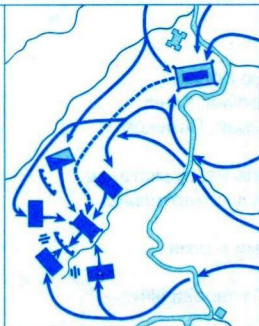
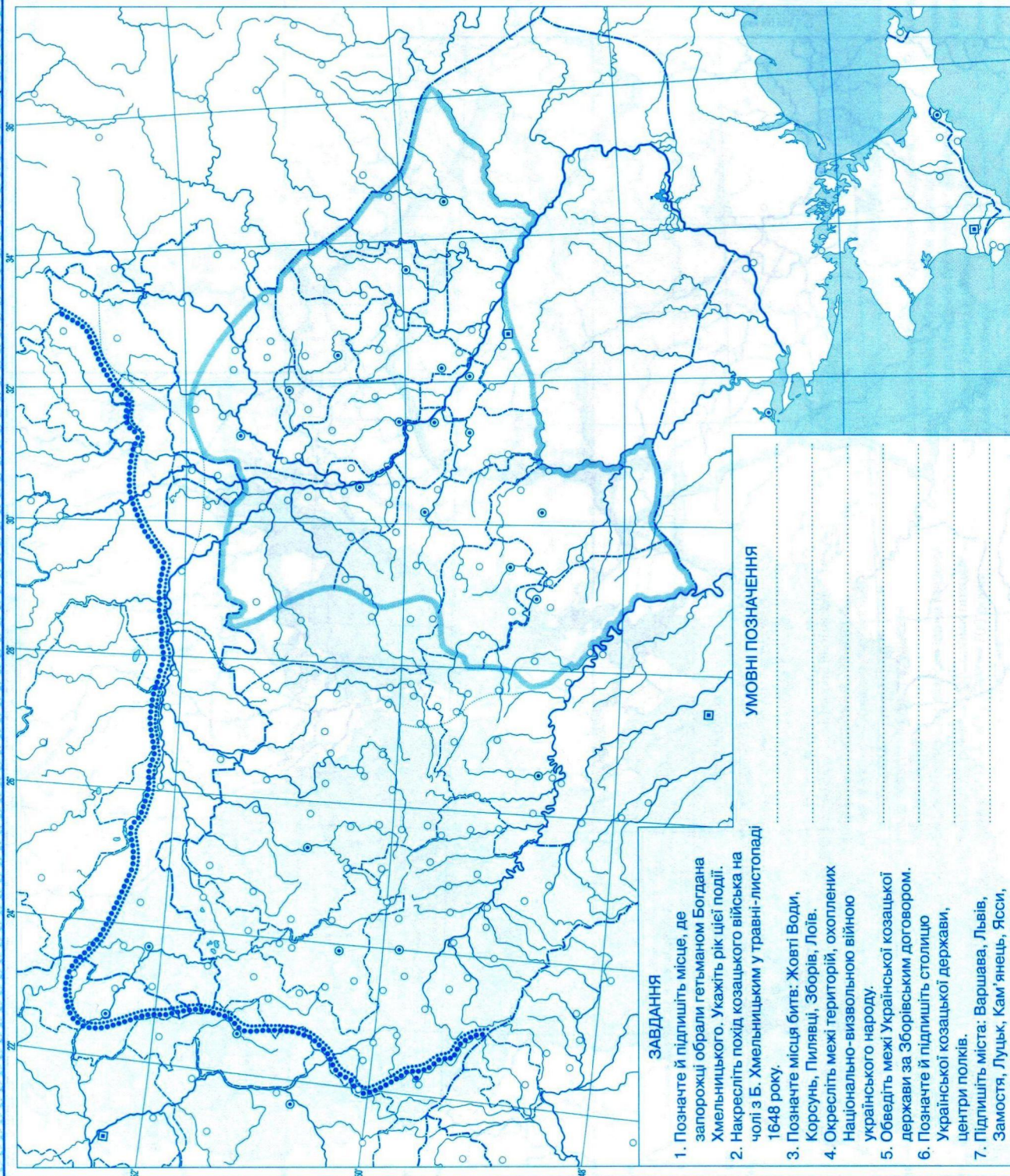
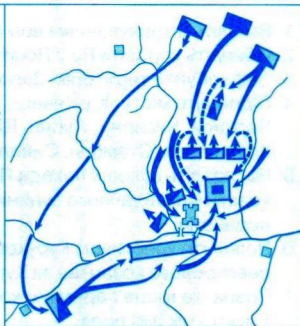
Масштаб 1:6 300 000
(у 1 см 63 км)

УМОВНІ ПОЗНАЧЕННЯ

Blank area with horizontal dashed lines for writing the legend or notes.

ЗАПОРІЗЬКІ СІЧІ XVI-XVIII ст.

Масштаб 1:2 000 000
(у 1 см 20 км)

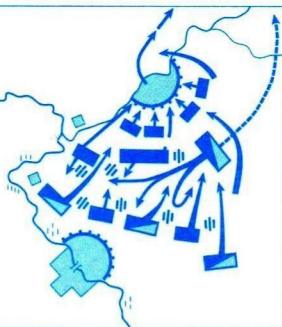
ЖОВТОВДСЬКА БИТВА
5–6 ТРАВНЯ 1648 Р.КОРСУНСЬКА БИТВА
16 ТРАВНЯ 1648 Р.ПИЛЯВЕЦЬКА БИТВА
11–13 ВЕРЕСНЯ 1648 Р.ЗБОРІВСЬКА БИТВА
5–6 СЕРПНЯ 1649 Р.

ЗАВДАННЯ

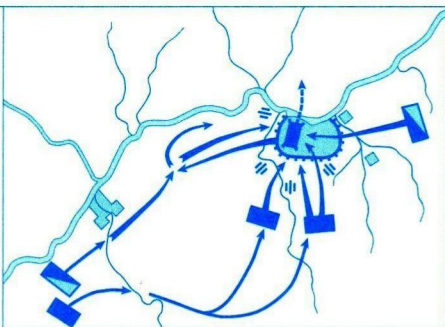
1. Позначте й підпишіть місце, де запорожці обрали гетьманом Богдана Хмельницького. Укажіть рік цієї події.
2. Накресліть похід козацького війська на чолі з Б. Хмельницьким у травні-листопаді 1648 року.
3. Позначте місця битв: Жовті Води, Корсунь, Пиливці, Зборів, Лоїв.
4. Окресліть межі територій, охоплених Національно-визвольною війною українського народу.
5. Обведіть межі Української козацької держави за Зборівським договором.
6. Позначте й підпишіть столицю Української козацької держави, центри полків.
7. Підпишіть міста: Варшава, Львів, Замостя, Луцьк, Кам'янець, Ясси, Бахчисарай.
8. На схемах битв різними кольорами зафарбуйте українські, татарські та польські війська.

УМОВНІ ПОЗНАЧЕННЯ

БЕРЕСТЕЦЬКА БИТВА
18–30 червня 1651 р.



БАТОЗЬКА БИТВА
22–23 травня 1652 р.



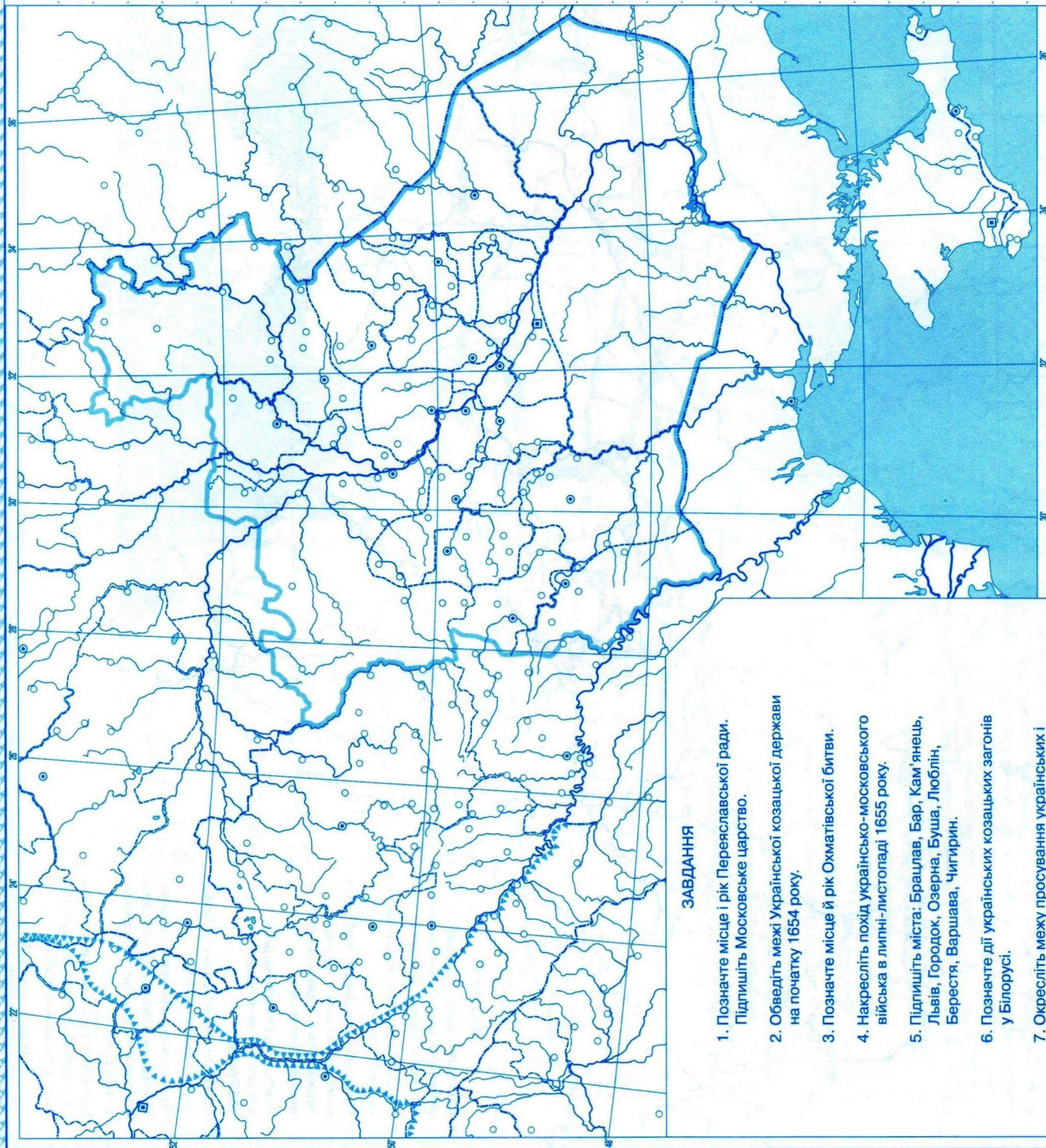
ЗАВДАННЯ

1. Накресліть похід козацького війська на чолі з Б. Хмельницьким у травні – червні 1651 року.
2. Підпишіть Берестечко й позначте місце битви.
3. Підпишіть Білу Церкву й обведіть межі Української козацької держави за Білоцерківським мирним договором.
4. Накресліть похід козацького війська в травні–червні 1652 року.
5. Позначте місця Батозької битви та Жванецької облоги.
6. Підпишіть князівства Молдавія і Волощина. Накресліть молдавські походи Тимоша Хмельницького в 1653 році.
7. На схемах битв різними кольорами зафарбуйте українські, татарські та польські війська.

УМОВНІ ПОЗНАЧЕННЯ

Масштаб 1:6 000 000
(у 1 см 60 км)

УМОВНІ ПОЗНАЧЕННЯ

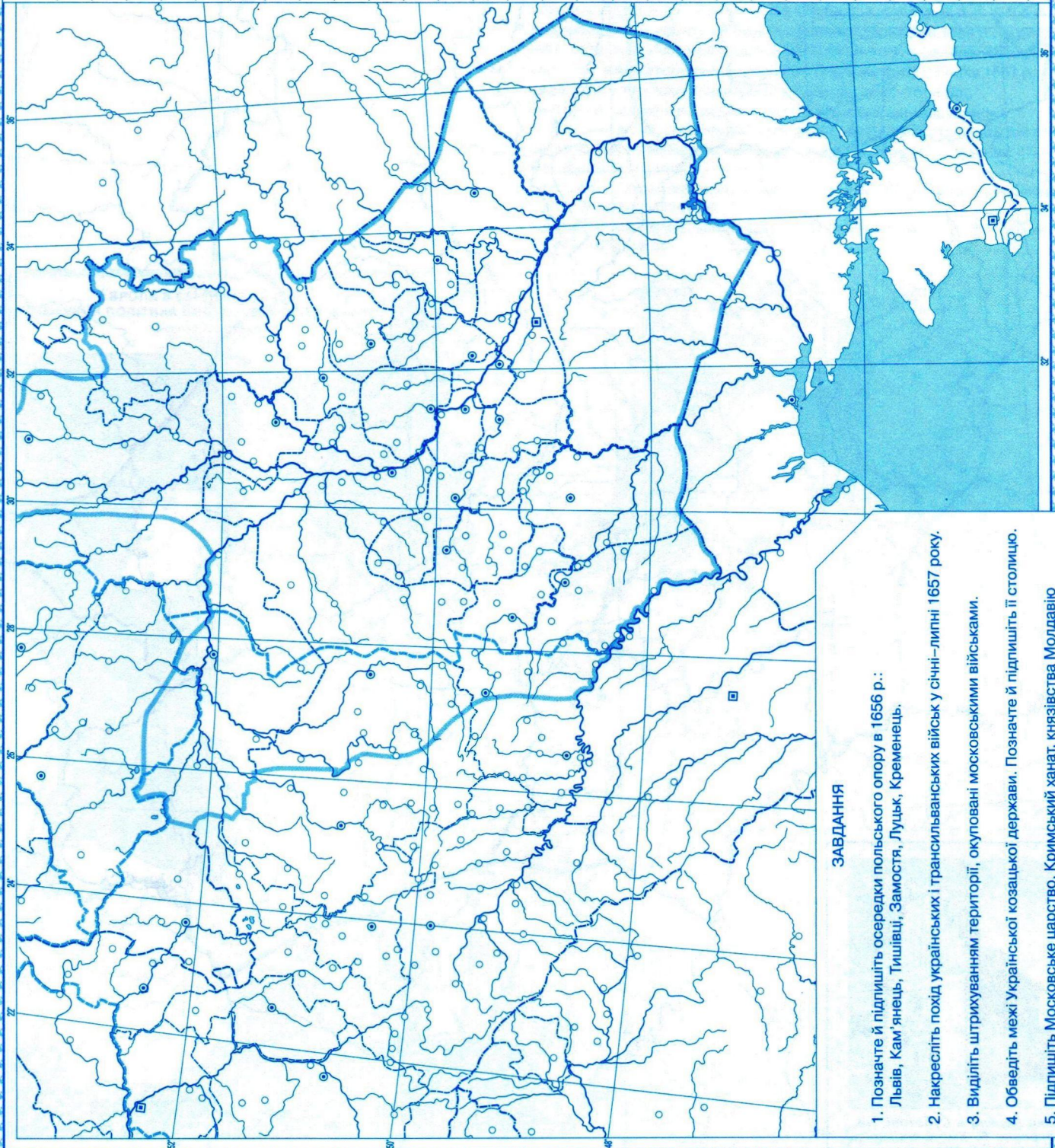


ЗАВДАННЯ

1. Позначте місце і рік Переяславської ради. Підлишіть Московське царство.
2. Обведіть межі Української козацької держави на початку 1654 року.
3. Позначте місце й рік Охматівської битви.
4. Накресліть похід українсько-московського війська в липні-листопаді 1655 року.
5. Підлишіть міста: Брацлав, Бар, Кам'янець, Львів, Городок, Озерна, Буша, Лоблін, Берестя, Варшава, Чигирин.
6. Позначте дії українських козацьких загонів у Білорусі.
7. Окресліть межі просування українських і московських військ восени 1655 року.

Масштаб 1:6 000 000
(у 1 см 60 км)

УМОВНІ ПОЗНАЧЕННЯ



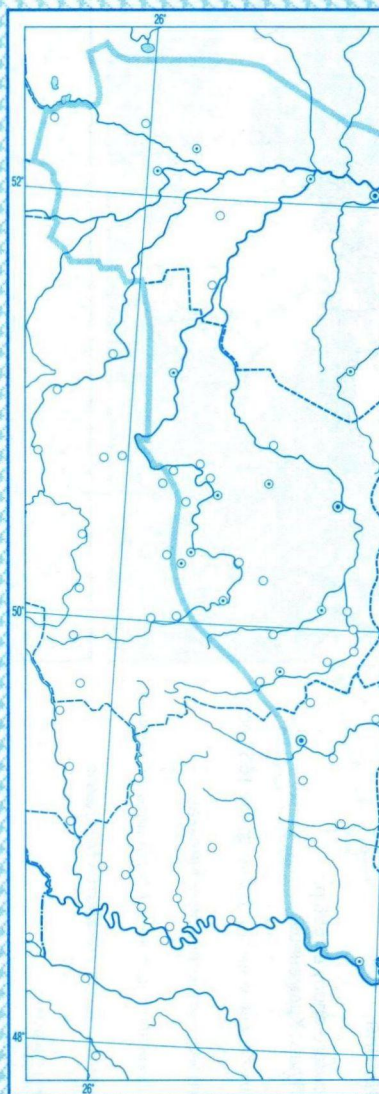
ЗАВДАННЯ

1. Позначте й підпишіть осередки польського опору в 1656 р.: Львів, Кам'янець, Тишіваці, Замостя, Луцьк, Кременець.
2. Накресліть похід українських і трансильванських військ у січні–липні 1657 року.
3. Виділіть штрихуванням території, окуповані московськими військами.
4. Обведіть межі Української козацької держави. Позначте й підпишіть її столицю.
5. Підпишіть Московське царство, Кримський ханат, князівства Молдавію і Трансильванію.

Масштаб 1:6 000 000
(у 1 см 60 км)



Герб Війська Запорозького



Масштаб 1:4 000 000
(у 1 см 40 км)



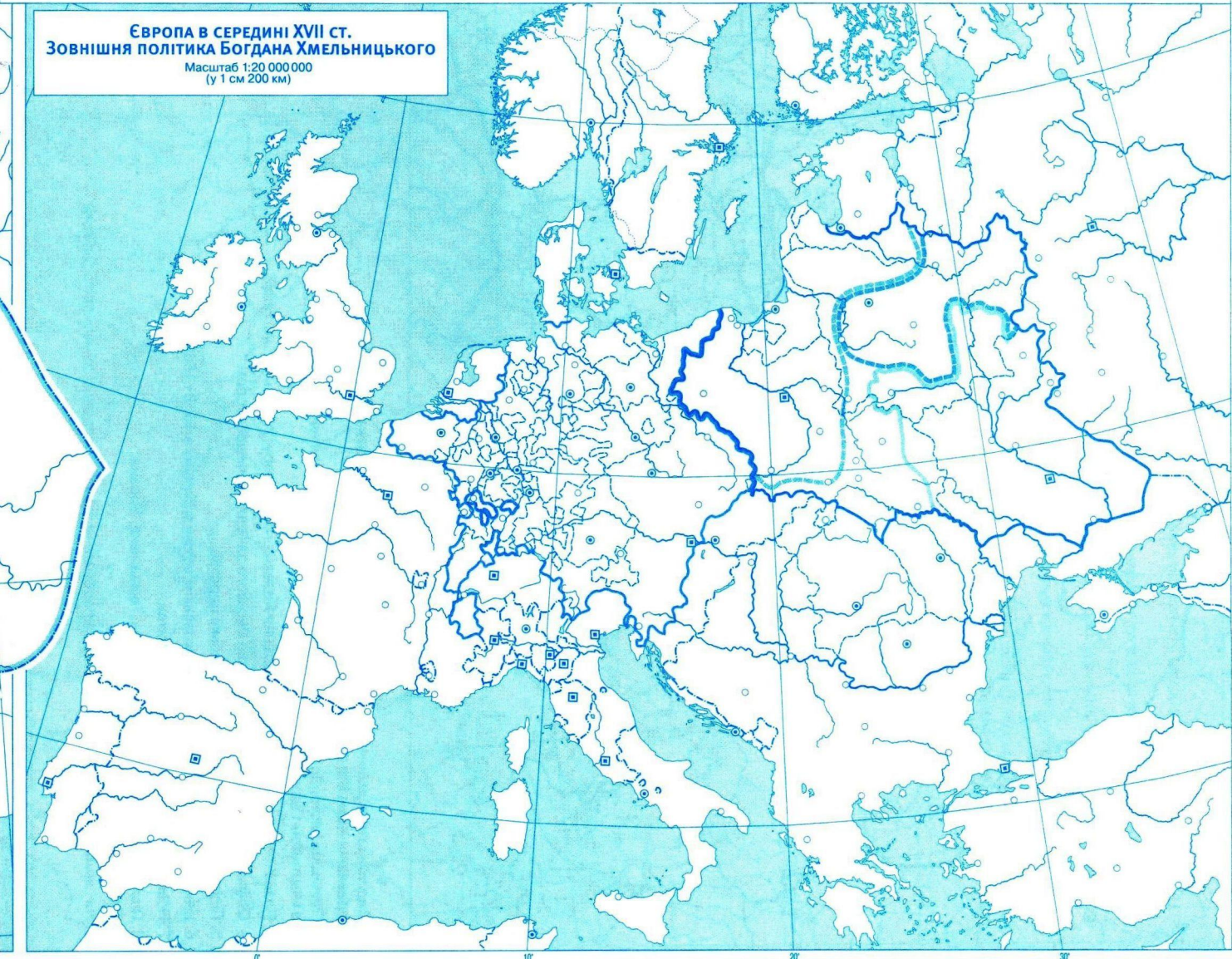
Іллінська церква в Суботіві, де було поховано Б. Хмельницького.
З малюнка Т. Шевченка

УМОВНІ ПОЗНАЧЕННЯ

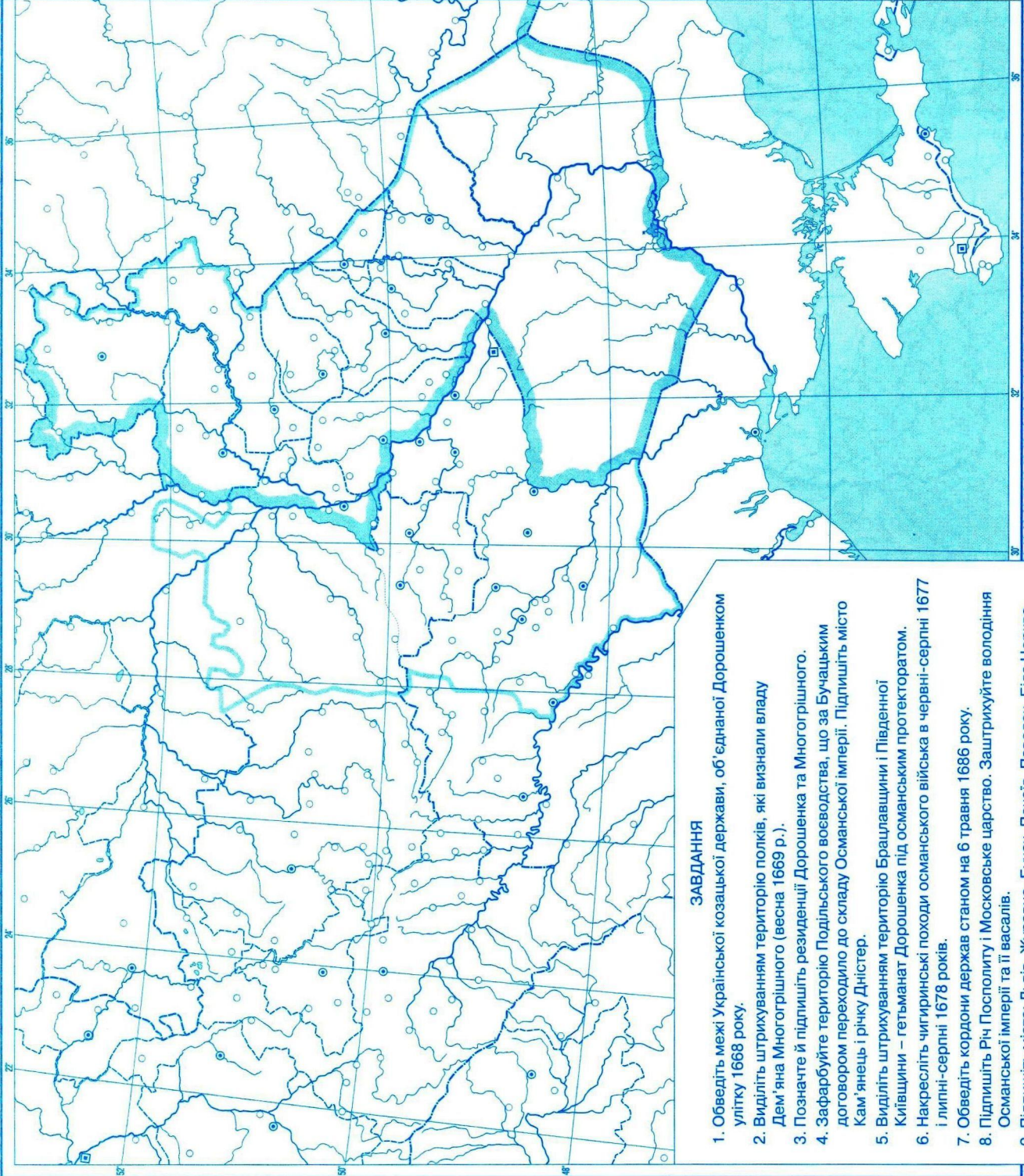
ЗАВДАННЯ

1. Обведіть межі Української козацької держави в рік смерті Богдана Хмельницького. Позначте й підпишіть її столицю.
2. Окресліть межі полків, позначте й підпишіть їхні центри.
3. Зафарбуйте пунсони міст, що володіли магдебурзьким правом.
4. Виділіть територію Запорозжя. Позначте й підпишіть Чортомлицьку Січ.
5. Позначте традиційні місця скликання Генеральної військової ради.
6. Позначте місто, у якому від лютого 1654 р. перебувала московська залога.
7. Підпишіть суміжні держави.
8. Підпишіть річки: Дніпро, Прип'ять, Десна, Сіверський Донець, Дністер.
9. На карті Європи:
 - обведіть кордони Речі Посполитої в 1648 р.;
 - зафарбуйте територію Української козацької держави в 1654 р.; окресліть межі територій, підвладних Богданові Хмельницькому в 1655–1657 рр.;
 - окресліть межі шведської окупації Речі Посполитої на початку 1657 р.;
 - зафарбуйте території, завойовані Швецією в 1645–1658 рр.;
 - виділіть штрихуванням різних кольорів території держав, з якими Б. Хмельницький підтримував дипломатичні стосунки, підпишіть їхні столиці;
 - підпишіть міста Мюнстер і Оснабрюк, поряд укажіть рік укладення Вестфальського миру;
 - підпишіть і підкресліть назву держави, у якій в 1649 р. сталася революція і було повалено монархію;
 - підпишіть назви країн, які вели боротьбу проти англійського панування в 1641–1652 роках.

**Європа в середині XVII ст.
Зовнішня політика Богдана Хмельницького**
Масштаб 1:20 000 000
(у 1 см 200 км)



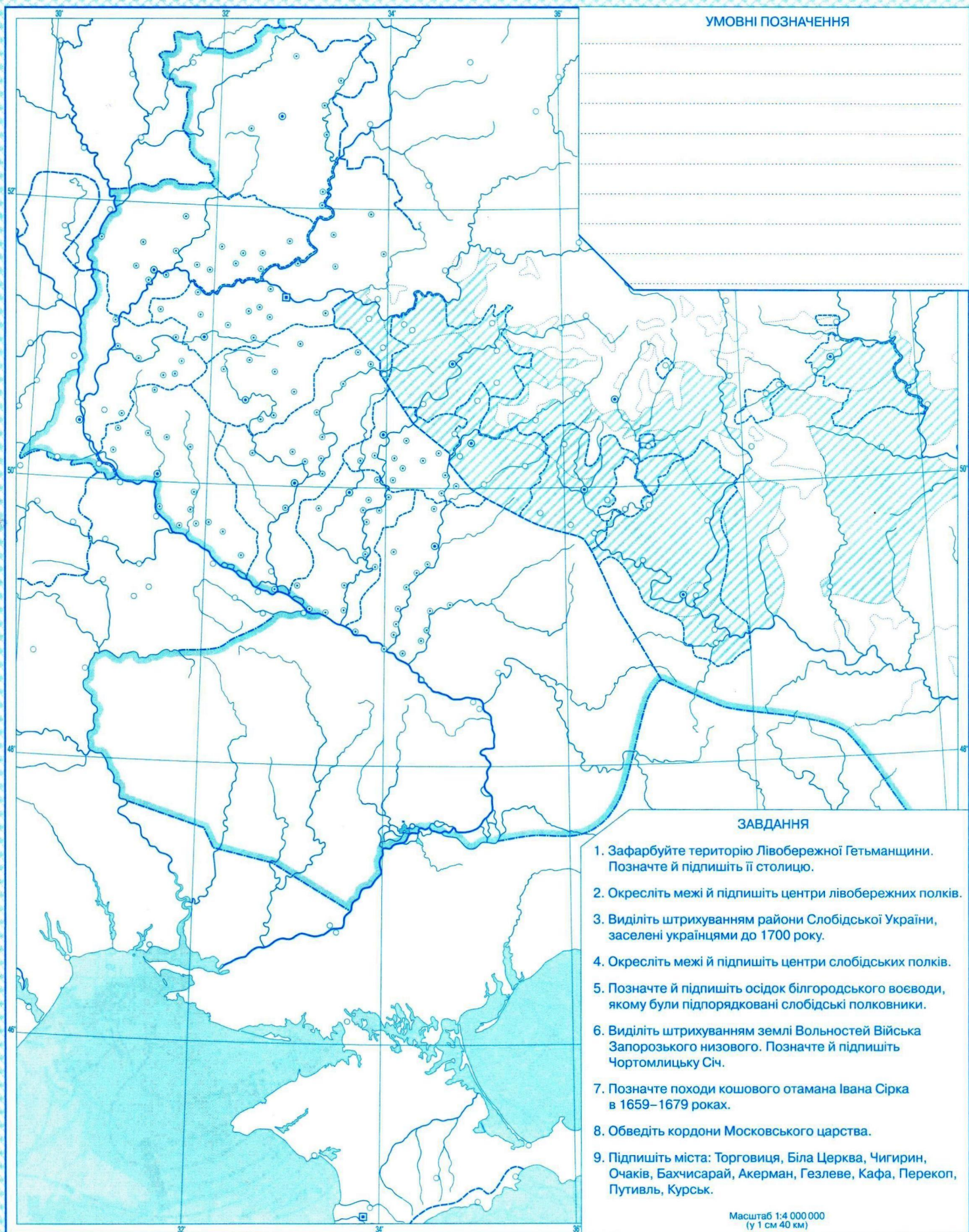
УМОВНІ ПОЗНАЧЕННЯ

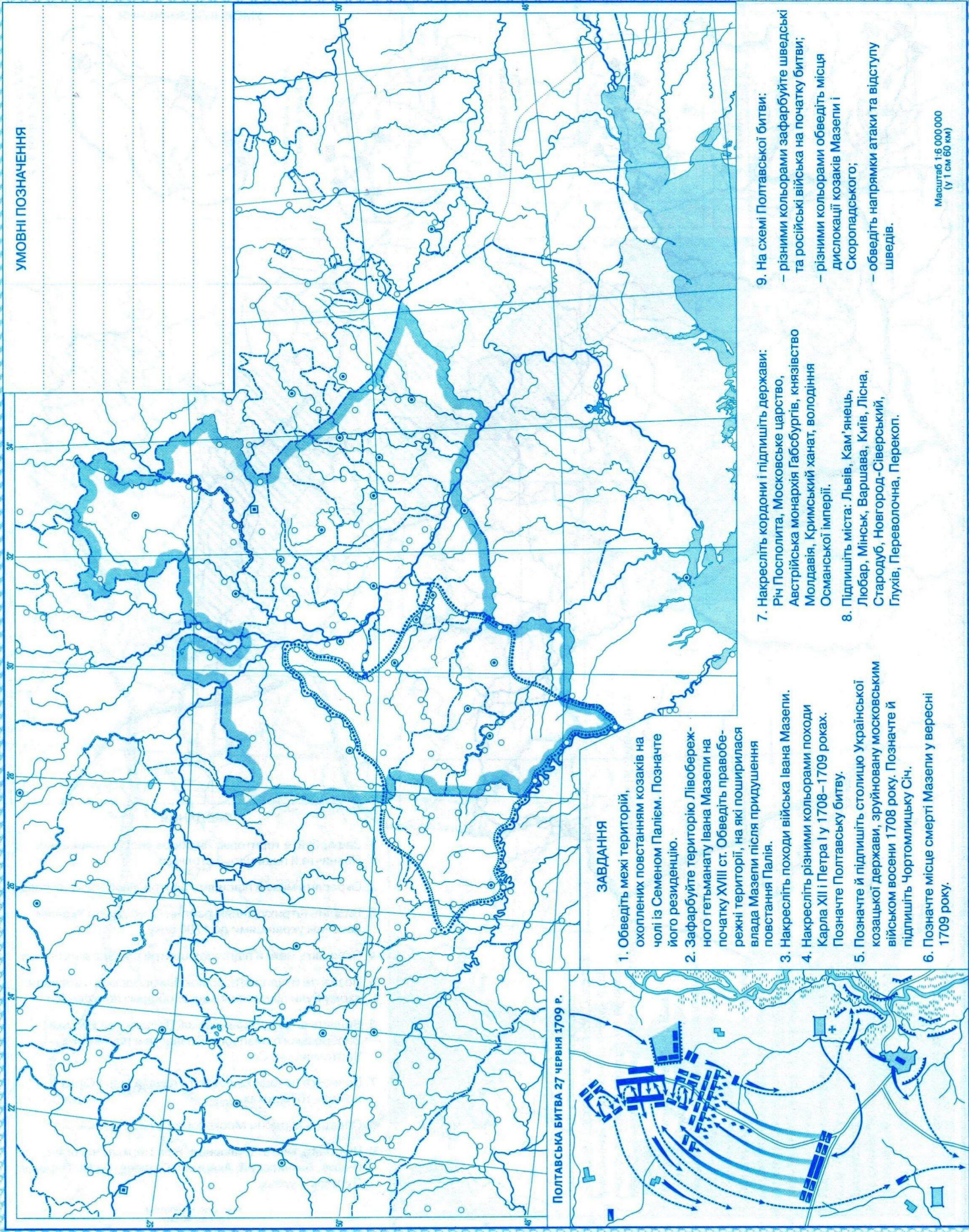


ЗАВДАННЯ

1. Обведіть межі Української козацької держави, об'єднаної Дорошенком улітку 1668 року.
2. Виділіть штрихуванням територію полків, які визнали владу Дем'яна Многогрішного (весна 1669 р.).
3. Позначте й підпишіть резиденції Дорошенка та Многогрішного.
4. Зафарбуйте територію Подільського воєводства, що за Бучацьким договором переходило до складу Османської імперії. Підпишіть місто Кам'янець і річку Дністер.
5. Виділіть штрихуванням територію Брацлавщини і Південної Київщини – гетьманат Дорошенка під османським протекторатом.
6. Накресліть чигиринські походи османського війська в червні–серпні 1677 і липні–серпні 1678 років.
7. Обведіть кордони держав станом на 6 травня 1686 року.
8. Підпишіть Річ Посполиту і Московське царство. Заштрихуйте володіння Османської імперії та її васалів.
9. Підпишіть міста: Львів, Журавно, Бучач, Почаїв, Павлоч, Біла Церква, Корсунь, Умань, Брацлав, Черкаси, Переяслав, Полтава, Гадяч, Ніжин, Конотоп, Глухів, Стародуб, Немирів, Чортomlaцьку Січ, Бахчисарай.

Масштаб 1:6 000 000
(у 1 см 60 км)



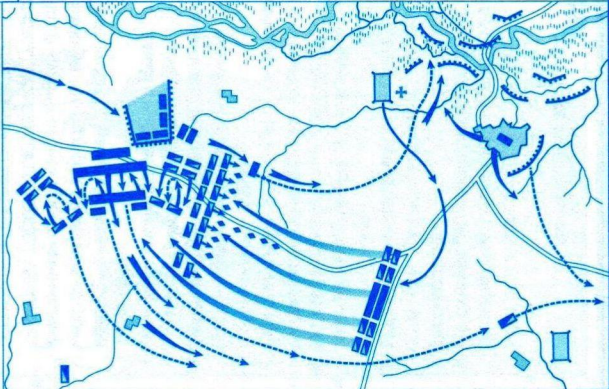


УМОВНІ ПОЗНАЧЕННЯ

ЗАВДАННЯ

1. Обведіть межі територій, охоплених повстанням козаків на чолі із Семеном Палієм. Позначте його резиденцію.
2. Зафарбуйте територію Лівобережного гетьманату Івана Мазепи на початку XVIII ст. Обведіть правобережні території, на які поширилася влада Мазепи після придушення повстання Палія.
3. Накресліть походи війська Івана Мазепи.
4. Накресліть різними кольорами походи Карла XII і Петра I у 1708–1709 роках. Позначте Полтавську битву.
5. Позначте і підпишіть столицю Української козацької держави, зруйновану московським військом восени 1708 року. Позначте й підпишіть Чортомлицьку Січ.
6. Позначте місце смерті Мазепи у вересні 1709 року.

ПОЛТАВСЬКА БИТВА 27 ЧЕРВНЯ 1709 Р.



7. Накресліть кордони і підпишіть держави: Річ Посполита, Московське царство, Австрійська монархія Габсбургів, князівство Молдавія, Кримський ханат, володіння Османської імперії.
8. Підпишіть міста: Львів, Кам'янець, Любар, Мінськ, Варшава, Київ, Лісна, Стародуб, Новгород-Сіверський, Глухів, Переволочна, Перекоп.
9. На схемі Полтавської битви:
 - різними кольорами зафарбуйте шведські та російські війська на початку битви;
 - різними кольорами обведіть місця дислокації козаків Мазепи і Скоропадського;
 - обведіть напрямки атаки та відступу шведів.

Масштаб 1:6 000 000
(У 1 см 60 км)



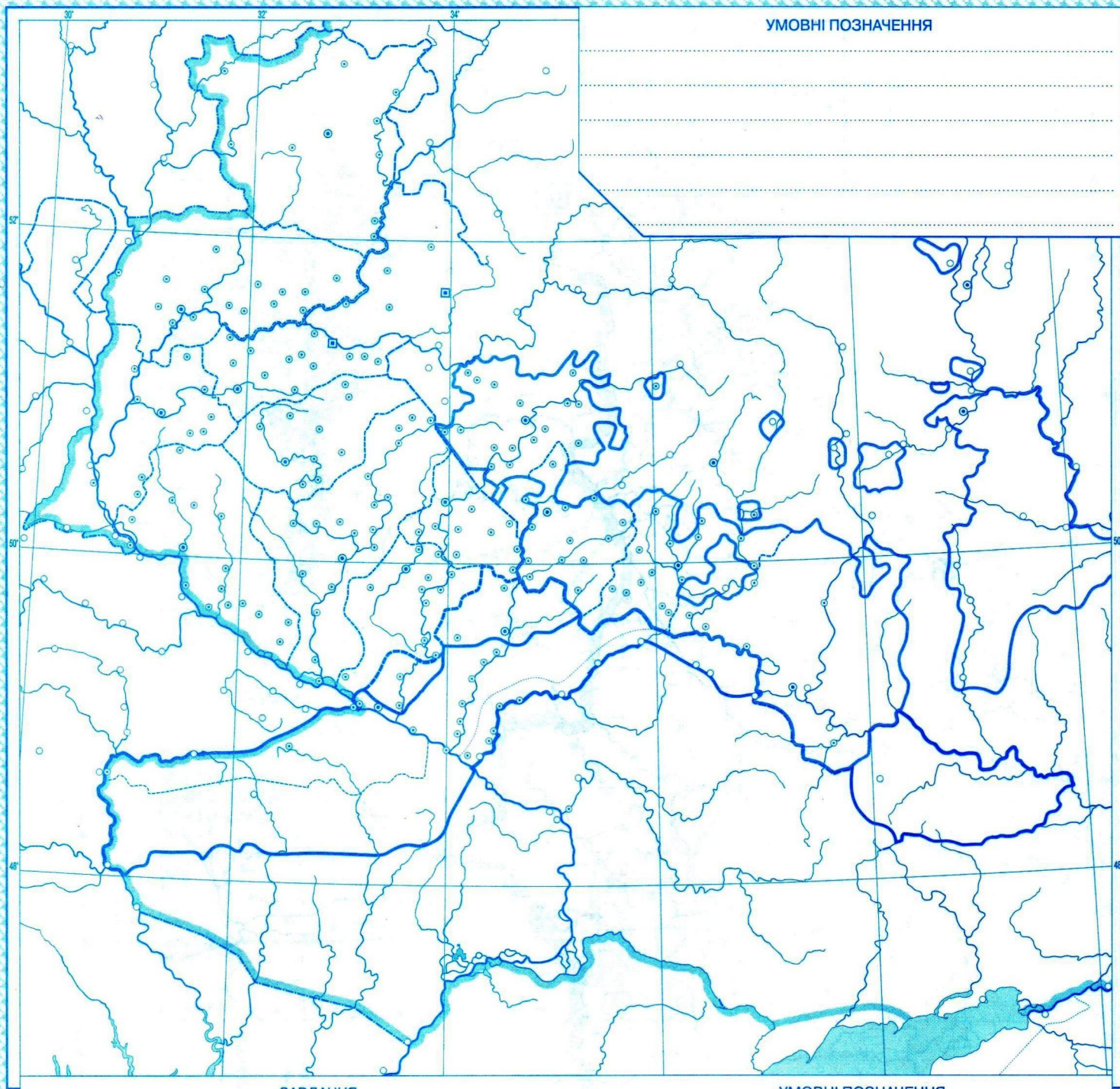
УМОВНІ ПОЗНАЧЕННЯ

УМОВНІ ПОЗНАЧЕННЯ

ЗАВДАННЯ

1. Позначте й підпишіть місце обрання гетьманом Пилипа Орлика.
2. Накресліть похід Орлика на Правобережжя у січні – квітні 1711 року.
3. Накресліть напрямок Пругського походу Петра I. Позначте й підпишіть місце і рік підписання Пругського мирного договору.
4. Обведіть межу земель, що перейшли під владу султана після Пругського договору. Підпишіть Запорожжя.
5. Позначте місце і рік заснування Нової Січі.
6. Виділіть штрихуванням території, приєднані до Росії за Белградським миром 1739 року.
7. Обведіть райони дій гайдамаків і опришків.
8. Підпишіть міста: Біла Церква, Богуслав, Корсунь, Чигирин, Умань, Кальник, Брацлав, Ясси, Глухів, Харків, Таганрог, Бахчисарай.

Масштаб 1:6 000 000
(у 1 см 60 км)



ЗАВДАННЯ

УМОВНІ ПОЗНАЧЕННЯ

1. Зафарбуйте територію Гетьманщини, позначте й підпишіть її обидві столиці. Позначте й підпишіть центри полків.
2. Біля Глухова вкажіть рік скасування гетьманства на Лівобережжі.
3. Окресліть межу територій, вилучених зі складу лівобережних полків до 1775 року.
4. Зафарбуйте територію слобідських полків. Позначте й підпишіть їхні центри.
5. Обведіть межі Слобідсько-Української губернії, створеної в 1765 році. Підкресліть назву її центру.
6. Підпишіть Запорозжя і Новоросійську губернію.
7. Підпишіть міста: Київ, Кременчук, Св. Єлизавети, Бахмут, Білгород.
8. Обведіть кордони Російської імперії.

.....

.....

.....

.....

.....

.....

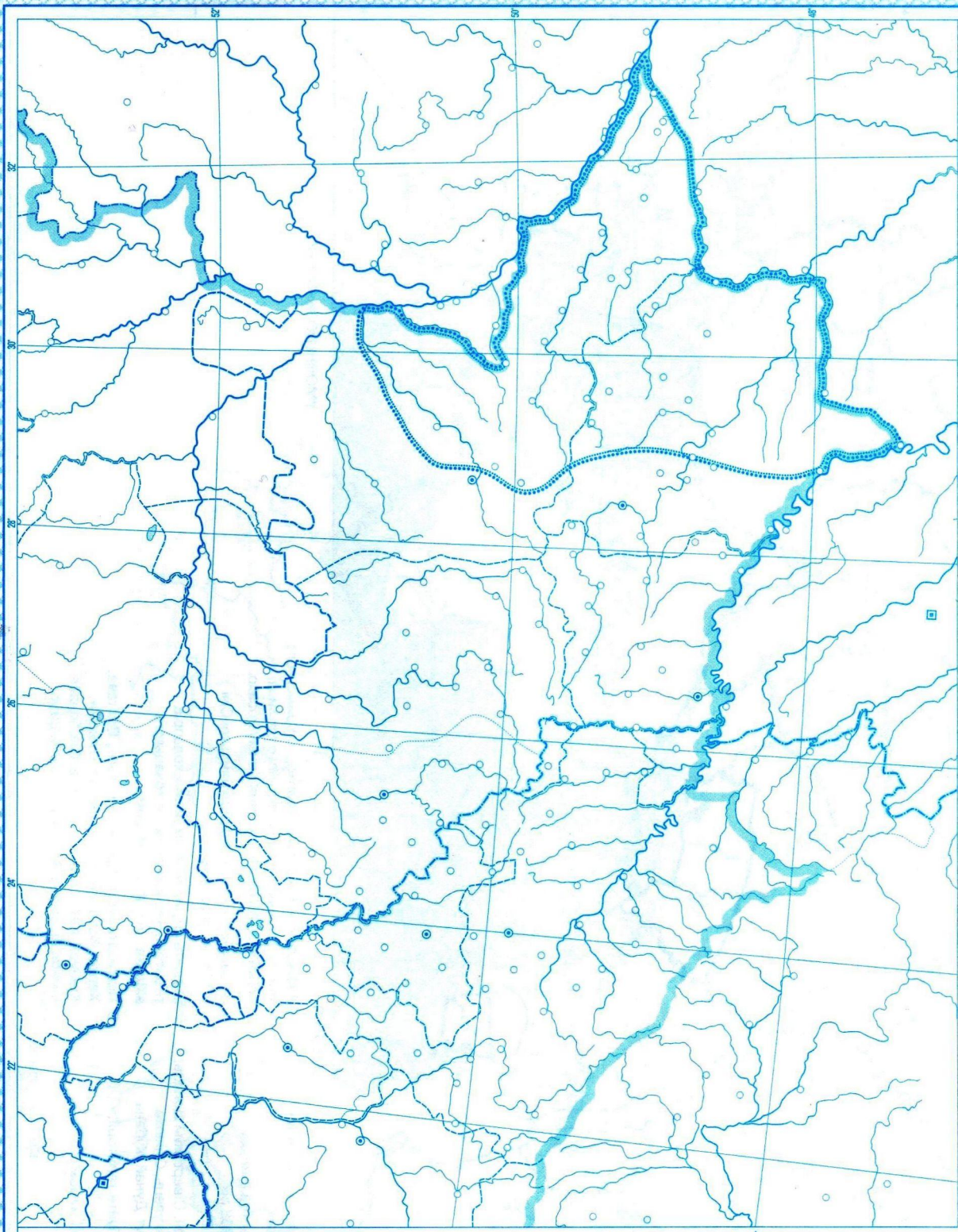
.....

.....

.....

.....

Масштаб 1:4 000 000
(у 1 см 40 км)

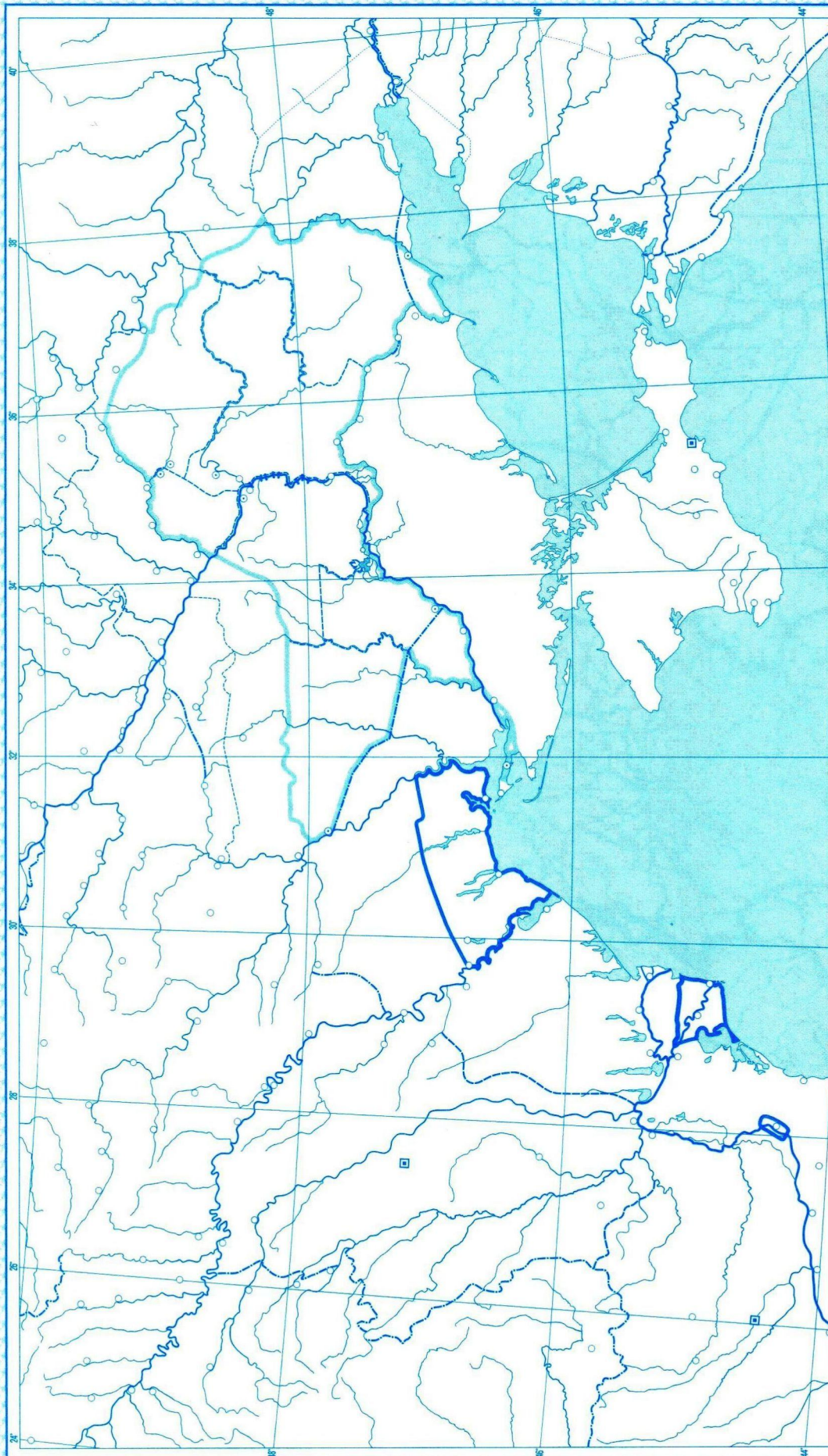


ЗАВДАННЯ

1. Обведіть кордони Речі Посполитої станом на 1768 рік.
2. Виділіть штрихуванням різних кольорів території, що ввійшли до складу Російської імперії внаслідок поділів Речі Посполитої:
 – у 1772 р.;
 – у 1793 р.;
 – у 1795 р.
3. Виділіть штрихуванням різних кольорів території, що ввійшли до складу Австрійської монархії Габсбургів внаслідок поділів Речі Посполитої:
 – у 1772 р.;
 – у 1795 р.
4. Зафарбуйте й підпишіть територію Буковини.
5. Підпишіть Галичину, Волинь, Поділля, Закарпаття.
6. Біля Варшави вкажіть рік ліквідації Речі Посполитої як незалежної держави.
7. Позначте місце і рік початку Коліващини.
8. Обведіть межі району, окупованого Коліващиною. Позначте й підпишіть місто Умань.
9. Позначте й підпишіть місце страти Івана Гонта.
10. Окресліть кордони держав наприкінці 1795 року.

Масштаб 1:4 500 000
(У 1 см 45 км)

УМОВНІ ПОЗНАЧЕННЯ

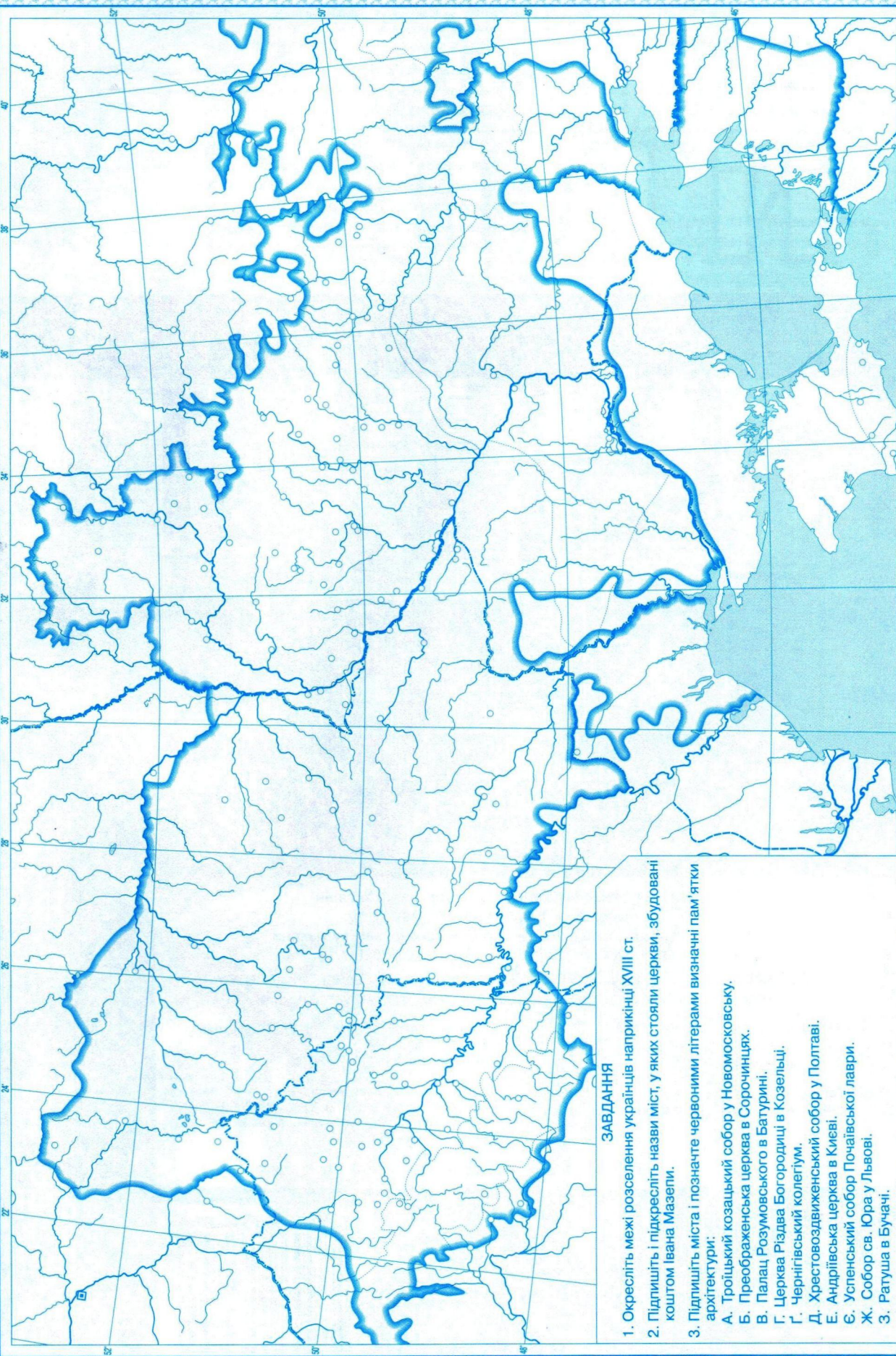


ЗАВДАННЯ

1. Виділіть штрихуванням землі, які втратили запорожці в 1731–1754 роках.
2. Обведіть територію Вольностей Війська Запорозького станом на 1768 рік. Позначте й підпишіть Нову Січ.
3. Підпишіть річки: Дніпро, Дон, Сіверський Донець, Оріль, Самара, Кальміус, Інгулець, Сіноха, Південний Буг, Дністер, Прут, Дунай, Кубань.
4. Різними кольорами зафарбуйте території, приєднані до Росії:
– за Кючук-Кайнарджійським миром;
– за Яссійським миром.

УМОВНІ ПОЗНАЧЕННЯ

5. Зафарбуйте й підпишіть територію Кримського ханату. Позначте й підпишіть його столицю, поруч укажіть рік загарбання Криму Росією.
6. Зафарбуйте територію Задунайської Січі в 1787–1795 роках.
7. Виділіть штрихуванням різних кольорів території Чорноморського козацького війська до і після 1795 року.
8. Підпишіть міста: Кременчук, Азов, Полтава, Харків, Катеринодар, Перекоп, Олешки, Кінбурн, Керч, Єнікале, Очаків, Слободзея, Ізмаїл, Акерман, Ясси, Кючук-Кайнарджі.



ЗАВДАННЯ

1. Окресліть межі розселення українців наприкінці XVIII ст.
2. Підпишіть і підкресліть назви міст, у яких стояли церкви, збудовані коштом Івана Мазепи.
3. Підпишіть міста і позначте червоними літерами визначні пам'ятки архітектури:
 - А. Троїцький козацький собор у Новомишковську.
 - Б. Преображенська церква в Сорочинцях.
 - В. Палац Розумовського в Батурині.
 - Г. Церква Різдва Богородиці в Козельці.
 - Ґ. Чернігівський колегіум.
 - Д. Хрестовоздвиженський собор у Полтаві.
 - Е. Андріївська церква в Києві.
 - Є. Успенський собор Почаївської лаври.
 - Ж. Собор св. Юра у Львові.
 - З. Ратуша в Бучачі.
4. Підпишіть міста і позначте синіми літерами місця написання видатних літературних творів:
 - А. «Хроніка з літописців стародавніх».
 - Б. «Синопис».
 - В. «Літопис Самовидця».
 - Ґ. «Літопис» Г. Грабянки.
 - Г. «Літопис» С. Величка.
5. Позначте й підпишіть місце народження Г. Сковороди.

УМОВНІ ПОЗНАЧЕННЯ

6. Підпишіть українські історичні землі: Волинь, Галичина, Закарпаття, Буковина, Поділля, Правобережжя, Гетьманщина, Слобідська Україна, Запорозжжя, Кубань.
7. На територіїх Гетьманщини і Запорозжжя напишіть роки запровадження там кріпацтва.

Масштаб 1:6 000 000
(у 1 см 60 км)

ЗМІСТ

сторінка	масштаб
1 Люблінська унія	1 : 6 000 000
2 Українські землі у складі Речі Посполитої	1 : 8 200 000
3 Українське козацтво в XVI ст.	1 : 6 300 000
Запорозькі січі XVI–XVIII ст.	1 : 2 000 000
4 Господарство і культура українських земель у XVI – першій половині XVII ст.	1 : 6 000 000
5 Українське козацтво у першій половині XVII ст.	1 : 6 300 000
6 Національно-визвольна війна українського народу (події 1648–1649 рр.).....	1 : 6 000 000
Жовтоводська битва 5–6 травня 1648 р. Корсунська битва 16 травня 1648 р. Пилявецька битва 11–13 вересня 1648 р. Зборівська битва 5–6 серпня 1649 р.	
7 Національно-визвольна війна українського народу (події 1650–1653 рр.).....	1 : 6 000 000
Берестецька битва 18–30 червня 1651 р. Батозька битва 22–23 травня 1652 р.	
8 Національно-визвольна війна українського народу (події 1654–1655 рр.).....	1 : 6 000 000
9 Національно-визвольна війна українського народу (події 1656–1657 рр.).....	1 : 6 000 000

сторінка	масштаб
10–11 Українська козацька держава – Гетьманщина за часів Богдана Хмельницького (1648–1657 рр.).....	1 : 4 000 000
Європа в середині XVII ст. Зовнішня політика Богдана Хмельницького	1 : 20 000 000
12 Україна за правління гетьмана Івана Виговського (1657–1659 рр.).....	1 : 6 000 000
Конотопська битва 28–29 червня 1659 р.	
13 Україна в 1659–1667 роках	1 : 6 000 000
14 Правобережна та Лівобережна Гетьманщини в 1667–1687 роках. Доба Руїни	1 : 6 000 000
15 Лівобережна Гетьманщина, Слобідська Україна і Запорозька Січ у другій половині XVII ст.	1 : 4 000 000
16 Україна за часів гетьмана Івана Мазепи (1687–1709 рр.).....	1 : 6 000 000
Полтавська битва 27 червня 1709 р.	
17 Україна в 1709–1750 роках	1 : 6 000 000
18 Гетьманщина і Слобідська Україна в другій половині XVIII ст.	1 : 4 000 000
19 Правобережна і Західна Україна в другій половині XVIII ст.	1 : 4 500 000
20 Запорозька Січ і Південна Україна в другій половині XVIII ст.	1 : 5 000 000
Культура і господарство на українських землях у другій половині XVII – XVIII ст. ...	1 : 6 000 000

КАРТОГРАФІЯ



Навчальні атласи, стінні та контурні карти з історії в магазинах «Атласи та карти»
 Київ, вул. Попудренка, 54. Тел. (044) 292-31-24, 292-02-15, 537-04-77
 Київ, Велика Васильківська вул., 69. Тел. (044) 537-06-18

Рекомендовано Міністерством освіти і науки України
 (лист № 1/11-5804 від 30.05.2018)

Контурні карти відповідають санітарному законодавству України
 (висновок №12.2-18-1/3623 від 27.02.2020)

ДЕРЖАВНА СЛУЖБА УКРАЇНИ З ПИТАНЬ ГЕОДЕЗІЇ, КАРТОГРАФІЇ ТА КАДАСТРУ
ДЕРЖАВНЕ НАУКОВО-ВИРОБНИЧЕ ПІДПРИЄМСТВО «КАРТОГРАФІЯ»

вул. Попудренка, 54, м. Київ-94, 02094
 Свідоцтво суб'єкта видавничої справи
 ДК № 398 від 03.04.2001

Редактор Д.В. Ісаєв
 Технічний редактор С.М. Полторако

Формат паперу 62x88/8 Друк офсетний
 Ум. друк. арк. 3,03
 Зам. № 04364

Видруковано ТОВ «Новий друк»,
 вул. Магнітогорська, 1, м. Київ-94, 02660
 Свідоцтво суб'єкта видавничої справи
 ДК №1447 від 28.07.2003

© ДНВП «Картографія», 2012 – 2020

ISBN 978-966-946-279-4



9 789669 462794 >