



ЛІТНЯ ШКОЛА

ПЕРШОКЛАСНОГО ДОСЛІДНИКА НУШ

*Щоденні завдання
на 6 літніх тижнів*

ЛІТО З КОРИСТЮ

2020р. Бурор М. І.



Передмова для батьків

Під час літніх канікул читання погіршується більш ніж у 50% учнів, письмо - у 67%, а обчислювальні навички - у 75% учнів. За три місяці відпочинку діти можуть забути те, що вивчали протягом року. Для того, щоб зберегти рівень навчальних умінь та навичок, досить тренуватися щоденно 15 хвилин під час літніх канікул. Краще за все повторювати пройдений матеріал в цікавій ігровій формі.

Саме ця закономірність і закладена в основі роботи даної збірки завдань, яка налічує 30 завдань, розрахованих на 6 літніх тижнів (з 13 липня по 21 серпня), по 5 занять на тиждень.

. Покажіть, що світ навколо дуже цікавий, робіть разом відкриття і радійте від сяючих очей вашої дитини.



Тривалість тренувань орієнтовна:

- триразове читання тексту 3 хвилини
- письмо речення - 3 хвилини (слідкувати за правильним написанням літер)
- обчислення прикладів - 5 хвилин
- обчислення задачі - 4 хвилини

Всього 15 хвилин.



Зверніть увагу на наступне:

- чи зрозумілий текст дитині
- чи зменшується час при читанні за три рази
- чи правильне написання великих та рядкових літер, чи збільшалася швидкість письма за останні заняття
- чи зменшилися витрати часу на математичні обчислення та кількість помилок.



Передмова для дітей

Любі мої діти!

Перша вправа - читання!



Загадку треба читати тричі, кожного разу визначати, скільки часу витрачається. У цьому вам допоможуть дорослі. Після читання розмалюйте відгадку та зробіть її звуковий аналіз.

Друга вправа - письмо.



У хмарі слів знайдіть та прочитайте речення. Його треба охайно та уважно двічі переписати, дотримуючись усіх норм каліграфії.

Третя вправа - математика.



При розв'язуванні задачі, роби все як звично. Не забувай про пояснення та відповідь.

При щоденних тренуваннях витрати часу на обчислення прикладів та задачі зменшаться.



Завдання 1

Оціни себе


1. Прочитай загадку, розмалюй відгадку

У зеленому лісочку,
Під мережаним листочком
Червоніє невеличка
Спіла ягідка...



--	--	--	--	--	--	--

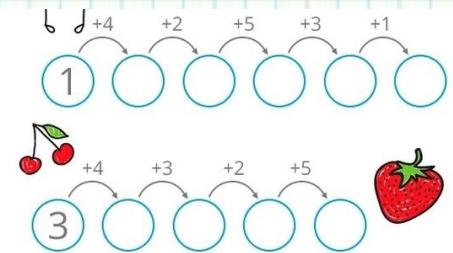


2. Відшукай та запиши речення.



3. Розв'яжи задачу та зроби обчислення.

	- 5 кг	} 12 кг
	- ? кг	






Завдання 2

Оціни себе


1. Прочитай загадку, розмалюй відгадку

Народжується з квітки,
Його всі люблять дітки,
Заліза в нім багато,
Рум'яне і хрустке.
А ну, скажіть, малята,
То що ж воно таке?

--	--	--	--	--	--








2. Відшукай та запиши речення.



3. Розв'яжи задачу та зроби обчислення

$$\left. \begin{array}{l} \text{Яблуко} - ? \\ \text{Яблуко} - 5 \end{array} \right\} 10$$

 = 2
  = 3
  = 4
  = 6

	+		+		+		+		=	




Завдання 3

Оціни себе


1. Прочитай загадку, розмалюй відгадку

Лампочка вгорі висіла,
 Стала смачна, пожовтіла.
 Діти лампочку зірвали,
 З апетитом скуштували.

--	--	--	--	--



2. Відшукай та запиши речення.



3. Розв'яжи задачу та зроби обчислення.

$$\left. \begin{array}{l} \text{грушка} - ? \\ \text{яблуко} - 5 \end{array} \right\} 10$$

= 2
 = 1
 = 5
 = 3

$$\text{banana} + \text{orange} + \text{purple grape} + \text{orange} + \text{banana} = \square$$




Завдання 4

Оціни себе


1. Прочитай загадку, розмалюй відгадку

Кажуть, щоб хвороб не знати,
 Треба всім мене вживати.
 Може, ви мене й з'їсте,
 Тільки сльози проллєте.



--	--	--	--	--



2. Відшукай та запиши речення.



3. Розв'яжи задачу та зроби обчислення

 - 3
 - 10

на? б.

7	-	3	=	
			+	5
			=	
	+	1	=	

	+	2	=	
	-	4	=	
6	+		=	




Завдання 5

Оціни себе


1. Прочитай загадку, розмалюй відгадку.

Зелені сережки
На гіллі висіли,
На сонечці підсмажились
І почервоніли!

--	--	--	--	--



2. Відшукай та запиши речення.



3. Розв'яжи задачу та зроби обчислення

$$\left. \begin{array}{l} \text{вишнями} - 6 \\ \text{вишнями} - 4 \end{array} \right\} ?$$

= 3 = 1 = 4 = 2

	+		+		+		+		=	<input type="text"/>
--	---	--	---	--	---	--	---	--	---	----------------------




Завдання 6

Оціни себе


1. Прочитай загадку, розмалюй відгадку

Ця жовтогаряча пані
В бархатистому жупані.
І солодка, і пригожа
На компот й варення гожа.



--	--	--	--	--	--	--	--












2. Відшукай та запиши речення.



3. Розв'яжи задачу та зроби обчислення

	= 6кг	} ?
	= 8кг	


 = 1	 = 2	 = 3	 = 4							
	+		+		+		+		=	<input type="text"/>



Завдання 7

1. Прочитай загадку, розмалюй відгадку

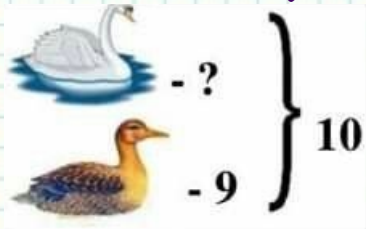
Он літає в небі птиця
 І нікого не боїться.
 Крила сизі розпустила,
 Ясне сонце заступила.
 А як гримне сиза птиця –
 З неба крешуть блискавиці.



2. Відшукай та запиши речення.



3. Розв'яжи задачу та зроби обчислення.



$$7 - \boxed{} = 2$$

$$2 + \boxed{} = 8$$

+		-	
4		3	
=		=	

$$\boxed{} - \boxed{} = 3$$

$$\boxed{} + 1 = \boxed{}$$



Завдання 8

Оціни себе


1. Прочитай загадку, розмалюй відгадку

В небі хмаронька пливла,
 хмарка сльозки пролила
 На капусту, буряки,
 На зелені огірки,
 І на трави, і на хвощ...
 То не сльзи - то йде...


--	--	--	--



2. Відшукай та запиши речення.



3. Розв'яжи задачу та зроби обчислення.



$9+4 = \square$

$8+4 = \square$

$5+5 = \square$

$9+3 = \square$

$4+1 = \square$

$3+6 = \square$

$4+6 = \square$

$9+4 = \square$




Завдання 9

Оціни себе


1. Прочитай загадку, розмалюй відгадку

Світить, світить, та не гасне
 Вогнище у небі ясне.
 Тільки що за чудасія:
 Взимку світить, та не гріє,
 Заглядає у віконце.
 Що це, діти?...

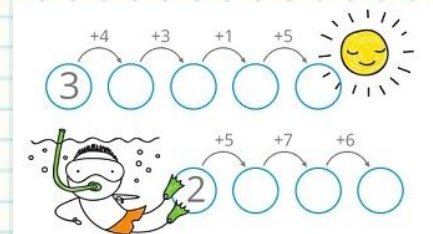
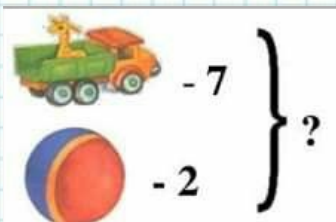
--	--	--	--	--



2. Відшукай та запиши речення.



3. Розв'яжи задачу та зроби обчислення.





Завдання 10

Оціни себе

1. Прочитай загадку, розмалюй відгадку

Понад річкою місток
Виріс із семи стрічок.
Та по ньому не піду,
Бо ще в воду упаду.



--	--	--	--	--	--	--

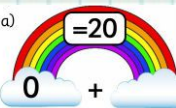









2. Відшукай та запиши речення.



3. Розв'яжи задачу та зроби обчислення.

	- 6	} 8
	- ?	

a)  = 20 0 + 	b)  = 20  + 8
c)  = 20  + 17	d)  = 20 11 + 




Завдання 11

Оціни себе



1. Прочитай загадку, розмалюй відгадку

Посмугована комашка
Працювати звикла тяжко,
Із квіток нектар збирає,
Мед смачнющий виробляє.
Робітниця ця мала
Називається ...

--	--	--	--	--





2. Відшукай та запиши речення.



www.shutterstock.com • 1079524001

3. Розв'яжи задачу та порівняй числа.

	-7	} ?
	-4	

19 ○ 16



18 ○ 17

0 ○ 19

12 ○ 13

10 ○ 14

11 ○ 11

Завдання 12




1. Прочитай загадку, розмалюй відгадку



Чудеса! Погляньте, дітки —
З квітки полетіла квітка!
В неї крильця кольорові,
Пурхає в гаю і в полі.
Як же зветься цей веселик?

Здогадалися?

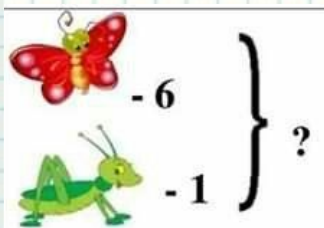
--	--	--	--	--	--	--	--



2. Відшукай та запиши речення.



3. Розв'яжи задачу та зроби обчислення.



$9 + \square = 15$	$\square + 4 = 11$
$\square + 5 = 11$	$9 + \square = 17$
$2 + \square = 10$	$\square + 6 = 9$
$\square + 7 = 17$	$3 + \square = 7$




Завдання 13

Оціни себе


1. Прочитай загадку, розмалюй відгадку

Музикант живе на лузі,
 Упізнай його, мій друже,
 Спинка, ноги, голова —
 Все зелене, як трава.
 Ще й швидкий, як вітерець,
 Милий ...



--	--	--	--	--

2. Відшукай та запиши речення.



3. Розв'яжи задачу та зроби обчислення.



$4 + \square = 15$	$\square + 6 = 8$
$\square + 6 = 9$	$0 + \square = 7$
$7 + \square = 14$	$\square + 1 = 9$
$\square + 4 = 8$	$5 + \square = 13$



Завдання 14


Оціни себе



1. Прочитай загадку, розмалюй відгадку


У річці, у ставі, у морі
Живе і не відає горя.
Дзьоба нема та дзьобає із гачків
Мушок, жучків, черв'ячків.

--	--	--	--

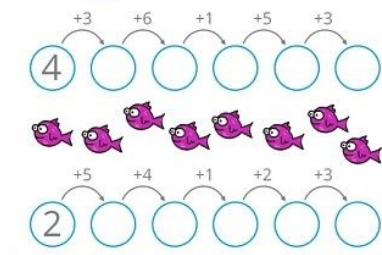
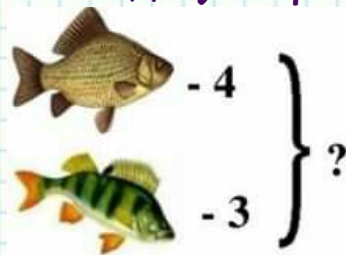


У С. БИЛОГОДА 1234 56789101112131415161718192021222324252627282930313233343536373839404142434445464748495051525354555657585960616263646566676869707172737475767778798081828384858687888990919293949596979899100

2. Відшукай та запиши речення.



3. Розв'яжи задачу та зроби обчислення.





Завдання 15

Оціни себе



1. Прочитай загадку, розмалюй відгадку

Свою ніжну павутину
 Він сплітає безупинно,
 Вісім лапок у комашки
 День і ніч працюють важко,
 Бо для мушок гамачок
 Виплітає ...

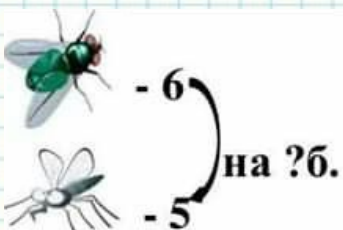
--	--	--	--	--	--	--




2. Відшукай та запиши речення.



3. Розв'яжи задачу та зроби обчислення.



5 +	= 9	2 +	= 9
		4 +	= 8
2 +	= 4	6 +	= 7
6 +	= 10	3 +	= 6



Завдання 16

Оціни себе


1. Прочитай загадку, розмалюй відгадку

Має ноги коротенькі,
Два пера в хвості довгенькі,
У повітрі все літає,
Безліч мошок поїдає.

--	--	--	--	--	--	--	--



2. Відшукай та запиши речення.



3. Розв'яжи задачу та зроби обчислення.



$7 + \square = 12$	$\square + 4 = 10$
$\square + 9 = 10$	$10 + \square = 13$
$3 + \square = 14$	$\square + 8 = 11$
$\square + 6 = 8$	$0 + \square = 12$




Завдання 17

Оціни себе


1. Прочитай загадку, розмалюй відгадку

Не гіркий і не солоний,
А солодкий і червоний.
Як же зветься цей товстун?
Здогадалися? ...

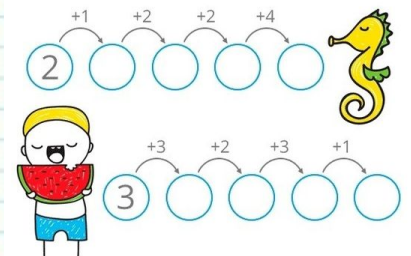
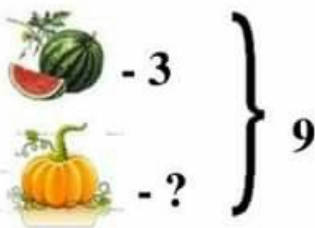
--	--	--	--	--



2. Відшукай та запиши речення.



3. Розв'яжи задачу та зроби обчислення





Завдання 18

Оціни себе


1. Прочитай загадку, розмалюй відгадку

Виріс в полі дім,
 Повно зерна в нім.
 Стіни позолочені.
 Вікна заколочені.
 На стовпі гойдається,
 Багатством пишається.



--	--	--	--	--	--	--	--

2. Відшукай та запиши речення.



3. Розв'яжи задачу та зроби обчислення.




$11 + 1 =$

$16 + 3 =$

$19 + 0 =$

$13 + 2 =$

 $10 + 8 =$

$13 + 3 =$

$10 + 8 =$

$11 + 7 =$



Завдання 19

Оціни себе



1. Прочитай загадку, розмалюй відгадку

Наче сонце серединка,
 Пелюстків біла хустинка.
 Знає бджілка і мурашка,
 Що звуть квіточку ...



--	--	--	--	--	--	--	--



2. Відшукай та запиши речення.



3. Розв'яжи задачу та зроби обчислення.

	- 7	} 10
	- ?	

$\square + 4 = 14$	$7 + \square = 14$
$7 + \square = 13$	$\square + 7 = 11$
$\square + 5 = 12$	$3 + \square = 12$
$8 + \square = 16$	$\square + 9 = 14$




Завдання 20.

Оціни себе


1. Прочитай загадку, розмалюй відгадку

Навесні веселить,
Влітку холодить,
Грибами, ягодами обдаровує,
Восени засинає,
Навесні знову оживає.

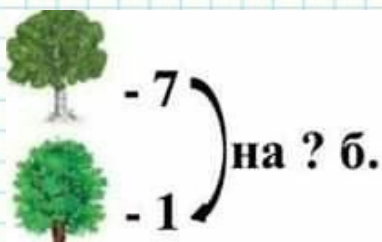
--	--	--



2. Відшукай та запиши речення.



3. Розв'яжи задачу та зроби обчислення



$13 + 4 =$

$18 + 1 =$

$16 + 2 =$

$17 + 2 =$

$16 + 1 =$

$13 + 4 =$

$15 + 4 =$

$11 + 5 =$





Завдання 21.


Оціни себе

1. Прочитай загадку, розмалюй відгадку

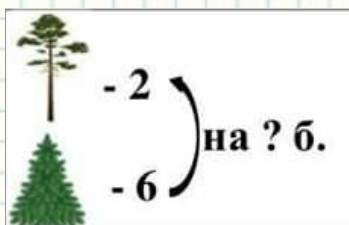
Сидить — зеленіє,
Падає — жовтіє,
Лежить — чорніє.









2. Відшукай та запиши речення.



3. Розв'яжи задачу та зроби обчислення



 $3+6 =$ <input type="text"/>	 $7+4 =$ <input type="text"/>
 $5+7 =$ <input type="text"/>	 $7+7 =$ <input type="text"/>
 $6+7 =$ <input type="text"/>	 $8+2 =$ <input type="text"/>



Завдання 22.

Оціни себе


1. Прочитай загадку, розмалюй відгадку

У гаю, на лузі, в полі —
 Скільки там квіток!
 Ми нарвали їх доволі,
 Потім посідали в полі,
 Щоб сплести...

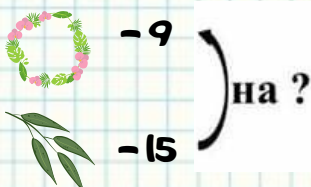
--	--	--	--	--



2. Відшукай та запиши речення.



3. Розв'яжи задачу та зроби обчислення.



$18 - 3 = \underline{\quad}$

$16 - 3 = \underline{\quad}$

$19 - 5 = \underline{\quad}$

$17 - 5 = \underline{\quad}$

$18 - 5 = \underline{\quad}$

$15 - 5 = \underline{\quad}$

$19 - 4 = \underline{\quad}$

$14 - 3 = \underline{\quad}$




Завдання 23.

Оціни себе


1. Прочитай загадку, розмалюй відгадку

Сині зірочки, пухнасті,
виглядають з жита,
мов веселі оченята.
Як їх не любити!

--	--	--	--	--	--	--	--



2. Відшукай та запиши речення.



3. Розв'яжи задачу та зроби обчислення.



- 15



- 10

) на ? б

$18 - 2 = \underline{\quad}$

$16 - 4 = \underline{\quad}$

$19 - 8 = \underline{\quad}$

$17 - 4 = \underline{\quad}$

$18 - 4 = \underline{\quad}$

$15 - 3 = \underline{\quad}$

$19 - 6 = \underline{\quad}$

$14 - 2 = \underline{\quad}$



Завдання 24.

Оціни себе





1. Прочитай загадку, розмалюй відгадку.

Яскраві пелюстки
І запах пречудовий.
Нам хочеться усім
Побачити їх знову.



--	--	--	--	--



2. Відшукай та запиши речення.



3. Розв'яжи задачу та зроби обчислення.

	-10) на ? б.
	-12	

$18 - 6 = \underline{\quad}$

$16 - 5 = \underline{\quad}$

$19 - 7 = \underline{\quad}$

$17 - 2 = \underline{\quad}$

$18 - 8 = \underline{\quad}$

$15 - 1 = \underline{\quad}$

$19 - 2 = \underline{\quad}$

$14 - 4 = \underline{\quad}$



Завдання 25.

Оціни себе


1. Прочитай загадку, розмалюй відгадку

В небі ластівка летить,
 З вітром листя шелестить,
 Воду п'є лелека.
 Сонце палить. Спекса.
 Дозріває жито.
 Яка пора?


--	--	--	--



2. Відшукай та запиши речення.



3. Розв'яжи задачу та зроби обчислення




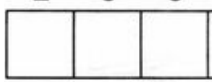


Завдання 26.


Оціни себе

1. Прочитай загадку, розмалюй відгадку

Солодкий, а не цукор,
Лепкий, а не клей,
Смачний, а не цукерка.



2. Відшукай та запиши речення.



3. Розв'яжи задачу та зроби обчислення.

 - 2

 - ?, на 5 б.

20 + 30 =

70 + 10 =

10 + 25 =

45 + 15 =

25 + 15 =

80 + 10 =




Завдання 28.

Оціни себе


1. Прочитай загадку, розмалюй відгадку

Зелений чуб, червоний бік,
Смачний із нього чавлять сік.
Гадзині варять з ним борщі,
Росте в городі на кущі.

--	--	--	--	--	--



2. Відшукай та запиши речення.



3. Розв'яжи задачу та зроби обчислення.



$25 + 15 = \dots\dots$

$80 + 10 = \dots\dots$

$75 + 10 = \dots\dots$

$10 + 20 = \dots\dots$

$50 + 20 = \dots\dots$

$30 + 40 = \dots\dots$



Завдання 29.

Оціни себе


1. Прочитай загадку, розмалюй відгадку

Солоденьке, як медок,
Холодненьке, як льодок.
Наша мама з магазину
Принесла в обгортці зиму.

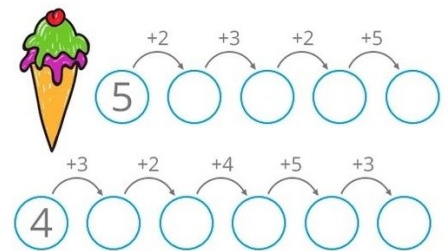
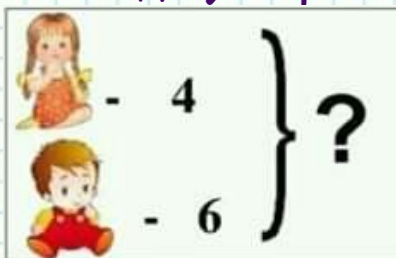
--	--	--	--	--	--	--	--	--	--



2. Відшукай та запиши речення.



3. Розв'яжи задачу та зроби обчислення.






Завдання 30.

Оціни себе


1. Прочитай загадку, розмалюй відгадку

Ця червона намистинка
 Має крильця у краплинках,
 Невеличка, гарна дуже,
 Упізнай її, мій друже –
 На твою долонечку
 Прилетіло...



--	--	--	--	--	--	--



2. Відшукай та запиши речення.



3. Розв'яжи задачу та порівняй числа.

	-6	} ?
	-5	

19 ○ 14



10 ○ 5

18 ○ 0

13 ○ 20

20 ○ 20

16 ○ 14



Люба дитино!

Ти стійко витримала
щоденні тренування.
Дякую тобі
за твою наполегливість,
увагу та старанність!
Ти заслуговуєш на повагу!
Пам'ятай -
успіх завжди приходить
лише до того, хто його прагне,
хто наполегливо йде
до своєї мети, мрії!

