

**Олімпіада з історії. II тур. 2024 р.
8 клас**


1. Тести (по 1 балу – 10 балів)



1. Хто із запропонованих діячів 1051 року був призначений першим київським митрополитом?:
А) Агапіт; Б) Нестор; В) Іларіон; Г) Алімпій; Д) Сильвестр.
2. Назвіть дату захоплення і пограбування монголами хана Батия Києва:
А. 1223 р. Б. 1240 р. В. 1245 р. Г. 1253 р. Д. 1259 р.
3. Яку назву мала Запорозька Січ, що існувала під час початку національно-визвольної війни під проводом Богдана Хмельницького?
А) Базавлуцька; Б) Чортомлицька; В) Кам'янська; Г) Микитинська; Д) Олешківська.
4. Вкажіть князя ВКЛ, що приєднав найбільше руських земель до Литви:
А. Гедимін; Б. Любарт; В. Ольгерд; Г. Вітовт; Д. Ягайло.
5. Яка із запропонованих уній Литви та Польщі утворювала Річ Посполиту?:
А) Люблінська; Б) Городельська; В) Віленська; Г) Кревська; Д) Флорентійська.
6. Київське братство при Богоявленському монастирі було засноване у?
А) 1576 р.; Б) 1615 р.; В) 1632 р.; Г) 1648 р.; Д) 1676 р.
7. Хто із українських діячів був ректором Болонського університету?
А. П. Беринда; Б. І. Федоров; В. Ю. Дрогобич; Г. П. Русин; Д. П. Могила.
8. Хто із українських козацьких гетьманів прославився взяттям Кодацької фортеці?
А) Д. Вишневецький; Б) П. Сагайдачний; В) М. Дорошенко; Г) І. Сулима; Д) П. Бут.
9. Кримське ханство визнало васальну залежність від Османської імперії у:
А) 1478 р.; Б) 1489 р.; В) 1492 р.; Г) 1501 р.; Д) 1515 р.
10. Перша братська школа на українських землях була створена у місті:
А. Київ; Б. Острог; В. Львів; Г. Луцьк; Д. Новгород-Сіверськ.

2. Підпишіть хто зображений на портретах? (по 1 балу – всього 10 балів)





Е

Є

Ж

З

І



3. Розташуйте події у хронологічній послідовності, вписавши літери у віконечка.
Вкажіть дати подій.

(по 1 балу – 8 балів)

1	2	3	4	5	6	7	8

- А. Хрещення Русі Володимиром Великим
- В. Укладення Кревської унії
- С. Проголошення «Ординації Війська Запорозького реєстрового» в Києві
- Д. Коронація Данила Галицького
- Е. Утворення реєстрового козацтва на українських землях
- Ф. Створення уніатської церкви на українських землях
- Г. Смерть Петра Сагайдачного
- Н. Битва під Грюнвальдом


4. Підпишіть назви архітектурних пам'яток розташованих в Україні? (0-4 бали)



А



Б



В



Г

5. Встановіть хронологічну послідовність подій (всього – 12 балів)

5.1. Встановіть хронологічну послідовність подій, які зображені на картинках (по 1 балу за правильне розташування – 4 б.)



А



Б



В




Г

5.1			
1			
2			
3			
4			

5.2. Встановіть хронологічну послідовність повстань, керівниками яких були діячі зображені на портретах (по 1 балу за правильне розташування – 4 б.)




А



Б



В



Г

5.2			
1			
2			
3			
4			

5.3. Встановіть хронологічну послідовність появи пам'яток мистецтва на українських землях (по 1 балу за правильне розташування – 4 б.)



А



В



Г



	5.3			
1				
2				
3				
4				

6. Визначте ім'я особи, про яку йдеться. (по 1 балу – всього 6 балів).

А) Видатний український політичний і культурний діяч, князь. Володів великими маєтностями. Був претендентом на польський престол. Послідовно захищаючи українські політичні права, став одним із лідерів опозиції, яка не підтримувала укладення Люблінської унії. Виступав за те, щоб Україна увійшла на рівних правах з Польщею і Литвою до нового федеративного державного об'єднання — Речі Посполитої. Відіграв значну роль у національно-культурному житті України. _____

Б) Видатний друкар і книговидавець. Працював в Україні. За допомогою львівських ремісників видав перші в Україні друковані книги: «Апостол» і «Буквар» — найстаріший у Східній Європі друкований підручник. Заснував Острозьку друкарню, де під його керівництвом надруковано грецько-старослов'янський буквар, «Книгу Нового Завіту», Острозьку Біблію. Брав участь у редагуванні та оформленні книг, писав післямови, був талановитим новатором у галузі поліграфічної техніки. _____

В) Український князь, перший з достовірно відомих козацьких гетьманів. Походив зі старовинного волинського роду. Збудував на о. Мала Хортиця замок, який поклав початок Запорозькій Січі. У 1557—1558 рр. відбивав напади кримських татар на Хортицю. Здійснив вдалий похід у Крим, визволивши з неволі кілька тисяч українських невільників. Під час походу до Молдавії був взятий в полон і виданий турецькому уряду. _____

Г) Видатний український політичний і військовий діяч і козацький гетьман. Брав участь у Хотинській війні. У 1625 р. брав участь у національно-визвольному повстанні. Після битви біля Курукового озера був обраний гетьманом і уклав Куруківську угоду. Восени 1626 р. козацькі війська на чолі з цим гетьманом розгромили велику кримську орду під Білою Церквою. Загинув у 1628 р. _____

Д) Гетьман українського реєстрового козацтва, видатний полководець, відомий політичний та культурно-просвітницький діяч. Прославився як організатор військових походів запорозьких козаків проти турків і татар. Разом з усім Військом Запорозьким вступив до Київського братства. Очолив 40-тисячну українську армію, яка, приєднавшись до польських військ, відіграла вирішальну роль у розгромі турків у битві під Хотиним. _____

Е) Видатний український церковний і культурний діяч. Відстоював права Української православної церкви. Під його керівництвом було здійснено реформу церковного життя. У 1631 р. відкрив Лаврську школу, яка потім була об'єднана з Київською братською школою. Реставрував Софійський собор, а в 1635 р. дав доручення розкопати зруйновану татаро-монголами Десятинну церкву. Сприяв письменникам і художникам, відкрив низку друкарень. _____.

7. Поясніть терміни (по 2 бали – всього 10 балів).

А) Клейноди - _____

Б) Братства - _____

В) Гравюра - _____


Г) Факторія - _____

Д) Індульгенція - _____

8. Складіть схему «Військо Запорозьке — військово-політична організація українського козацтва (до 30-х рр. XVII ст.) (0-10 балів)

9. Завдання на встановлення відповідності (всього – 12 балів).


9.1. Встановіть відповідність між пам'яткою мистецтва та країною, в якій вона знаходиться (по 1 балу за правильну відповідність – 4 б.)




А



Б



В



Г

1. Мексика
2. Перу
3. Україна
4. Італія
5. Індія

А	Б	В	Г


9.2. Встановіть відповідність між портретами керівників країн та назвами територій колоній, що їм належали (по 1 балу за правильну відповідність – 4 б.)



А



Б



В



Г

1. острів Суматра
2. острів Куба
3. Момбаса
4. Гудзон
5. Монреаль

А	Б	В	Г

9.3. Встановіть відповідність між подією, що зображена та особою пов'язаною із нею (по 1 балу за правильну відповідність – 4 б.)



А



Б



В



Г

1. Леонардо да Вінчі
2. Ернан Кортес
3. Фернан Магеллан
4. Йоганн Гутенберг
5. Мартін Лютер

А	Б	В	Г

