




Нова українська школа

Наталія Листопад




Мої  
досягнення




4  
КЛАС



Тематичні діагностувальні  
роботи з математики



Blank writing area with four horizontal lines.














## Самостійна робота № 4

## I варіант

1. Скільки всього кубиків зображено на малюнку?  
Запиши це число.



2. Запиши цифрами числа: *дві тисячі сто тридцять дев'ять, одна тисяча тринадцять, сім тисяч вісімсот, дев'ять тисяч п'ятдесят три, чотири тисячі сто сім.*


3. Запиши «сусідів» кожного числа.


4. Знайди значення кожної суми.

$$4000 + 700 + 30 + 6 = \square\square\square\square$$

$$3000 + 40 + 2 = \square\square\square\square$$

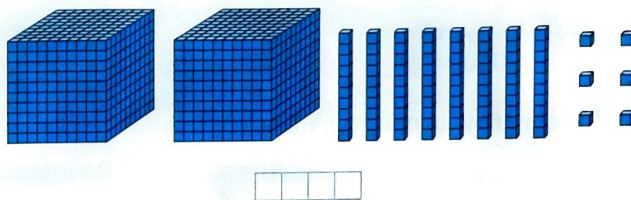
$$9000 + 600 + 8 = \square\square\square\square$$

$$1000 + 1 = \square\square\square\square$$

## Самостійна робота № 4

## II варіант

1. Скільки всього кубиків зображено на малюнку?  
Запиши це число.



2. Запиши цифрами числа: *сім тисяч двісті п'ятнадцять, три тисячі дев'ятнадцять, дев'ять тисяч сто, п'ять тисяч п'ятдесят п'ять, одна тисяча сто.*


3. Запиши «сусідів» кожного числа.


4. Знайди значення кожної суми.

$$8000 + 300 + 30 + 9 = \square\square\square\square$$

$$3000 + 500 + 2 = \square\square\square\square$$

$$6000 + 80 + 5 = \square\square\square\square$$

$$7000 + 7 = \square\square\square\square$$













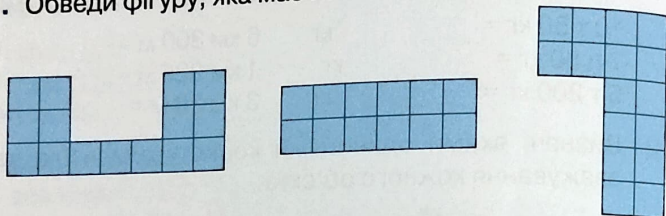





## Самостійна робота № 8

## I варіант

1. Обведи фігуру, яка має найбільшу площу.

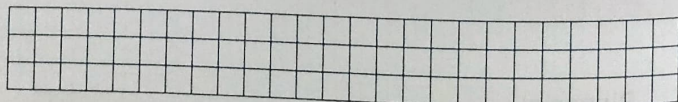
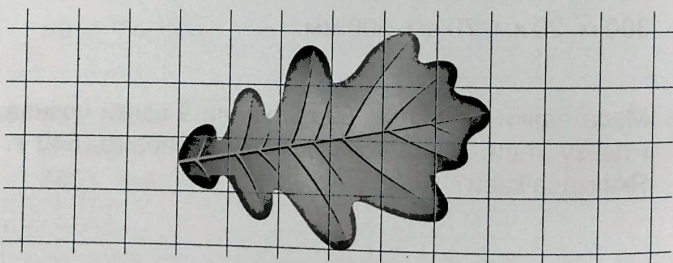


2. Обчисли площу прямокутника, ширина якого дорівнює 9 м, а довжина — утричі більша.



Відповідь:

3. Обчисли площу листка за допомогою палетки.

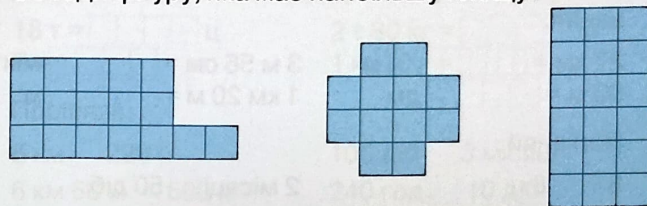


Відповідь:


## Самостійна робота № 8

## II варіант

1. Обведи фігуру, яка має найбільшу площу.

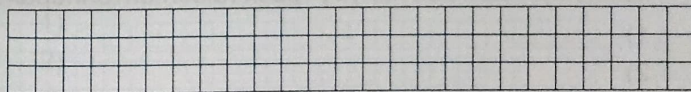
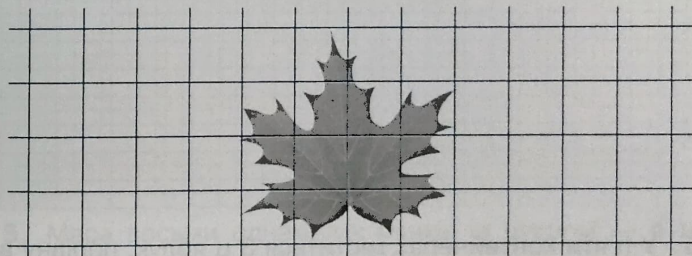


2. Обчисли площу прямокутника, довжина якого дорівнює 12 дм, а ширина — удвічі менша.



Відповідь:

3. Обчисли площу листка за допомогою палетки.



Відповідь:



## Тематична робота № 3

## I варіант

1. Кожну довжину запиши в менших одиницях вимірювання.

$27 \text{ км} = \square \square \square \square \square \text{ м}$

$3 \text{ м } 56 \text{ см} = \square \square \square \text{ мм}$

$50 \text{ м} = \square \square \square \square \text{ дм}$

$1 \text{ км } 20 \text{ м} = \square \square \square \text{ м}$

2. Порівняй.

$8 \text{ т} \square 8 \text{ ц}$

$2 \text{ місяці} \square 50 \text{ діб}$

$3 \text{ т } 6 \text{ ц} \square 306 \text{ ц}$

$5 \text{ діб} \square 120 \text{ год}$

$2 \text{ кг} \square 900 \text{ г}$

$1 \text{ рік} \square 500 \text{ діб}$

$1 \text{ га} \square 50 \text{ а}$

$180 \text{ хв} \square 6 \text{ год}$

3.  $20 \text{ дм} \cdot 8 = \square \square \square \square \square$

$78 \text{ год} : 3 = \square \square \square \square \square$


$45 \text{ а} : 9 = \square \square \square \square \square$

$12 \text{ т} \cdot 5 = \square \square \square \square \square$

$50 \text{ км} : 5 \text{ км} = \square \square \square \square \square$

$30 \text{ хв} \cdot 6 = \square \square \square \square \square$

4. Побудуй прямокутник зі сторонами 3 см і 6 см. Знайди його периметр і площу.



5. У п'яти контейнерах міститься 3 ц яблук, порівну в кожному. Яка маса яблук у трьох таких контейнерах?

1)  $\square \square \square \square \square$

2)  $\square \square \square \square \square$

Відповідь:  $\square \square \square \square \square$

## Тематична робота № 3

## II варіант

1. Кожну масу запиши в менших одиницях вимірювання.

$18 \text{ т} = \square \square \square \square \text{ ц}$

$2 \text{ т } 80 \text{ кг} = \square \square \square \square \text{ кг}$

$7 \text{ т} = \square \square \square \square \text{ кг}$

$1 \text{ кг } 10 \text{ г} = \square \square \square \square \text{ г}$

2. Порівняй.

$8 \text{ км} \square 220 \text{ м}$

$100 \text{ діб} \square 3 \text{ місяці}$

$6 \text{ км } 60 \text{ м} \square 660 \text{ м}$

$240 \text{ год} \square 10 \text{ діб}$

$5 \text{ км} \square 700 \text{ м}$

$1 \text{ століття} \square 75 \text{ років}$

$5 \text{ см}^2 \square 5 \text{ м}^2$

$300 \text{ хв} \square 5 \text{ год}$

3.  $30 \text{ ц} \cdot 4 = \square \square \square \square \square$

$400 \text{ км} : 10 = \square \square \square \square \square$


$36 \text{ год} + 15 \text{ год} = \square \square \square \square \square$

$15 \text{ га} \cdot 3 = \square \square \square \square \square$

$40 \text{ хв} : 8 \text{ хв} = \square \square \square \square \square$

$3 \text{ год} \cdot 5 = \square \square \square \square \square$

4. Побудуй прямокутник зі сторонами 3 см і 5 см. Знайди його периметр і площу.



5. Маса восьми однакових мішків із цукром — 4 ц. Яка маса п'яти таких мішків?

1)  $\square \square \square \square \square$

2)  $\square \square \square \square \square$

Відповідь:  $\square \square \square \square \square$

























































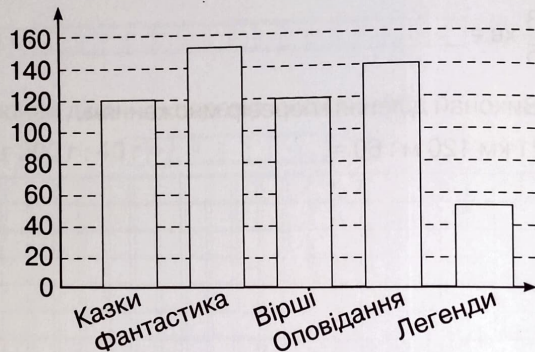




## Самостійна робота № 19

### I варіант

1. Розглянь діаграму розподілу за жанрами художньої літератури у шкільній бібліотеці. Познач правильні твердження.




- 1) Книжок із фантастикою — найбільше.
- 2) Книжок з легендами у 3 рази менше, ніж книжок з казками.
- 3) Книжок з казками більше, ніж книжок з оповіданнями.
- 4) Книжок з оповіданнями більше, ніж усього книжок з казками та легендами.
- 5) Книжок з казками й віршами — однакова кількість.
- 6) Книжок з оповіданнями на 100 більше, ніж книжок з легендами.


2. Виконай ділення. Зроби перевірку.

$$140 \text{ грн } 80 \text{ коп.} : 2 \text{ грн } 20 \text{ коп.} = \square \square \square \square \square \square$$

$$14 \text{ км} : 250 \text{ м} = \square \square \square \square \square \square$$



3. У цистерну для поливання квітів насос щохвилини накачує 40 л води. Зливний отвір у цистерні не закритий і щохвилини з неї виливається у квітник 15 л води. Через скільки хвилин порожня до цього цистерна буде заповнена, якщо її місткість — 300 л?



Відповідь:



























Навчальне видання

ЛИСТОПАД *Наталія Петрівна*

«**МОЇ ДОСЯГНЕННЯ**»

**Тематичні діагностувальні роботи з математики**

(складова частина НМК з математики для 4 класу)

**4 клас**

Навчальний посібник

Схвалено для використання в освітньому процесі експертною комісією  
з педагогіки та методики початкової освіти

Головна редакторка *І. В. Красуцька*  
Редакторка *І. В. Луценко*  
Головна художниця *І. П. Медведовська*  
Коректорка *Л. А. Еско*

Формат 70×100 1/16  
Ум. друк. арк. 5,2. Обл.-вид. арк. 4,68.  
Зам. № 2315  
Наклад 70 030 пр.

**ТОВ «Український освітянський видавничий центр «Оріон»**

Свідоцтво про внесення суб'єкта видавничої справи до Державного реєстру  
видавців, виготовлювачів і розповсюджувачів видавничої продукції —  
серія ДК № 4918 від 17.06.2015 р.

Адреса видавництва: вул. Миколи Шепелєва, 2, м. Київ, 03061

☎ (067) 543-05-26 (097) 330-10-83

@ [ikras@ukr.net](mailto:ikras@ukr.net); [orioncentr@ukr.net](mailto:orioncentr@ukr.net)

Наш сайт: [www.orioncentr.com.ua](http://www.orioncentr.com.ua)

📘 Сторінка у Facebook: **УОБЦ «Оріон»**

**Віддруковано**

ТОВ «ВБ «Аванпост-Прим» вул. Сурикова, 3/3, м. Київ, 03035  
Свідоцтво суб'єкта видавничої справи ДК № 3843 від 22.07.2010 р.